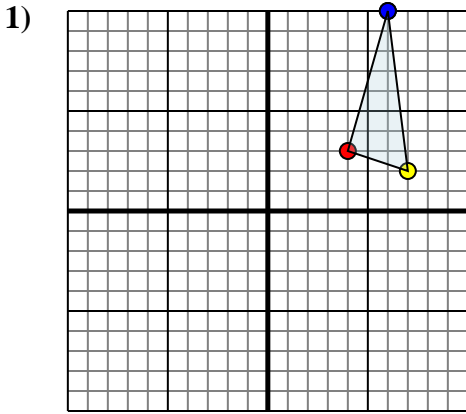




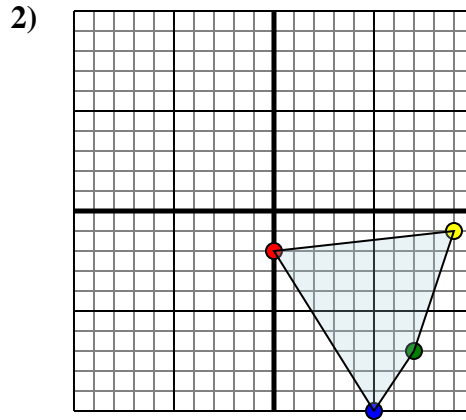
Reflejar cada forma como se describe.



La forma anterior tiene las siguientes coordenadas::

- A. (4,3)
- B. (7,2)
- C. (6,10)

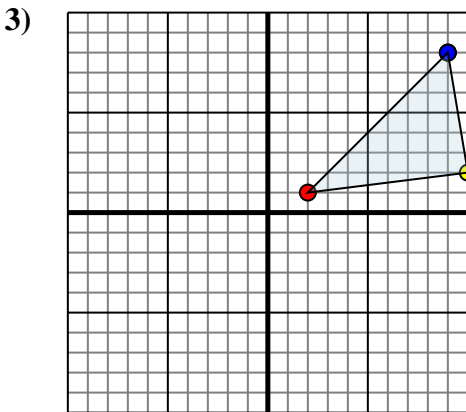
Reflejar la forma sobre el eje x.



La forma anterior tiene las siguientes coordenadas::

- A. (0,-2)
- B. (9,-1)
- C. (7,-7)
- D. (5,-10)

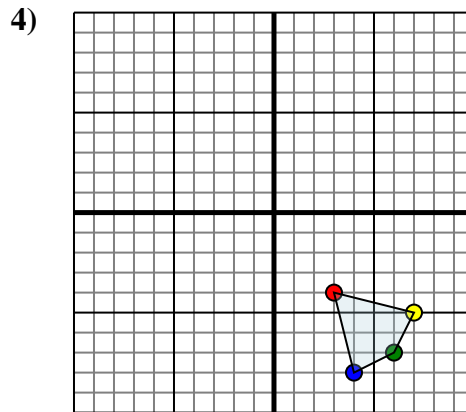
Reflejar la forma sobre el eje x.



La forma anterior tiene las siguientes coordenadas::

- A. (2,1)
- B. (10,2)
- C. (9,8)

Reflejar la forma sobre el eje x.



La forma anterior tiene las siguientes coordenadas::

- A. (3,-4)
- B. (7,-5)
- C. (6,-7)
- D. (4,-8)

Reflejar la forma sobre el eje x.

Respuestas

1a. _____

1b. _____

1c. _____

1. Grafica

2a. _____

2b. _____

2c. _____

2d. _____

2. Grafica

3a. _____

3b. _____

3c. _____

3. Grafica

4a. _____

4b. _____

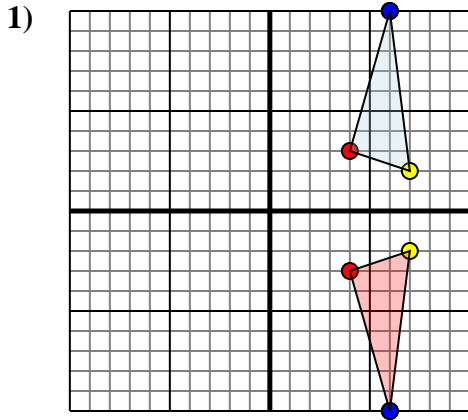
4c. _____

4d. _____

4. Grafica



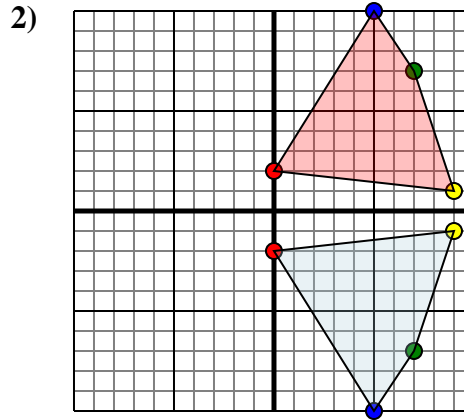
Reflejar cada forma como se describe.



La forma anterior tiene las siguientes coordenadas::

- A. (4,3)
- B. (7,2)
- C. (6,10)

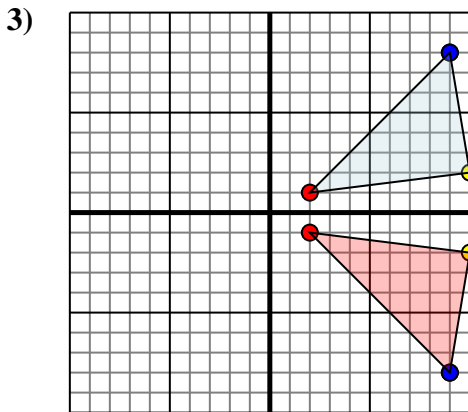
Reflejar la forma sobre el eje x.



La forma anterior tiene las siguientes coordenadas::

- A. (0,-2)
- B. (9,-1)
- C. (7,-7)
- D. (5,-10)

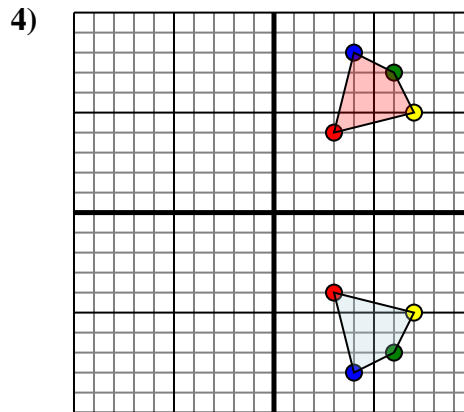
Reflejar la forma sobre el eje x.



La forma anterior tiene las siguientes coordenadas::

- A. (2,1)
- B. (10,2)
- C. (9,8)

Reflejar la forma sobre el eje x.



La forma anterior tiene las siguientes coordenadas::

- A. (3,-4)
- B. (7,-5)
- C. (6,-7)
- D. (4,-8)

Reflejar la forma sobre el eje x.

Respuestas

1a. (4,-3)

1b. (7,-2)

1c. (6,-10)

1. Grafica

2a. (0,2)

2b. (9,1)

2c. (7,7)

2d. (5,10)

2. Grafica

3a. (2,-1)

3b. (10,-2)

3c. (9,-8)

3. Grafica

4a. (3,4)

4b. (7,5)

4c. (6,7)

4d. (4,8)

4. Grafica