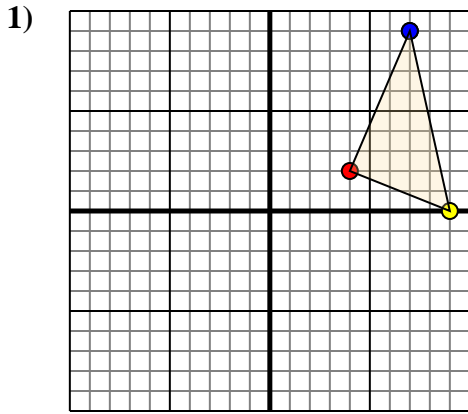




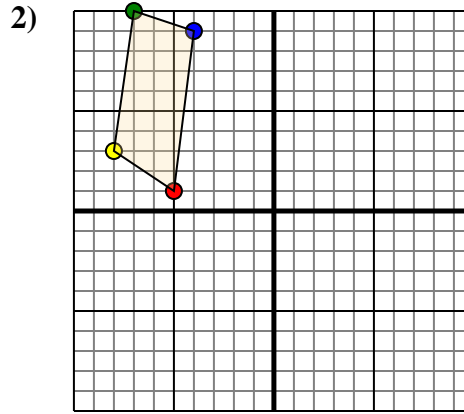
Trasladar cada forma como se describe.



La forma anterior tiene las siguientes coordenadas:

- A. (4,2)
- B. (9,0)
- C. (7,9)

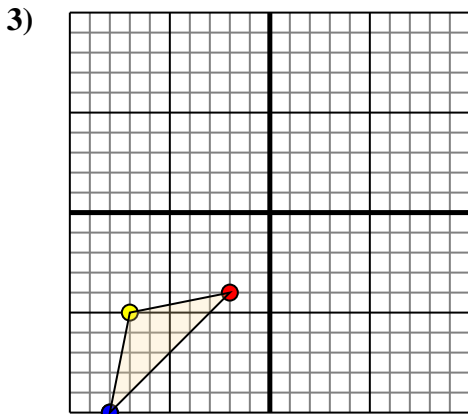
Mueva la forma 3 unidades a la izquierda y 3 unidades a la abajo.



La forma anterior tiene las siguientes coordenadas:

- A. (-5,1)
- B. (-8,3)
- C. (-7,10)
- D. (-4,9)

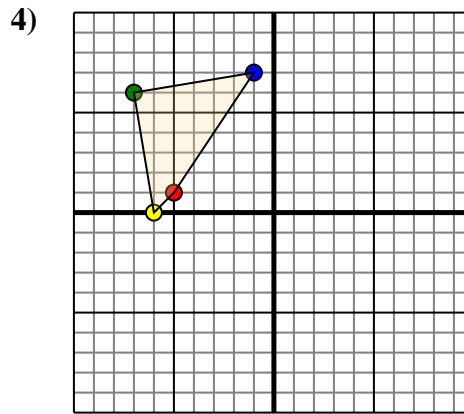
Mueva la forma 6 unidades a la derecha y 5 unidades a la abajo.



La forma anterior tiene las siguientes coordenadas:

- A. (-2,-4)
- B. (-7,-5)
- C. (-8,-10)

Mueva la forma 6 unidades a la derecha y 3 unidades a la arriba.



La forma anterior tiene las siguientes coordenadas:

- A. (-5,1)
- B. (-6,0)
- C. (-7,6)
- D. (-1,7)

Mueva la forma 7 unidades a la derecha y 8 unidades a la abajo.

Respuestas

1a. _____

1b. _____

1c. _____

1. gráfica

2a. _____

2b. _____

2c. _____

2d. _____

2. gráfica

3a. _____

3b. _____

3c. _____

3. gráfica

4a. _____

4b. _____

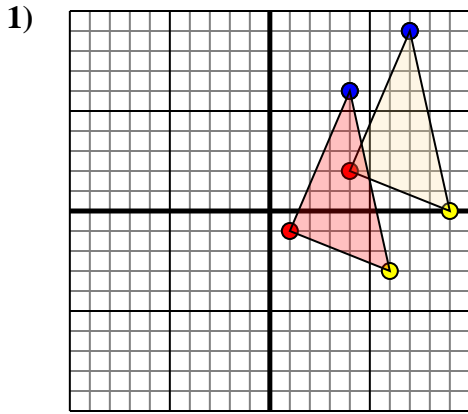
4c. _____

4d. _____

4. gráfica



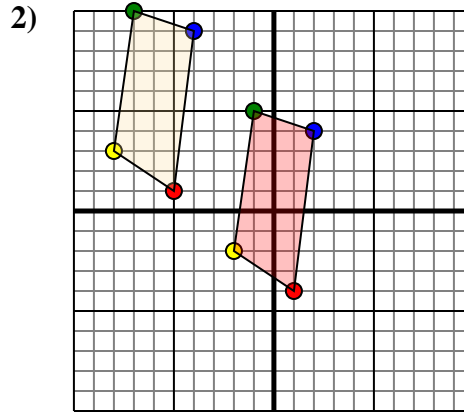
Trasladar cada forma como se describe.



La forma anterior tiene las siguientes coordenadas:

- A. (4,2)
- B. (9,0)
- C. (7,9)

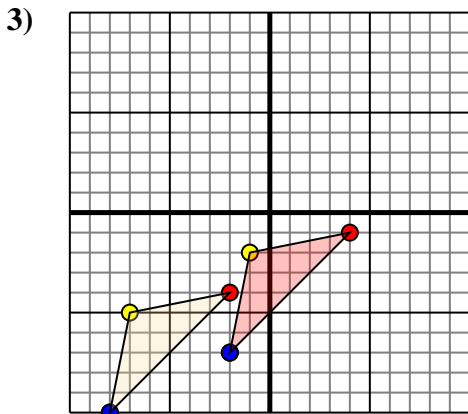
Mueva la forma 3 unidades a la izquierda y 3 unidades a la abajo.



La forma anterior tiene las siguientes coordenadas:

- A. (-5,1)
- B. (-8,3)
- C. (-7,10)
- D. (-4,9)

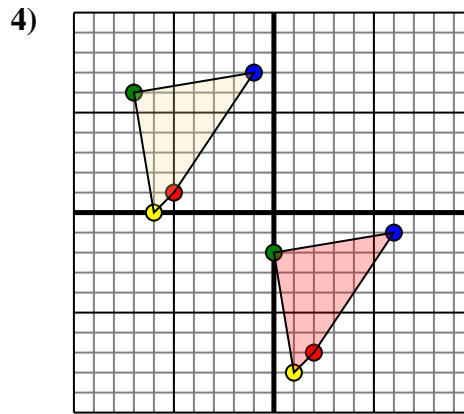
Mueva la forma 6 unidades a la derecha y 5 unidades a la abajo.



La forma anterior tiene las siguientes coordenadas:

- A. (-2,-4)
- B. (-7,-5)
- C. (-8,-10)

Mueva la forma 6 unidades a la derecha y 3 unidades a la arriba.



La forma anterior tiene las siguientes coordenadas:

- A. (-5,1)
- B. (-6,0)
- C. (-7,6)
- D. (-1,7)

Mueva la forma 7 unidades a la derecha y 8 unidades a la abajo.

Respuestas

1a. (1,-1)

1b. (6,-3)

1c. (4,6)

1. gráfica

2a. (1,-4)

2b. (-2,-2)

2c. (-1,5)

2d. (2,4)

2. gráfica

3a. (4,-1)

3b. (-1,-2)

3c. (-2,-7)

3. gráfica

4a. (2,-7)

4b. (1,-8)

4c. (0,-2)

4d. (6,-1)

4. gráfica