



Medir cada una de las barras (en centímetros) y después generar un diagrama basado en la información.

1)




2)




3)



4)



5)




6)



7)



8)




9)



10)



11)



12)



13)



14)



15)




Diagrama de puntos

Respuestas

1. _____

2. _____

3. _____

4. _____

5. _____

6. _____

7. _____

8. _____

9. _____

10. _____

11. _____

12. _____


13. _____

14. _____

15. _____



Medir cada una de las barras (en centímetros) y después generar un diagrama basado en la información.



Respuestas

1. 6
2. 4
3. 5
4. 2
5. 5
6. 10
7. 5
8. 6
9. 5
10. 6
11. 10
12. 2
13. 10
14. 2
15. 10