



Medir cada una de las barras (en centímetros) y después generar un diagrama basado en la información.

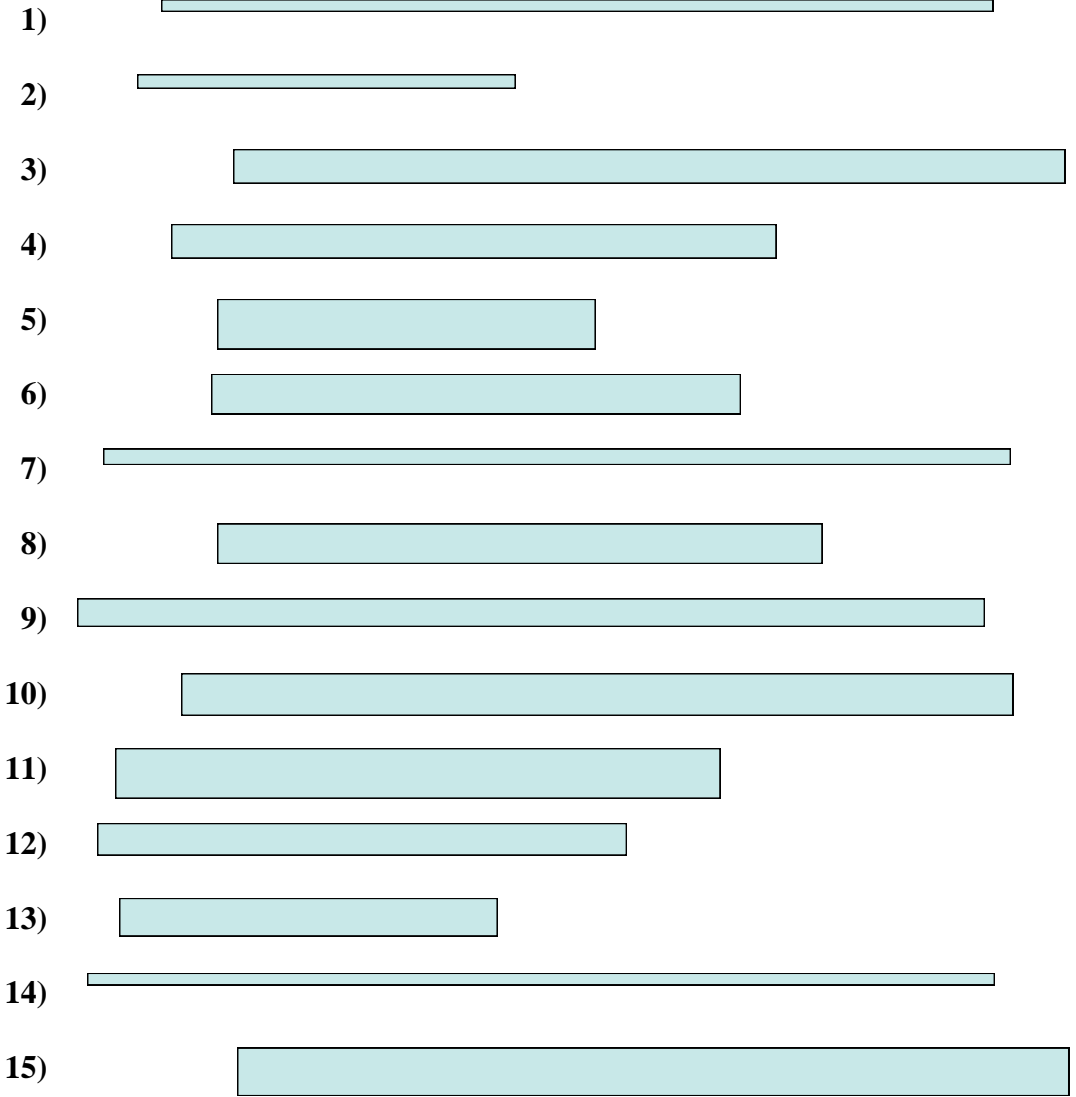


Diagrama de puntos

Respuestas

- 1. _____
- 2. _____
- 3. _____
- 4. _____
- 5. _____
- 6. _____
- 7. _____
- 8. _____
- 9. _____
- 10. _____
- 11. _____
- 12. _____
- 13. _____
- 14. _____
- 15. _____



Medir cada una de las barras (en centímetros) y después generar un diagrama basado en la información.


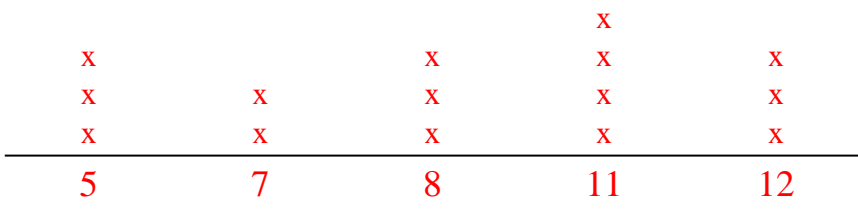


Diagrama de puntos



Respuestas


- 1. 11
- 2. 5
- 3. 11
- 4. 8
- 5. 5
- 6. 7
- 7. 12
- 8. 8
- 9. 12
- 10. 11
- 11. 8
- 12. 7
- 13. 5
- 14. 12
- 15. 11



Medir cada una de las barras (en centímetros) y después generar un diagrama basado en la información.

Respuestas

1)



1. _____

2)




2. _____

3)




3. _____

4)




4. _____

5)




5. _____

6)



6. _____

7)




7. _____

8)



8. _____

9)



9. _____

10)



10. _____

11)



11. _____

12)




12. _____

13)




13. _____

14)



14. _____

15)



15. _____

Diagrama de puntos



Medir cada una de las barras (en centímetros) y después generar un diagrama basado en la información.

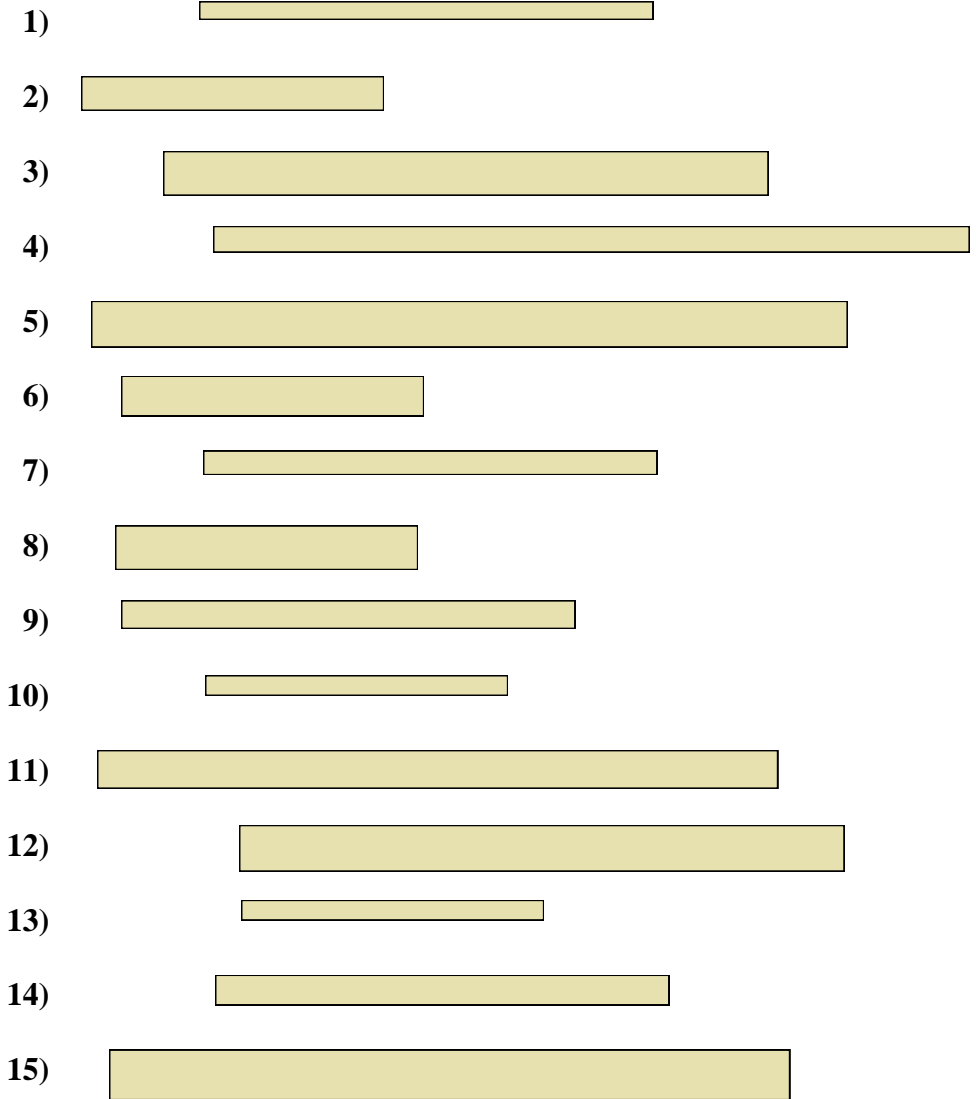
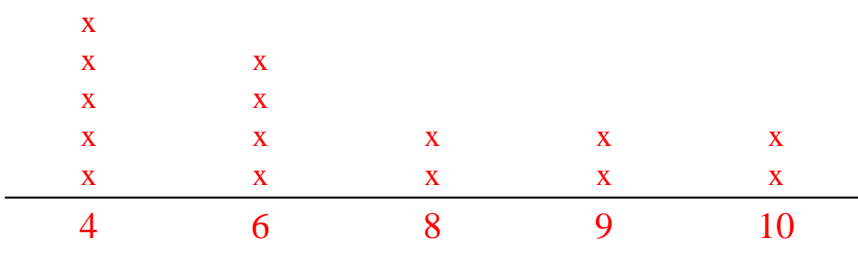


Diagrama de puntos



Respuestas

- 1. 6
- 2. 4
- 3. 8
- 4. 10
- 5. 10
- 6. 4
- 7. 6
- 8. 4
- 9. 6
- 10. 4
- 11. 9
- 12. 8
- 13. 4
- 14. 6
- 15. 9



Medir cada una de las barras (en centímetros) y después generar un diagrama basado en la información.

Respuestas

1)



1. _____

2)



2. _____

3)



3. _____

4)



4. _____

5)



5. _____

6)




6. _____

7)



7. _____

8)




8. _____

9)



9. _____

10)



10. _____

11)



11. _____

12)



12. _____

13)



13. _____

14)



14. _____

15)



15. _____

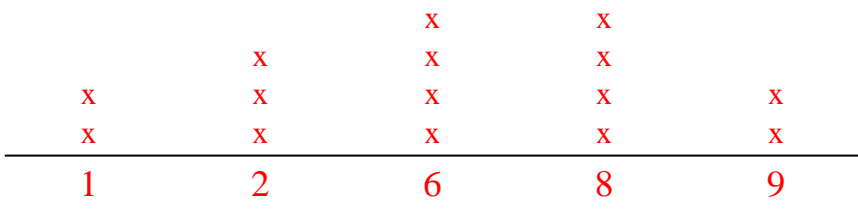
Diagrama de puntos



Medir cada una de las barras (en centímetros) y después generar un diagrama basado en la información.

- 1)
- 2)
- 3)
- 4)
- 5)
- 6)
- 7)
- 8)
- 9)
- 10)
- 11)
- 12)
- 13)
- 14)
- 15)

Diagrama de puntos



Respuestas

- 1. **2**
- 2. **9**
- 3. **1**
- 4. **8**
- 5. **8**
- 6. **2**
- 7. **6**
- 8. **2**
- 9. **6**
- 10. **9**
- 11. **1**
- 12. **6**
- 13. **8**
- 14. **8**
- 15. **6**




Medir cada una de las barras (en centímetros) y después generar un diagrama basado en la información.

Respuestas



1. _____



2. _____



3. _____



4. _____



5. _____



6. _____



7. _____




8. _____



9. _____



10. _____



11. _____



12. _____



13. _____



14. _____



15. _____

Diagrama de puntos



Medir cada una de las barras (en centímetros) y después generar un diagrama basado en la información.

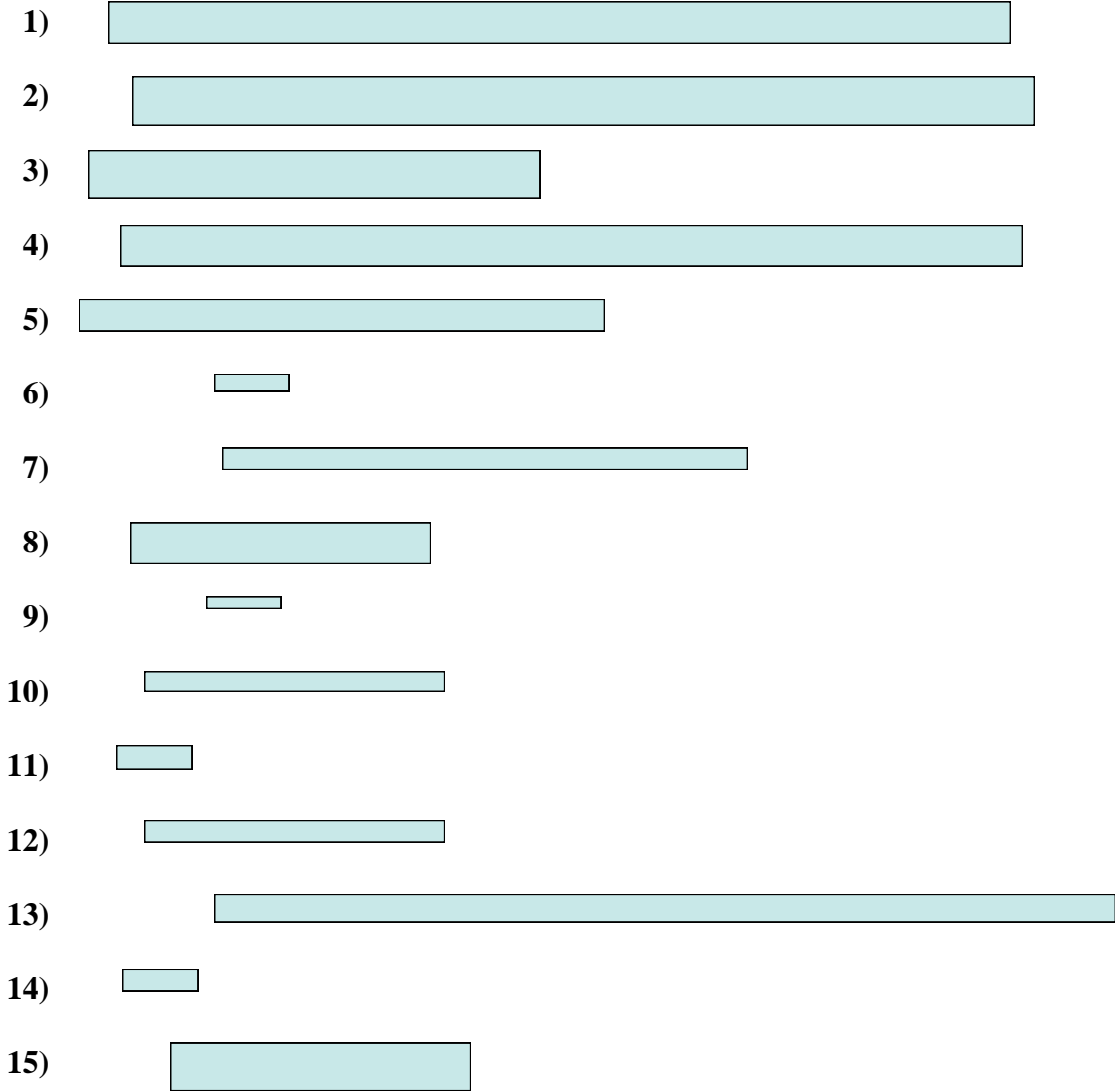
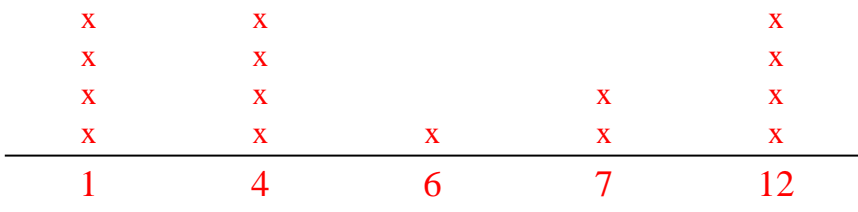


Diagrama de puntos



Respuestas

- 1. 12
- 2. 12
- 3. 6
- 4. 12
- 5. 7
- 6. 1
- 7. 7
- 8. 4
- 9. 1
- 10. 4
- 11. 1
- 12. 4
- 13. 12
- 14. 1
- 15. 4



Medir cada una de las barras (en centímetros) y después generar un diagrama basado en la información.

Respuestas

1)



1. _____

2)




2. _____

3)



3. _____

4)



4. _____

5)




5. _____

6)



6. _____

7)




7. _____

8)




8. _____

9)




9. _____

10)




10. _____

11)




11. _____

12)




12. _____

13)




13. _____

14)



14. _____

15)



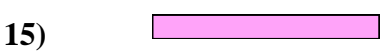







15. _____

Diagrama de puntos



Medir cada una de las barras (en centímetros) y después generar un diagrama basado en la información.

Respuestas



- 1. _____
- 2. _____
- 3. _____
- 4. _____
- 5. _____
- 6. _____
- 7. _____
- 8. _____
- 9. _____
- 10. _____
- 11. _____
- 12. _____
- 13. _____
- 14. _____
- 15. _____

Diagrama de puntos



Medir cada una de las barras (en centímetros) y después generar un diagrama basado en la información.




Diagrama de puntos



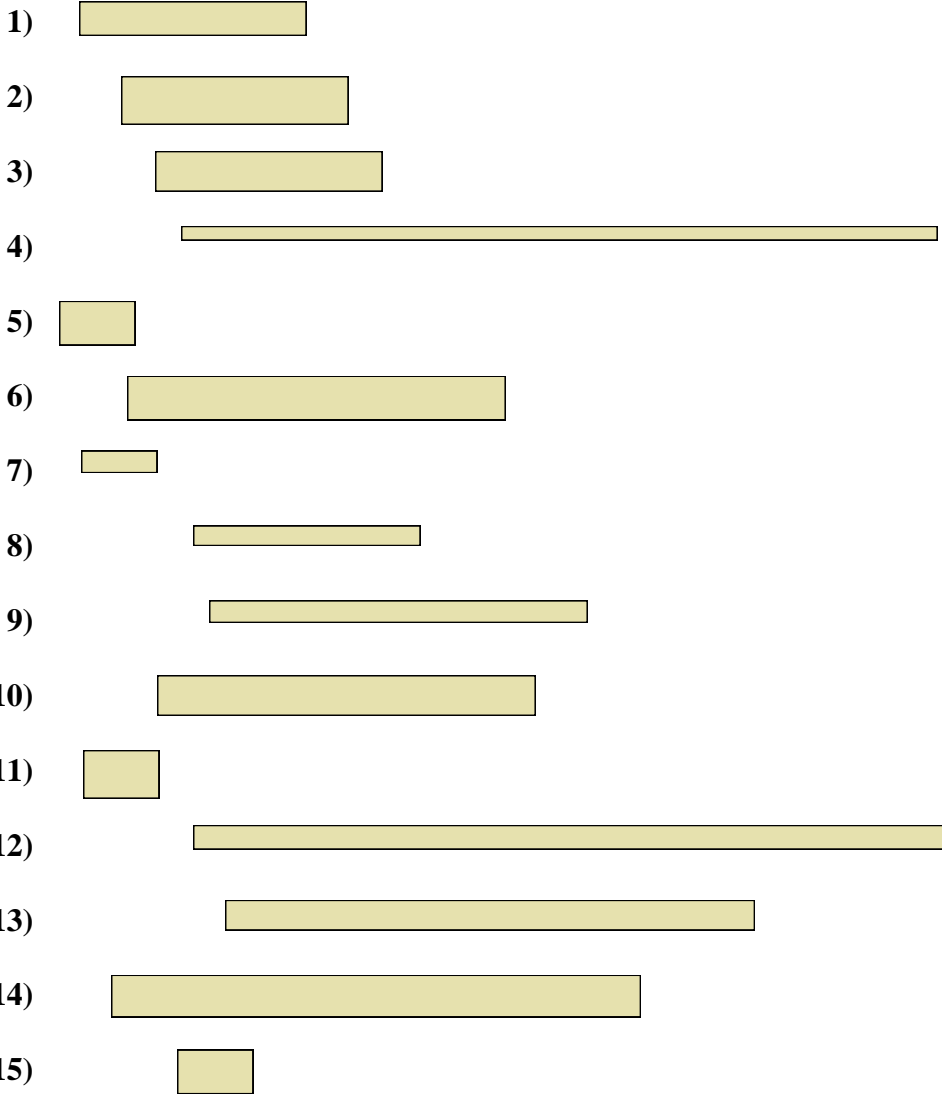
Respuestas

- 1. 11
- 2. 11
- 3. 5
- 4. 9
- 5. 5
- 6. 9
- 7. 9
- 8. 9
- 9. 5
- 10. 3
- 11. 3
- 12. 2
- 13. 11
- 14. 3
- 15. 3



Medir cada una de las barras (en centímetros) y después generar un diagrama basado en la información.

Respuestas



- 1. _____
- 2. _____
- 3. _____
- 4. _____
- 5. _____
- 6. _____
- 7. _____
- 8. _____
- 9. _____
- 10. _____
- 11. _____
- 12. _____
- 13. _____
- 14. _____
- 15. _____

Diagrama de puntos



Medir cada una de las barras (en centímetros) y después generar un diagrama basado en la información.

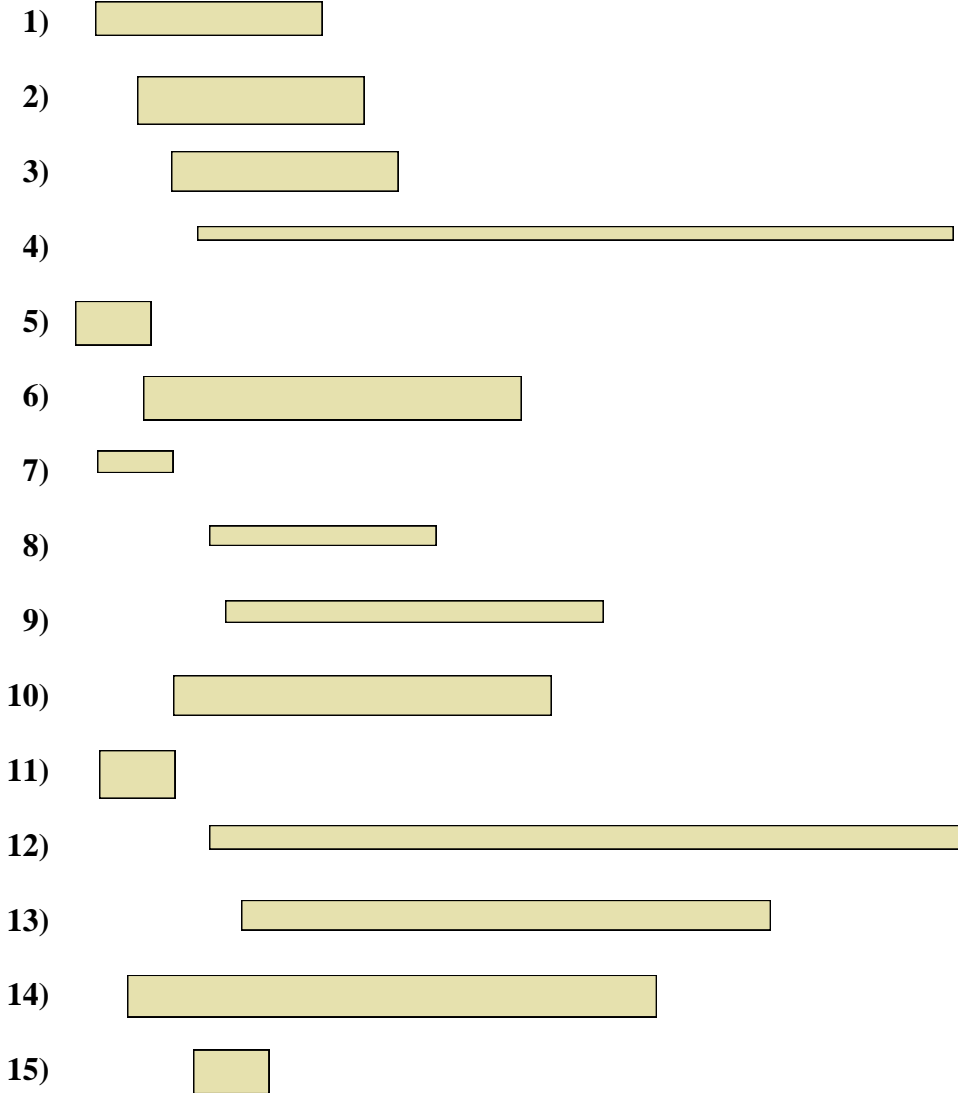
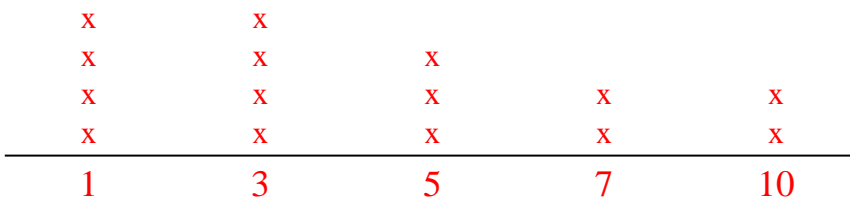


Diagrama de puntos



Respuestas

- 1. 3
- 2. 3
- 3. 3
- 4. 10
- 5. 1
- 6. 5
- 7. 1
- 8. 3
- 9. 5
- 10. 5
- 11. 1
- 12. 10
- 13. 7
- 14. 7
- 15. 1



Medir cada una de las barras (en centímetros) y después generar un diagrama basado en la información.

Respuestas

1)



1. _____

2)



2. _____

3)



3. _____

4)



4. _____

5)



5. _____

6)



6. _____

7)



7. _____

8)



8. _____

9)



9. _____

10)



10. _____

11)



11. _____

12)



12. _____

13)



13. _____

14)



14. _____

15)



15. _____

Diagrama de puntos

13. _____

14. _____

15. _____



Medir cada una de las barras (en centímetros) y después generar un diagrama basado en la información.

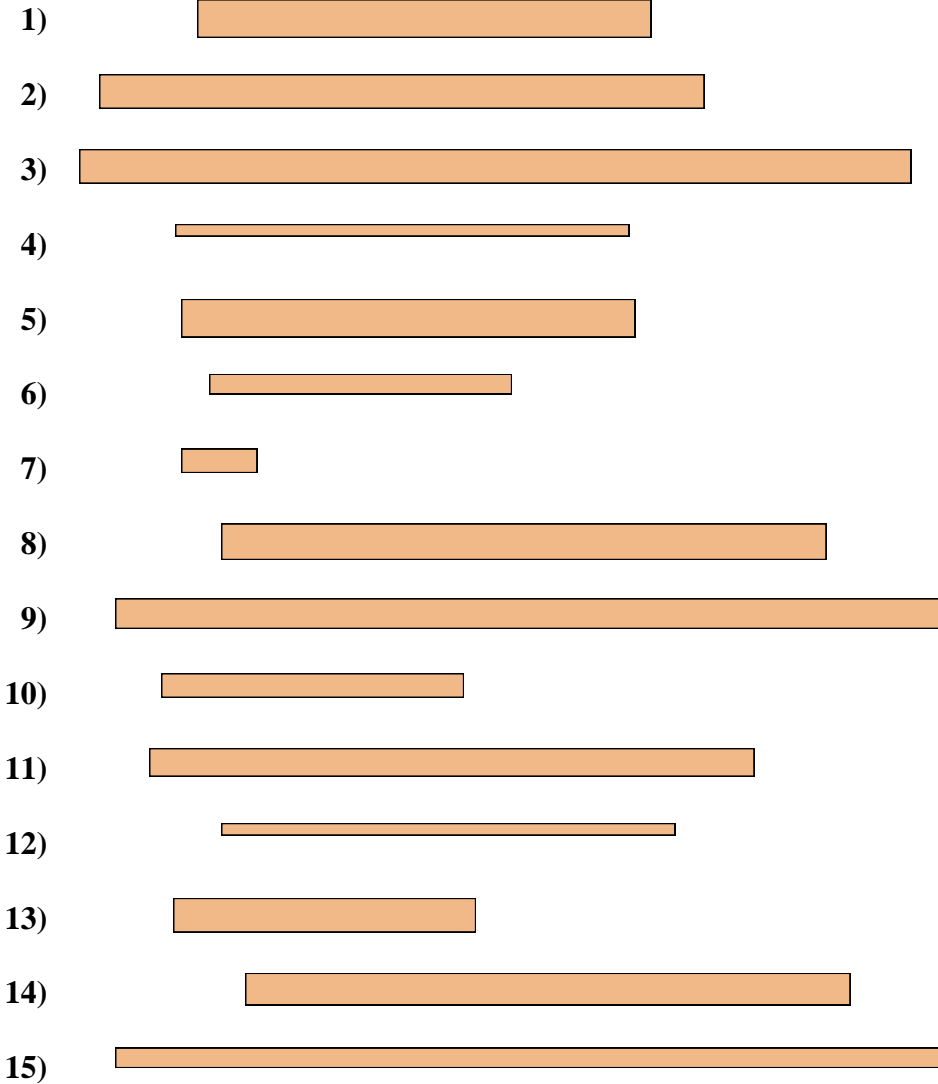
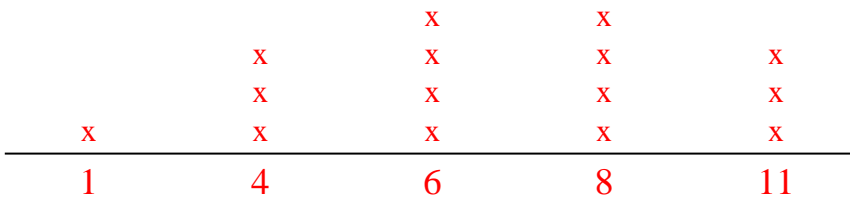


Diagrama de puntos



Respuestas

- 1. 6
- 2. 8
- 3. 11
- 4. 6
- 5. 6
- 6. 4
- 7. 1
- 8. 8
- 9. 11
- 10. 4
- 11. 8
- 12. 6
- 13. 4
- 14. 8
- 15. 11



Medir cada una de las barras (en centímetros) y después generar un diagrama basado en la información.

Respuestas

1)




1. _____

2)




2. _____

3)




3. _____

4)



4. _____

5)



5. _____

6)




6. _____

7)



7. _____

8)




8. _____

9)



9. _____

10)




10. _____

11)




11. _____

12)



12. _____

13)




13. _____

14)



14. _____

15)

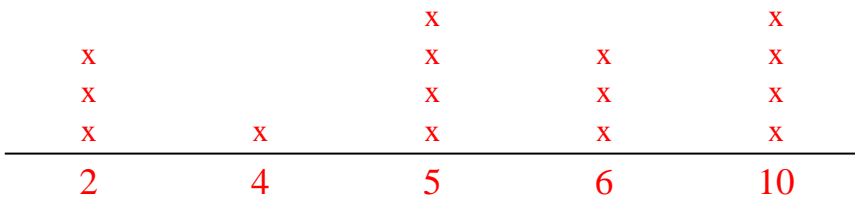



15. _____

Diagrama de puntos



Medir cada una de las barras (en centímetros) y después generar un diagrama basado en la información.


















Respuestas

- 1. 6
- 2. 4
- 3. 5
- 4. 2
- 5. 5
- 6. 10
- 7. 5
- 8. 6
- 9. 5
- 10. 6
- 11. 10
- 12. 2
- 13. 10
- 14. 2
- 15. 10



Medir cada una de las barras (en centímetros) y después generar un diagrama basado en la información.

Respuestas

- 1) 
- 2) 
- 3) 
- 4) 
- 5) 
- 6) 
- 7) 
- 8) 
- 9) 
- 10) 
- 11) 
- 12) 
- 13) 
- 14) 
- 15) 

- 1. _____
- 2. _____
- 3. _____
- 4. _____
- 5. _____
- 6. _____
- 7. _____
- 8. _____
- 9. _____
- 10. _____
- 11. _____
- 12. _____
- 13. _____
- 14. _____
- 15. _____

Diagrama de puntos
