




Compara el ancho de los dos bloques.

Respuestas

1) ¿Cuánto más largo es A que B (en pulgadas)?




1. _____

2) ¿Cuánto más largo es B que A (en pulgadas)?



2. _____

3) ¿Cuánto más largo es B que A (en pulgadas)?




3. _____

4) ¿Cuánto más largo es A que B (en pulgadas)?




4. _____

5) ¿Cuánto más largo es B que A (en pulgadas)?



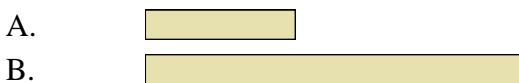
5. _____

6) ¿Cuánto más largo es B que A (en centímetros)?




6. _____

7) ¿Cuánto más largo es B que A (en centímetros)?



7. _____

8) ¿Cuánto más largo es B que A (en centímetros)?




8. _____

9) ¿Cuánto más largo es B que A (en centímetros)?



9. _____

10) ¿Cuánto más largo es B que A (en centímetros)?




10. _____

In		1		2		3		4		5		6		7				
Cm	1	2	3	4	5	6	7	8	9	10	11	12	13	14	15	16	17	18
In		1		2		3		4		5		6		7				
Cm	1	2	3	4	5	6	7	8	9	10	11	12	13	14	15	16	17	18
In		1		2		3		4		5		6		7				
Cm	1	2	3	4	5	6	7	8	9	10	11	12	13	14	15	16	17	18
In		1		2		3		4		5		6		7				
Cm	1	2	3	4	5	6	7	8	9	10	11	12	13	14	15	16	17	18
In		1		2		3		4		5		6		7				
Cm	1	2	3	4	5	6	7	8	9	10	11	12	13	14	15	16	17	18
In		1		2		3		4		5		6		7				
Cm	1	2	3	4	5	6	7	8	9	10	11	12	13	14	15	16	17	18
In		1		2		3		4		5		6		7				
Cm	1	2	3	4	5	6	7	8	9	10	11	12	13	14	15	16	17	18
In		1		2		3		4		5		6		7				
Cm	1	2	3	4	5	6	7	8	9	10	11	12	13	14	15	16	17	18
In		1		2		3		4		5		6		7				
Cm	1	2	3	4	5	6	7	8	9	10	11	12	13	14	15	16	17	18




Compara el ancho de los dos bloques.


1) ¿Cuánto más largo es A que B (en pulgadas)?



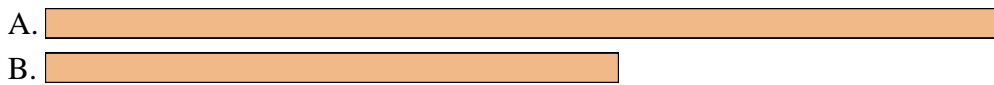
2) ¿Cuánto más largo es B que A (en pulgadas)?




3) ¿Cuánto más largo es B que A (en pulgadas)?




4) ¿Cuánto más largo es A que B (en pulgadas)?



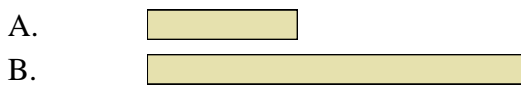
5) ¿Cuánto más largo es B que A (en pulgadas)?



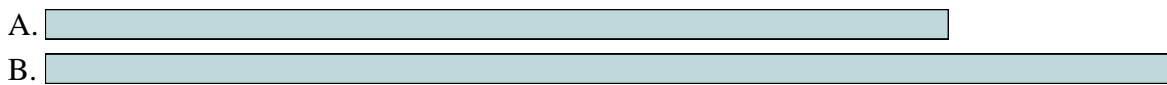
6) ¿Cuánto más largo es B que A (en centímetros)?



7) ¿Cuánto más largo es B que A (en centímetros)?




8) ¿Cuánto más largo es B que A (en centímetros)?



9) ¿Cuánto más largo es B que A (en centímetros)?



10) ¿Cuánto más largo es B que A (en centímetros)?



Respuestas

1. 2

2. 3

3. 3

4. 2

5. 1

6. 2

7. 3

8. 3

9. 7

10. 1