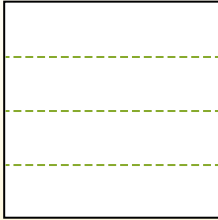


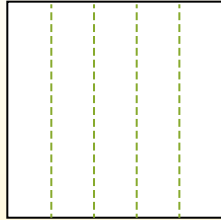


Partir la forma como se describe y después contar para encontrar el número de cajas.

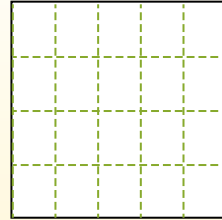
Las filas van de izquierda a derecha.



Las columnas van de arriba a abajo.




Este cuenta con 4 filas y 5 columnas. Hay 20 cajas en total.




**Respuestas**

- 1. \_\_\_\_\_
- 2. \_\_\_\_\_
- 3. \_\_\_\_\_
- 4. \_\_\_\_\_
- 5. \_\_\_\_\_
- 6. \_\_\_\_\_
- 7. \_\_\_\_\_
- 8. \_\_\_\_\_
- 9. \_\_\_\_\_


1) 5 filas  
3 columnas




2) 3 filas  
4 columnas




3) 5 filas  
4 columnas




4) 5 filas  
2 columnas




5) 4 filas  
4 columnas




6) 3 filas  
2 columnas



7) 3 filas  
3 columnas



8) 2 filas  
2 columnas




9) 5 filas  
5 columnas



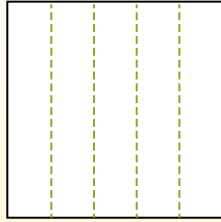


Partir la forma como se describe y después contar para encontrar el número de cajas.

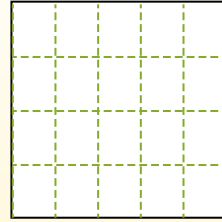
Las filas van de izquierda a derecha.



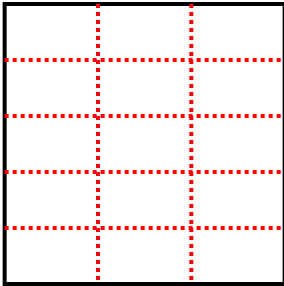
Las columnas van de arriba a abajo.



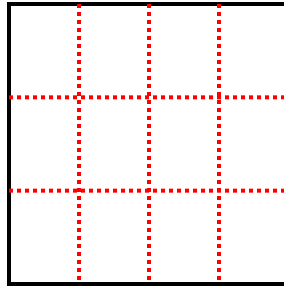
Este cuenta con 4 filas y 5 columnas. Hay 20 cajas en total.



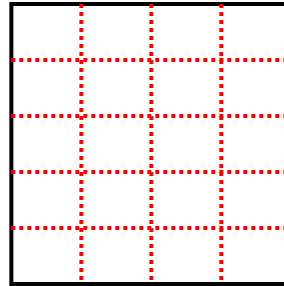
1) 5 filas  
3 columnas



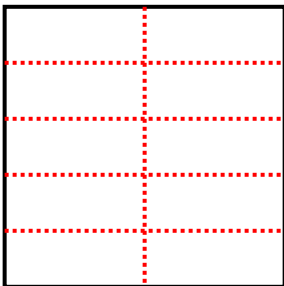
2) 3 filas  
4 columnas



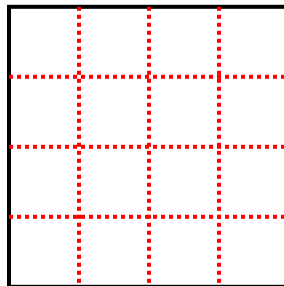
3) 5 filas  
4 columnas



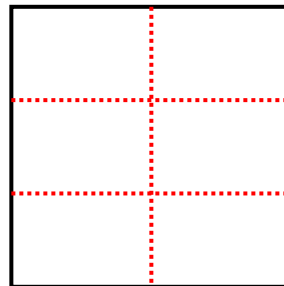
4) 5 filas  
2 columnas



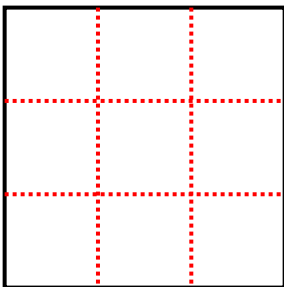
5) 4 filas  
4 columnas



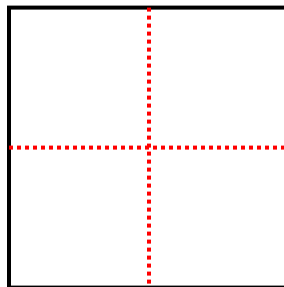
6) 3 filas  
2 columnas



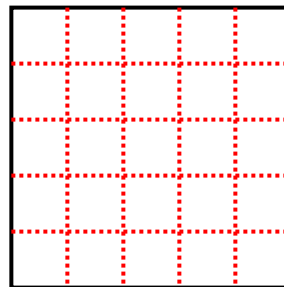
7) 3 filas  
3 columnas



8) 2 filas  
2 columnas



9) 5 filas  
5 columnas



Respuestas

1. 15

2. 12

3. 20

4. 10

5. 16

6. 6

7. 9

8. 4

9. 25