



**Resolver cada problema.****Respuestas**

1) ¿Qué letra representa mejor -88?




1. _____

2) ¿Qué letra representa mejor -94?



2. _____


3) ¿Qué letra representa mejor -113?



3. _____

4. _____


4) ¿Qué letra representa mejor -37?



5. _____

6. _____


5) ¿Qué letra representa mejor -41?



7. _____

8. _____


6) ¿Qué letra representa mejor -115?




9. _____

10. _____


7) ¿Qué letra representa mejor -27?



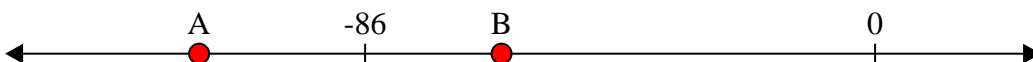
8) ¿Qué letra representa mejor -73?



9) ¿Qué letra representa mejor -101?



10) ¿Qué letra representa mejor -63?

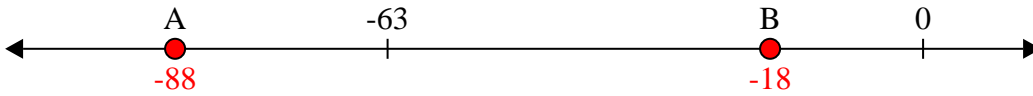




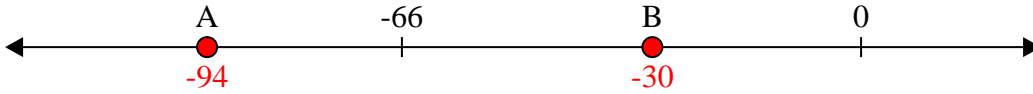
Resolver cada problema.

Respuestas

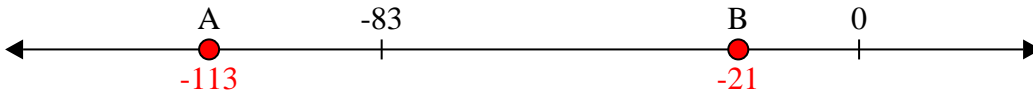
1) ¿Qué letra representa mejor -88?

1. **A**


2) ¿Qué letra representa mejor -94?

2. **A**

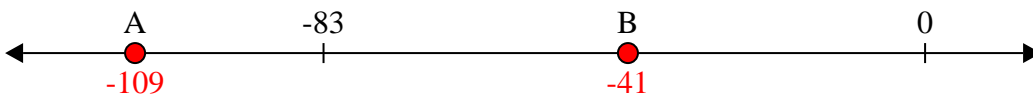
3) ¿Qué letra representa mejor -113?

3. **A**


4) ¿Qué letra representa mejor -37?

4. **B**


5) ¿Qué letra representa mejor -41?

5. **B**


6) ¿Qué letra representa mejor -115?

6. **A**


7) ¿Qué letra representa mejor -27?

7. **B**

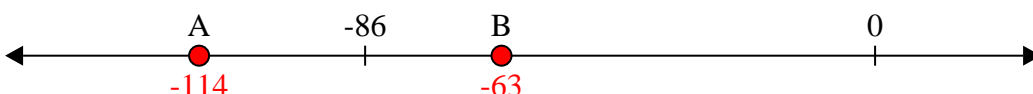
8) ¿Qué letra representa mejor -73?

8. **A**

9) ¿Qué letra representa mejor -101?

9. **A**

10) ¿Qué letra representa mejor -63?

10. **B**