



**Determinar cuál opción responde mejor a la pregunta.**

**Respuestas**

- |  |   |
|--|---|
| <p>1) ¿Qué opción mejor demuestra un patrón con la regla sumar 9?</p> <p>A. 5, 7, 9, 11, 13</p> <p>B. 7, 13, 19, 25, 31</p> <p>C. 6, 10, 14, 18, 22</p> <p>D. 6, 15, 24, 33, 42</p>    | <p>2) ¿Qué opción mejor demuestra un patrón con la regla restar 9?</p> <p>A. 13, 10, 7, 4, 1</p> <p>B. 42, 33, 24, 15, 6</p> <p>C. 30, 25, 20, 15, 10</p> <p>D. 47, 37, 27, 17, 7</p>   |
| <p>3) ¿Qué opción mejor demuestra un patrón con la regla sumar 6?</p> <p>A. 5, 10, 15, 20, 25</p> <p>B. 6, 14, 22, 30, 38</p> <p>C. 10, 20, 30, 40, 50</p> <p>D. 5, 11, 17, 23, 29</p> | <p>4) ¿Qué opción mejor demuestra un patrón con la regla restar 9?</p> <p>A. 50, 40, 30, 20, 10</p> <p>B. 28, 23, 18, 13, 8</p> <p>C. 45, 35, 25, 15, 5</p> <p>D. 38, 29, 20, 11, 2</p> |
| <p>5) ¿Qué opción mejor demuestra un patrón con la regla sumar 5?</p> <p>A. 6, 16, 26, 36, 46</p> <p>B. 8, 12, 16, 20, 24</p> <p>C. 5, 12, 19, 26, 33</p> <p>D. 9, 14, 19, 24, 29</p>  | <p>6) ¿Qué opción mejor demuestra un patrón con la regla sumar 4?</p> <p>A. 1, 3, 5, 7, 9</p> <p>B. 2, 9, 16, 23, 30</p> <p>C. 9, 14, 19, 24, 29</p> <p>D. 7, 11, 15, 19, 23</p>        |
| <p>7) ¿Qué opción mejor demuestra un patrón con la regla restar 4?</p> <p>A. 39, 31, 23, 15, 7</p> <p>B. 37, 29, 21, 13, 5</p> <p>C. 24, 19, 14, 9, 4</p> <p>D. 19, 15, 11, 7, 3</p>   | <p>8) ¿Qué opción mejor demuestra un patrón con la regla restar 5?</p> <p>A. 15, 12, 9, 6, 3</p> <p>B. 20, 17, 14, 11, 8</p> <p>C. 22, 19, 16, 13, 10</p> <p>D. 21, 16, 11, 6, 1</p>    |
| <p>9) ¿Qué opción mejor demuestra un patrón con la regla restar 8?</p> <p>A. 13, 11, 9, 7, 5</p> <p>B. 38, 30, 22, 14, 6</p> <p>C. 16, 13, 10, 7, 4</p> <p>D. 49, 39, 29, 19, 9</p>    | <p>10) ¿Qué opción mejor demuestra un patrón con la regla sumar 3?</p> <p>A. 9, 19, 29, 39, 49</p> <p>B. 5, 12, 19, 26, 33</p> <p>C. 9, 15, 21, 27, 33</p> <p>D. 10, 13, 16, 19, 22</p> |

1. \_\_\_\_\_
2. \_\_\_\_\_
3. \_\_\_\_\_
4. \_\_\_\_\_
5. \_\_\_\_\_
6. \_\_\_\_\_
7. \_\_\_\_\_
8. \_\_\_\_\_
9. \_\_\_\_\_
10. \_\_\_\_\_



**Determinar cuál opción responde mejor a la pregunta.**

- |  |   |
|--|---|
| <p>1) ¿Qué opción mejor demuestra un patrón con la regla sumar 9?</p> <p>A. 5, 7, 9, 11, 13</p> <p>B. 7, 13, 19, 25, 31</p> <p>C. 6, 10, 14, 18, 22</p> <p>D. 6, 15, 24, 33, 42</p>    | <p>2) ¿Qué opción mejor demuestra un patrón con la regla restar 9?</p> <p>A. 13, 10, 7, 4, 1</p> <p>B. 42, 33, 24, 15, 6</p> <p>C. 30, 25, 20, 15, 10</p> <p>D. 47, 37, 27, 17, 7</p>   |
| <p>3) ¿Qué opción mejor demuestra un patrón con la regla sumar 6?</p> <p>A. 5, 10, 15, 20, 25</p> <p>B. 6, 14, 22, 30, 38</p> <p>C. 10, 20, 30, 40, 50</p> <p>D. 5, 11, 17, 23, 29</p> | <p>4) ¿Qué opción mejor demuestra un patrón con la regla restar 9?</p> <p>A. 50, 40, 30, 20, 10</p> <p>B. 28, 23, 18, 13, 8</p> <p>C. 45, 35, 25, 15, 5</p> <p>D. 38, 29, 20, 11, 2</p> |
| <p>5) ¿Qué opción mejor demuestra un patrón con la regla sumar 5?</p> <p>A. 6, 16, 26, 36, 46</p> <p>B. 8, 12, 16, 20, 24</p> <p>C. 5, 12, 19, 26, 33</p> <p>D. 9, 14, 19, 24, 29</p>  | <p>6) ¿Qué opción mejor demuestra un patrón con la regla sumar 4?</p> <p>A. 1, 3, 5, 7, 9</p> <p>B. 2, 9, 16, 23, 30</p> <p>C. 9, 14, 19, 24, 29</p> <p>D. 7, 11, 15, 19, 23</p>        |
| <p>7) ¿Qué opción mejor demuestra un patrón con la regla restar 4?</p> <p>A. 39, 31, 23, 15, 7</p> <p>B. 37, 29, 21, 13, 5</p> <p>C. 24, 19, 14, 9, 4</p> <p>D. 19, 15, 11, 7, 3</p>   | <p>8) ¿Qué opción mejor demuestra un patrón con la regla restar 5?</p> <p>A. 15, 12, 9, 6, 3</p> <p>B. 20, 17, 14, 11, 8</p> <p>C. 22, 19, 16, 13, 10</p> <p>D. 21, 16, 11, 6, 1</p>    |
| <p>9) ¿Qué opción mejor demuestra un patrón con la regla restar 8?</p> <p>A. 13, 11, 9, 7, 5</p> <p>B. 38, 30, 22, 14, 6</p> <p>C. 16, 13, 10, 7, 4</p> <p>D. 49, 39, 29, 19, 9</p>    | <p>10) ¿Qué opción mejor demuestra un patrón con la regla sumar 3?</p> <p>A. 9, 19, 29, 39, 49</p> <p>B. 5, 12, 19, 26, 33</p> <p>C. 9, 15, 21, 27, 33</p> <p>D. 10, 13, 16, 19, 22</p> |

**Respuestas**

- |     |          |
|-----|----------|
| 1.  | <b>D</b> |
| 2.  | <b>B</b> |
| 3.  | <b>D</b> |
| 4.  | <b>D</b> |
| 5.  | <b>D</b> |
| 6.  | <b>D</b> |
| 7.  | <b>D</b> |
| 8.  | <b>D</b> |
| 9.  | <b>B</b> |
| 10. | <b>D</b> |



**Determinar cuál opción responde mejor a la pregunta.**

- |  |  |
|--|--|
| <p>1) ¿Qué opción mejor demuestra un patrón con la regla sumar 3?<br/>                 A. 3, 7, 11, 15, 19<br/>                 B. 5, 8, 11, 14, 17<br/>                 C. 7, 11, 15, 19, 23<br/>                 D. 6, 14, 22, 30, 38</p>    | <p>2) ¿Qué opción mejor demuestra un patrón con la regla restar 10?<br/>                 A. 18, 16, 14, 12, 10<br/>                 B. 27, 21, 15, 9, 3<br/>                 C. 38, 31, 24, 17, 10<br/>                 D. 49, 39, 29, 19, 9</p> |
| <p>3) ¿Qué opción mejor demuestra un patrón con la regla restar 5?<br/>                 A. 31, 24, 17, 10, 3<br/>                 B. 42, 34, 26, 18, 10<br/>                 C. 25, 21, 17, 13, 9<br/>                 D. 23, 18, 13, 8, 3</p> | <p>4) ¿Qué opción mejor demuestra un patrón con la regla sumar 2?<br/>                 A. 7, 16, 25, 34, 43<br/>                 B. 1, 3, 5, 7, 9<br/>                 C. 7, 10, 13, 16, 19<br/>                 D. 5, 10, 15, 20, 25</p>        |
| <p>5) ¿Qué opción mejor demuestra un patrón con la regla restar 3?<br/>                 A. 11, 9, 7, 5, 3<br/>                 B. 27, 22, 17, 12, 7<br/>                 C. 15, 12, 9, 6, 3<br/>                 D. 50, 40, 30, 20, 10</p>     | <p>6) ¿Qué opción mejor demuestra un patrón con la regla restar 7?<br/>                 A. 17, 15, 13, 11, 9<br/>                 B. 33, 25, 17, 9, 1<br/>                 C. 37, 30, 23, 16, 9<br/>                 D. 44, 34, 24, 14, 4</p>    |
| <p>7) ¿Qué opción mejor demuestra un patrón con la regla restar 9?<br/>                 A. 42, 33, 24, 15, 6<br/>                 B. 29, 24, 19, 14, 9<br/>                 C. 27, 21, 15, 9, 3<br/>                 D. 16, 14, 12, 10, 8</p>  | <p>8) ¿Qué opción mejor demuestra un patrón con la regla restar 6?<br/>                 A. 19, 16, 13, 10, 7<br/>                 B. 33, 27, 21, 15, 9<br/>                 C. 45, 36, 27, 18, 9<br/>                 D. 33, 26, 19, 12, 5</p>   |
| <p>9) ¿Qué opción mejor demuestra un patrón con la regla sumar 3?<br/>                 A. 4, 8, 12, 16, 20<br/>                 B. 2, 6, 10, 14, 18<br/>                 C. 5, 14, 23, 32, 41<br/>                 D. 5, 8, 11, 14, 17</p>     | <p>10) ¿Qué opción mejor demuestra un patrón con la regla sumar 3?<br/>                 A. 3, 9, 15, 21, 27<br/>                 B. 2, 5, 8, 11, 14<br/>                 C. 4, 8, 12, 16, 20<br/>                 D. 7, 9, 11, 13, 15</p>        |

**Respuestas**

1. \_\_\_\_\_
2. \_\_\_\_\_
3. \_\_\_\_\_
4. \_\_\_\_\_
5. \_\_\_\_\_
6. \_\_\_\_\_
7. \_\_\_\_\_
8. \_\_\_\_\_
9. \_\_\_\_\_
10. \_\_\_\_\_



**Determinar cuál opción responde mejor a la pregunta.**

- |  |  |
|--|--|
| <p>1) ¿Qué opción mejor demuestra un patrón con la regla sumar 3?</p> <p>A. 3, 7, 11, 15, 19</p> <p>B. 5, 8, 11, 14, 17</p> <p>C. 7, 11, 15, 19, 23</p> <p>D. 6, 14, 22, 30, 38</p>    | <p>2) ¿Qué opción mejor demuestra un patrón con la regla restar 10?</p> <p>A. 18, 16, 14, 12, 10</p> <p>B. 27, 21, 15, 9, 3</p> <p>C. 38, 31, 24, 17, 10</p> <p>D. 49, 39, 29, 19, 9</p> |
| <p>3) ¿Qué opción mejor demuestra un patrón con la regla restar 5?</p> <p>A. 31, 24, 17, 10, 3</p> <p>B. 42, 34, 26, 18, 10</p> <p>C. 25, 21, 17, 13, 9</p> <p>D. 23, 18, 13, 8, 3</p> | <p>4) ¿Qué opción mejor demuestra un patrón con la regla sumar 2?</p> <p>A. 7, 16, 25, 34, 43</p> <p>B. 1, 3, 5, 7, 9</p> <p>C. 7, 10, 13, 16, 19</p> <p>D. 5, 10, 15, 20, 25</p>        |
| <p>5) ¿Qué opción mejor demuestra un patrón con la regla restar 3?</p> <p>A. 11, 9, 7, 5, 3</p> <p>B. 27, 22, 17, 12, 7</p> <p>C. 15, 12, 9, 6, 3</p> <p>D. 50, 40, 30, 20, 10</p>     | <p>6) ¿Qué opción mejor demuestra un patrón con la regla restar 7?</p> <p>A. 17, 15, 13, 11, 9</p> <p>B. 33, 25, 17, 9, 1</p> <p>C. 37, 30, 23, 16, 9</p> <p>D. 44, 34, 24, 14, 4</p>    |
| <p>7) ¿Qué opción mejor demuestra un patrón con la regla restar 9?</p> <p>A. 42, 33, 24, 15, 6</p> <p>B. 29, 24, 19, 14, 9</p> <p>C. 27, 21, 15, 9, 3</p> <p>D. 16, 14, 12, 10, 8</p>  | <p>8) ¿Qué opción mejor demuestra un patrón con la regla restar 6?</p> <p>A. 19, 16, 13, 10, 7</p> <p>B. 33, 27, 21, 15, 9</p> <p>C. 45, 36, 27, 18, 9</p> <p>D. 33, 26, 19, 12, 5</p>   |
| <p>9) ¿Qué opción mejor demuestra un patrón con la regla sumar 3?</p> <p>A. 4, 8, 12, 16, 20</p> <p>B. 2, 6, 10, 14, 18</p> <p>C. 5, 14, 23, 32, 41</p> <p>D. 5, 8, 11, 14, 17</p>     | <p>10) ¿Qué opción mejor demuestra un patrón con la regla sumar 3?</p> <p>A. 3, 9, 15, 21, 27</p> <p>B. 2, 5, 8, 11, 14</p> <p>C. 4, 8, 12, 16, 20</p> <p>D. 7, 9, 11, 13, 15</p>        |

**Respuestas**

1.           **B**
2.           **D**
3.           **D**
4.           **B**
5.           **C**
6.           **C**
7.           **A**
8.           **B**
9.           **D**
10.          **B**



**Determinar cuál opción responde mejor a la pregunta.**

**Respuestas**

- 1) ¿Qué opción mejor demuestra un patrón con la regla sumar 4?  
 A. 1, 5, 9, 13, 17  
 B. 8, 14, 20, 26, 32  
 C. 5, 11, 17, 23, 29  
 D. 7, 9, 11, 13, 15
- 2) ¿Qué opción mejor demuestra un patrón con la regla sumar 10?  
 A. 7, 17, 27, 37, 47  
 B. 9, 11, 13, 15, 17  
 C. 7, 16, 25, 34, 43  
 D. 5, 11, 17, 23, 29
- 3) ¿Qué opción mejor demuestra un patrón con la regla restar 10?  
 A. 38, 31, 24, 17, 10  
 B. 26, 21, 16, 11, 6  
 C. 42, 32, 22, 12, 2  
 D. 18, 16, 14, 12, 10
- 4) ¿Qué opción mejor demuestra un patrón con la regla restar 6?  
 A. 26, 20, 14, 8, 2  
 B. 27, 22, 17, 12, 7  
 C. 14, 12, 10, 8, 6  
 D. 41, 31, 21, 11, 1
- 5) ¿Qué opción mejor demuestra un patrón con la regla restar 6?  
 A. 19, 15, 11, 7, 3  
 B. 15, 13, 11, 9, 7  
 C. 42, 33, 24, 15, 6  
 D. 26, 20, 14, 8, 2
- 6) ¿Qué opción mejor demuestra un patrón con la regla restar 5?  
 A. 11, 9, 7, 5, 3  
 B. 42, 34, 26, 18, 10  
 C. 26, 20, 14, 8, 2  
 D. 28, 23, 18, 13, 8
- 7) ¿Qué opción mejor demuestra un patrón con la regla restar 7?  
 A. 37, 30, 23, 16, 9  
 B. 15, 12, 9, 6, 3  
 C. 45, 36, 27, 18, 9  
 D. 41, 31, 21, 11, 1
- 8) ¿Qué opción mejor demuestra un patrón con la regla restar 8?  
 A. 35, 27, 19, 11, 3  
 B. 42, 33, 24, 15, 6  
 C. 32, 25, 18, 11, 4  
 D. 21, 18, 15, 12, 9
- 9) ¿Qué opción mejor demuestra un patrón con la regla restar 9?  
 A. 44, 35, 26, 17, 8  
 B. 17, 13, 9, 5, 1  
 C. 44, 34, 24, 14, 4  
 D. 22, 19, 16, 13, 10
- 10) ¿Qué opción mejor demuestra un patrón con la regla restar 8?  
 A. 42, 34, 26, 18, 10  
 B. 31, 24, 17, 10, 3  
 C. 22, 17, 12, 7, 2  
 D. 34, 28, 22, 16, 10

1. \_\_\_\_\_
2. \_\_\_\_\_
3. \_\_\_\_\_
4. \_\_\_\_\_
5. \_\_\_\_\_
6. \_\_\_\_\_
7. \_\_\_\_\_
8. \_\_\_\_\_
9. \_\_\_\_\_
10. \_\_\_\_\_

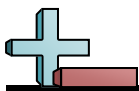


**Determinar cuál opción responde mejor a la pregunta.**

- |   |  |
|---|--|
| <p>1) ¿Qué opción mejor demuestra un patrón con la regla sumar 4?</p> <p>A. 1, 5, 9, 13, 17</p> <p>B. 8, 14, 20, 26, 32</p> <p>C. 5, 11, 17, 23, 29</p> <p>D. 7, 9, 11, 13, 15</p>        | <p>2) ¿Qué opción mejor demuestra un patrón con la regla sumar 10?</p> <p>A. 7, 17, 27, 37, 47</p> <p>B. 9, 11, 13, 15, 17</p> <p>C. 7, 16, 25, 34, 43</p> <p>D. 5, 11, 17, 23, 29</p>   |
| <p>3) ¿Qué opción mejor demuestra un patrón con la regla restar 10?</p> <p>A. 38, 31, 24, 17, 10</p> <p>B. 26, 21, 16, 11, 6</p> <p>C. 42, 32, 22, 12, 2</p> <p>D. 18, 16, 14, 12, 10</p> | <p>4) ¿Qué opción mejor demuestra un patrón con la regla restar 6?</p> <p>A. 26, 20, 14, 8, 2</p> <p>B. 27, 22, 17, 12, 7</p> <p>C. 14, 12, 10, 8, 6</p> <p>D. 41, 31, 21, 11, 1</p>     |
| <p>5) ¿Qué opción mejor demuestra un patrón con la regla restar 6?</p> <p>A. 19, 15, 11, 7, 3</p> <p>B. 15, 13, 11, 9, 7</p> <p>C. 42, 33, 24, 15, 6</p> <p>D. 26, 20, 14, 8, 2</p>       | <p>6) ¿Qué opción mejor demuestra un patrón con la regla restar 5?</p> <p>A. 11, 9, 7, 5, 3</p> <p>B. 42, 34, 26, 18, 10</p> <p>C. 26, 20, 14, 8, 2</p> <p>D. 28, 23, 18, 13, 8</p>      |
| <p>7) ¿Qué opción mejor demuestra un patrón con la regla restar 7?</p> <p>A. 37, 30, 23, 16, 9</p> <p>B. 15, 12, 9, 6, 3</p> <p>C. 45, 36, 27, 18, 9</p> <p>D. 41, 31, 21, 11, 1</p>      | <p>8) ¿Qué opción mejor demuestra un patrón con la regla restar 8?</p> <p>A. 35, 27, 19, 11, 3</p> <p>B. 42, 33, 24, 15, 6</p> <p>C. 32, 25, 18, 11, 4</p> <p>D. 21, 18, 15, 12, 9</p>   |
| <p>9) ¿Qué opción mejor demuestra un patrón con la regla restar 9?</p> <p>A. 44, 35, 26, 17, 8</p> <p>B. 17, 13, 9, 5, 1</p> <p>C. 44, 34, 24, 14, 4</p> <p>D. 22, 19, 16, 13, 10</p>     | <p>10) ¿Qué opción mejor demuestra un patrón con la regla restar 8?</p> <p>A. 42, 34, 26, 18, 10</p> <p>B. 31, 24, 17, 10, 3</p> <p>C. 22, 17, 12, 7, 2</p> <p>D. 34, 28, 22, 16, 10</p> |

**Respuestas**

- |     |          |
|-----|----------|
| 1.  | <b>A</b> |
| 2.  | <b>A</b> |
| 3.  | <b>C</b> |
| 4.  | <b>A</b> |
| 5.  | <b>D</b> |
| 6.  | <b>D</b> |
| 7.  | <b>A</b> |
| 8.  | <b>A</b> |
| 9.  | <b>A</b> |
| 10. | <b>A</b> |



**Determinar cuál opción responde mejor a la pregunta.**

**Respuestas**

- |  |  |
|--|--|
| <p>1) ¿Qué opción mejor demuestra un patrón con la regla sumar 8?</p> <p>A. 3, 5, 7, 9, 11<br/>         B. 3, 12, 21, 30, 39<br/>         C. 2, 5, 8, 11, 14<br/>         D. 3, 11, 19, 27, 35</p>         | <p>2) ¿Qué opción mejor demuestra un patrón con la regla sumar 8?</p> <p>A. 4, 8, 12, 16, 20<br/>         B. 9, 16, 23, 30, 37<br/>         C. 9, 13, 17, 21, 25<br/>         D. 3, 11, 19, 27, 35</p>   |
| <p>3) ¿Qué opción mejor demuestra un patrón con la regla restar 9?</p> <p>A. 35, 27, 19, 11, 3<br/>         B. 19, 16, 13, 10, 7<br/>         C. 46, 37, 28, 19, 10<br/>         D. 25, 21, 17, 13, 9</p>  | <p>4) ¿Qué opción mejor demuestra un patrón con la regla restar 2?</p> <p>A. 13, 11, 9, 7, 5<br/>         B. 43, 33, 23, 13, 3<br/>         C. 32, 26, 20, 14, 8<br/>         D. 29, 24, 19, 14, 9</p>   |
| <p>5) ¿Qué opción mejor demuestra un patrón con la regla restar 10?</p> <p>A. 21, 16, 11, 6, 1<br/>         B. 43, 33, 23, 13, 3<br/>         C. 22, 19, 16, 13, 10<br/>         D. 30, 25, 20, 15, 10</p> | <p>6) ¿Qué opción mejor demuestra un patrón con la regla sumar 6?</p> <p>A. 7, 11, 15, 19, 23<br/>         B. 7, 12, 17, 22, 27<br/>         C. 10, 16, 22, 28, 34<br/>         D. 5, 8, 11, 14, 17</p>  |
| <p>7) ¿Qué opción mejor demuestra un patrón con la regla restar 8?</p> <p>A. 14, 11, 8, 5, 2<br/>         B. 39, 31, 23, 15, 7<br/>         C. 13, 10, 7, 4, 1<br/>         D. 34, 27, 20, 13, 6</p>       | <p>8) ¿Qué opción mejor demuestra un patrón con la regla sumar 5?</p> <p>A. 3, 11, 19, 27, 35<br/>         B. 8, 13, 18, 23, 28<br/>         C. 10, 17, 24, 31, 38<br/>         D. 4, 12, 20, 28, 36</p> |
| <p>9) ¿Qué opción mejor demuestra un patrón con la regla restar 8?</p> <p>A. 15, 12, 9, 6, 3<br/>         B. 32, 25, 18, 11, 4<br/>         C. 35, 27, 19, 11, 3<br/>         D. 42, 32, 22, 12, 2</p>     | <p>10) ¿Qué opción mejor demuestra un patrón con la regla restar 7?</p> <p>A. 46, 36, 26, 16, 6<br/>         B. 38, 30, 22, 14, 6<br/>         C. 21, 18, 15, 12, 9<br/>         D. 29, 22, 15, 8, 1</p> |

1. \_\_\_\_\_
2. \_\_\_\_\_
3. \_\_\_\_\_
4. \_\_\_\_\_
5. \_\_\_\_\_
6. \_\_\_\_\_
7. \_\_\_\_\_
8. \_\_\_\_\_
9. \_\_\_\_\_
10. \_\_\_\_\_



**Determinar cuál opción responde mejor a la pregunta.**

- 1) ¿Qué opción mejor demuestra un patrón con la regla sumar 8?  
 A. 3, 5, 7, 9, 11  
 B. 3, 12, 21, 30, 39  
 C. 2, 5, 8, 11, 14  
 D. 3, 11, 19, 27, 35
- 2) ¿Qué opción mejor demuestra un patrón con la regla sumar 8?  
 A. 4, 8, 12, 16, 20  
 B. 9, 16, 23, 30, 37  
 C. 9, 13, 17, 21, 25  
 D. 3, 11, 19, 27, 35
- 3) ¿Qué opción mejor demuestra un patrón con la regla restar 9?  
 A. 35, 27, 19, 11, 3  
 B. 19, 16, 13, 10, 7  
 C. 46, 37, 28, 19, 10  
 D. 25, 21, 17, 13, 9
- 4) ¿Qué opción mejor demuestra un patrón con la regla restar 2?  
 A. 13, 11, 9, 7, 5  
 B. 43, 33, 23, 13, 3  
 C. 32, 26, 20, 14, 8  
 D. 29, 24, 19, 14, 9
- 5) ¿Qué opción mejor demuestra un patrón con la regla restar 10?  
 A. 21, 16, 11, 6, 1  
 B. 43, 33, 23, 13, 3  
 C. 22, 19, 16, 13, 10  
 D. 30, 25, 20, 15, 10
- 6) ¿Qué opción mejor demuestra un patrón con la regla sumar 6?  
 A. 7, 11, 15, 19, 23  
 B. 7, 12, 17, 22, 27  
 C. 10, 16, 22, 28, 34  
 D. 5, 8, 11, 14, 17
- 7) ¿Qué opción mejor demuestra un patrón con la regla restar 8?  
 A. 14, 11, 8, 5, 2  
 B. 39, 31, 23, 15, 7  
 C. 13, 10, 7, 4, 1  
 D. 34, 27, 20, 13, 6
- 8) ¿Qué opción mejor demuestra un patrón con la regla sumar 5?  
 A. 3, 11, 19, 27, 35  
 B. 8, 13, 18, 23, 28  
 C. 10, 17, 24, 31, 38  
 D. 4, 12, 20, 28, 36
- 9) ¿Qué opción mejor demuestra un patrón con la regla restar 8?  
 A. 15, 12, 9, 6, 3  
 B. 32, 25, 18, 11, 4  
 C. 35, 27, 19, 11, 3  
 D. 42, 32, 22, 12, 2
- 10) ¿Qué opción mejor demuestra un patrón con la regla restar 7?  
 A. 46, 36, 26, 16, 6  
 B. 38, 30, 22, 14, 6  
 C. 21, 18, 15, 12, 9  
 D. 29, 22, 15, 8, 1

**Respuestas**

1.     **D**
2.     **D**
3.     **C**
4.     **A**
5.     **B**
6.     **C**
7.     **B**
8.     **B**
9.     **C**
10.     **D**





**Determinar cuál opción responde mejor a la pregunta.**

**Respuestas**

- |   |   |
|---|---|
| <p>1) ¿Qué opción mejor demuestra un patrón con la regla sumar 6?</p> <p>A. 5, 9, 13, 17, 21</p> <p>B. 6, 12, 18, 24, 30</p> <p>C. 6, 14, 22, 30, 38</p> <p>D. 4, 11, 18, 25, 32</p>  | <p>2) ¿Qué opción mejor demuestra un patrón con la regla sumar 5?</p> <p>A. 3, 12, 21, 30, 39</p> <p>B. 5, 14, 23, 32, 41</p> <p>C. 1, 3, 5, 7, 9</p> <p>D. 3, 8, 13, 18, 23</p>        |
| <p>3) ¿Qué opción mejor demuestra un patrón con la regla sumar 3?</p> <p>A. 3, 7, 11, 15, 19</p> <p>B. 6, 9, 12, 15, 18</p> <p>C. 6, 13, 20, 27, 34</p> <p>D. 8, 16, 24, 32, 40</p>   | <p>4) ¿Qué opción mejor demuestra un patrón con la regla restar 3?</p> <p>A. 18, 15, 12, 9, 6</p> <p>B. 34, 27, 20, 13, 6</p> <p>C. 30, 25, 20, 15, 10</p> <p>D. 50, 40, 30, 20, 10</p> |
| <p>5) ¿Qué opción mejor demuestra un patrón con la regla sumar 3?</p> <p>A. 2, 5, 8, 11, 14</p> <p>B. 6, 11, 16, 21, 26</p> <p>C. 10, 15, 20, 25, 30</p> <p>D. 6, 8, 10, 12, 14</p>   | <p>6) ¿Qué opción mejor demuestra un patrón con la regla sumar 7?</p> <p>A. 6, 13, 20, 27, 34</p> <p>B. 2, 10, 18, 26, 34</p> <p>C. 10, 18, 26, 34, 42</p> <p>D. 10, 16, 22, 28, 34</p> |
| <p>7) ¿Qué opción mejor demuestra un patrón con la regla restar 9?</p> <p>A. 20, 16, 12, 8, 4</p> <p>B. 40, 31, 22, 13, 4</p> <p>C. 44, 34, 24, 14, 4</p> <p>D. 25, 20, 15, 10, 5</p> | <p>8) ¿Qué opción mejor demuestra un patrón con la regla sumar 5?</p> <p>A. 2, 6, 10, 14, 18</p> <p>B. 5, 11, 17, 23, 29</p> <p>C. 9, 13, 17, 21, 25</p> <p>D. 4, 9, 14, 19, 24</p>     |
| <p>9) ¿Qué opción mejor demuestra un patrón con la regla sumar 8?</p> <p>A. 1, 9, 17, 25, 33</p> <p>B. 4, 10, 16, 22, 28</p> <p>C. 1, 7, 13, 19, 25</p> <p>D. 10, 17, 24, 31, 38</p>  | <p>10) ¿Qué opción mejor demuestra un patrón con la regla sumar 4?</p> <p>A. 6, 8, 10, 12, 14</p> <p>B. 1, 11, 21, 31, 41</p> <p>C. 6, 9, 12, 15, 18</p> <p>D. 1, 5, 9, 13, 17</p>      |

1. \_\_\_\_\_
2. \_\_\_\_\_
3. \_\_\_\_\_
4. \_\_\_\_\_
5. \_\_\_\_\_
6. \_\_\_\_\_
7. \_\_\_\_\_
8. \_\_\_\_\_
9. \_\_\_\_\_
10. \_\_\_\_\_



**Determinar cuál opción responde mejor a la pregunta.**

- |   |   |
|---|---|
| <p>1) ¿Qué opción mejor demuestra un patrón con la regla sumar 6?</p> <p>A. 5, 9, 13, 17, 21</p> <p>B. 6, 12, 18, 24, 30</p> <p>C. 6, 14, 22, 30, 38</p> <p>D. 4, 11, 18, 25, 32</p>  | <p>2) ¿Qué opción mejor demuestra un patrón con la regla sumar 5?</p> <p>A. 3, 12, 21, 30, 39</p> <p>B. 5, 14, 23, 32, 41</p> <p>C. 1, 3, 5, 7, 9</p> <p>D. 3, 8, 13, 18, 23</p>        |
| <p>3) ¿Qué opción mejor demuestra un patrón con la regla sumar 3?</p> <p>A. 3, 7, 11, 15, 19</p> <p>B. 6, 9, 12, 15, 18</p> <p>C. 6, 13, 20, 27, 34</p> <p>D. 8, 16, 24, 32, 40</p>   | <p>4) ¿Qué opción mejor demuestra un patrón con la regla restar 3?</p> <p>A. 18, 15, 12, 9, 6</p> <p>B. 34, 27, 20, 13, 6</p> <p>C. 30, 25, 20, 15, 10</p> <p>D. 50, 40, 30, 20, 10</p> |
| <p>5) ¿Qué opción mejor demuestra un patrón con la regla sumar 3?</p> <p>A. 2, 5, 8, 11, 14</p> <p>B. 6, 11, 16, 21, 26</p> <p>C. 10, 15, 20, 25, 30</p> <p>D. 6, 8, 10, 12, 14</p>   | <p>6) ¿Qué opción mejor demuestra un patrón con la regla sumar 7?</p> <p>A. 6, 13, 20, 27, 34</p> <p>B. 2, 10, 18, 26, 34</p> <p>C. 10, 18, 26, 34, 42</p> <p>D. 10, 16, 22, 28, 34</p> |
| <p>7) ¿Qué opción mejor demuestra un patrón con la regla restar 9?</p> <p>A. 20, 16, 12, 8, 4</p> <p>B. 40, 31, 22, 13, 4</p> <p>C. 44, 34, 24, 14, 4</p> <p>D. 25, 20, 15, 10, 5</p> | <p>8) ¿Qué opción mejor demuestra un patrón con la regla sumar 5?</p> <p>A. 2, 6, 10, 14, 18</p> <p>B. 5, 11, 17, 23, 29</p> <p>C. 9, 13, 17, 21, 25</p> <p>D. 4, 9, 14, 19, 24</p>     |
| <p>9) ¿Qué opción mejor demuestra un patrón con la regla sumar 8?</p> <p>A. 1, 9, 17, 25, 33</p> <p>B. 4, 10, 16, 22, 28</p> <p>C. 1, 7, 13, 19, 25</p> <p>D. 10, 17, 24, 31, 38</p>  | <p>10) ¿Qué opción mejor demuestra un patrón con la regla sumar 4?</p> <p>A. 6, 8, 10, 12, 14</p> <p>B. 1, 11, 21, 31, 41</p> <p>C. 6, 9, 12, 15, 18</p> <p>D. 1, 5, 9, 13, 17</p>      |

**Respuestas**

- |     |          |
|-----|----------|
| 1.  | <b>B</b> |
| 2.  | <b>D</b> |
| 3.  | <b>B</b> |
| 4.  | <b>A</b> |
| 5.  | <b>A</b> |
| 6.  | <b>A</b> |
| 7.  | <b>B</b> |
| 8.  | <b>D</b> |
| 9.  | <b>A</b> |
| 10. | <b>D</b> |



**Determinar cuál opción responde mejor a la pregunta.**

**Respuestas**

- 1) ¿Qué opción mejor demuestra un patrón con la regla sumar 7?  
 A. 1, 7, 13, 19, 25  
 B. 6, 13, 20, 27, 34  
 C. 1, 6, 11, 16, 21  
 D. 8, 18, 28, 38, 48
- 2) ¿Qué opción mejor demuestra un patrón con la regla restar 4?  
 A. 19, 15, 11, 7, 3  
 B. 37, 30, 23, 16, 9  
 C. 50, 40, 30, 20, 10  
 D. 46, 37, 28, 19, 10
- 3) ¿Qué opción mejor demuestra un patrón con la regla restar 5?  
 A. 34, 26, 18, 10, 2  
 B. 27, 22, 17, 12, 7  
 C. 42, 32, 22, 12, 2  
 D. 20, 17, 14, 11, 8
- 4) ¿Qué opción mejor demuestra un patrón con la regla sumar 3?  
 A. 1, 11, 21, 31, 41  
 B. 8, 13, 18, 23, 28  
 C. 2, 5, 8, 11, 14  
 D. 8, 10, 12, 14, 16
- 5) ¿Qué opción mejor demuestra un patrón con la regla restar 8?  
 A. 11, 9, 7, 5, 3  
 B. 42, 34, 26, 18, 10  
 C. 23, 18, 13, 8, 3  
 D. 13, 10, 7, 4, 1
- 6) ¿Qué opción mejor demuestra un patrón con la regla sumar 4?  
 A. 10, 17, 24, 31, 38  
 B. 1, 3, 5, 7, 9  
 C. 4, 12, 20, 28, 36  
 D. 4, 8, 12, 16, 20
- 7) ¿Qué opción mejor demuestra un patrón con la regla sumar 3?  
 A. 9, 12, 15, 18, 21  
 B. 6, 10, 14, 18, 22  
 C. 1, 11, 21, 31, 41  
 D. 2, 9, 16, 23, 30
- 8) ¿Qué opción mejor demuestra un patrón con la regla sumar 3?  
 A. 2, 8, 14, 20, 26  
 B. 9, 14, 19, 24, 29  
 C. 7, 10, 13, 16, 19  
 D. 8, 16, 24, 32, 40
- 9) ¿Qué opción mejor demuestra un patrón con la regla sumar 8?  
 A. 2, 6, 10, 14, 18  
 B. 4, 12, 20, 28, 36  
 C. 4, 11, 18, 25, 32  
 D. 2, 11, 20, 29, 38
- 10) ¿Qué opción mejor demuestra un patrón con la regla restar 5?  
 A. 16, 13, 10, 7, 4  
 B. 32, 26, 20, 14, 8  
 C. 25, 20, 15, 10, 5  
 D. 21, 17, 13, 9, 5

1. \_\_\_\_\_
2. \_\_\_\_\_
3. \_\_\_\_\_
4. \_\_\_\_\_
5. \_\_\_\_\_
6. \_\_\_\_\_
7. \_\_\_\_\_
8. \_\_\_\_\_
9. \_\_\_\_\_
10. \_\_\_\_\_



**Determinar cuál opción responde mejor a la pregunta.**

- 1) ¿Qué opción mejor demuestra un patrón con la regla sumar 7?  
 A. 1, 7, 13, 19, 25  
 B. 6, 13, 20, 27, 34  
 C. 1, 6, 11, 16, 21  
 D. 8, 18, 28, 38, 48
- 2) ¿Qué opción mejor demuestra un patrón con la regla restar 4?  
 A. 19, 15, 11, 7, 3  
 B. 37, 30, 23, 16, 9  
 C. 50, 40, 30, 20, 10  
 D. 46, 37, 28, 19, 10
- 3) ¿Qué opción mejor demuestra un patrón con la regla restar 5?  
 A. 34, 26, 18, 10, 2  
 B. 27, 22, 17, 12, 7  
 C. 42, 32, 22, 12, 2  
 D. 20, 17, 14, 11, 8
- 4) ¿Qué opción mejor demuestra un patrón con la regla sumar 3?  
 A. 1, 11, 21, 31, 41  
 B. 8, 13, 18, 23, 28  
 C. 2, 5, 8, 11, 14  
 D. 8, 10, 12, 14, 16
- 5) ¿Qué opción mejor demuestra un patrón con la regla restar 8?  
 A. 11, 9, 7, 5, 3  
 B. 42, 34, 26, 18, 10  
 C. 23, 18, 13, 8, 3  
 D. 13, 10, 7, 4, 1
- 6) ¿Qué opción mejor demuestra un patrón con la regla sumar 4?  
 A. 10, 17, 24, 31, 38  
 B. 1, 3, 5, 7, 9  
 C. 4, 12, 20, 28, 36  
 D. 4, 8, 12, 16, 20
- 7) ¿Qué opción mejor demuestra un patrón con la regla sumar 3?  
 A. 9, 12, 15, 18, 21  
 B. 6, 10, 14, 18, 22  
 C. 1, 11, 21, 31, 41  
 D. 2, 9, 16, 23, 30
- 8) ¿Qué opción mejor demuestra un patrón con la regla sumar 3?  
 A. 2, 8, 14, 20, 26  
 B. 9, 14, 19, 24, 29  
 C. 7, 10, 13, 16, 19  
 D. 8, 16, 24, 32, 40
- 9) ¿Qué opción mejor demuestra un patrón con la regla sumar 8?  
 A. 2, 6, 10, 14, 18  
 B. 4, 12, 20, 28, 36  
 C. 4, 11, 18, 25, 32  
 D. 2, 11, 20, 29, 38
- 10) ¿Qué opción mejor demuestra un patrón con la regla restar 5?  
 A. 16, 13, 10, 7, 4  
 B. 32, 26, 20, 14, 8  
 C. 25, 20, 15, 10, 5  
 D. 21, 17, 13, 9, 5

**Respuestas**

1.           **B**
2.           **A**
3.           **B**
4.           **C**
5.           **B**
6.           **D**
7.           **A**
8.           **C**
9.           **B**
10.          **C**



**Determinar cuál opción responde mejor a la pregunta.**

**Respuestas**

- 1) ¿Qué opción mejor demuestra un patrón con la regla sumar 6?  
 A. 4, 8, 12, 16, 20  
 B. 10, 16, 22, 28, 34  
 C. 6, 8, 10, 12, 14  
 D. 1, 6, 11, 16, 21
- 2) ¿Qué opción mejor demuestra un patrón con la regla sumar 10?  
 A. 3, 12, 21, 30, 39  
 B. 6, 11, 16, 21, 26  
 C. 4, 14, 24, 34, 44  
 D. 9, 18, 27, 36, 45
- 3) ¿Qué opción mejor demuestra un patrón con la regla restar 7?  
 A. 26, 22, 18, 14, 10  
 B. 38, 31, 24, 17, 10  
 C. 13, 11, 9, 7, 5  
 D. 14, 12, 10, 8, 6
- 4) ¿Qué opción mejor demuestra un patrón con la regla sumar 6?  
 A. 6, 13, 20, 27, 34  
 B. 7, 10, 13, 16, 19  
 C. 2, 8, 14, 20, 26  
 D. 2, 10, 18, 26, 34
- 5) ¿Qué opción mejor demuestra un patrón con la regla restar 7?  
 A. 49, 39, 29, 19, 9  
 B. 42, 32, 22, 12, 2  
 C. 29, 22, 15, 8, 1  
 D. 9, 7, 5, 3, 1
- 6) ¿Qué opción mejor demuestra un patrón con la regla sumar 8?  
 A. 8, 12, 16, 20, 24  
 B. 5, 13, 21, 29, 37  
 C. 8, 13, 18, 23, 28  
 D. 10, 15, 20, 25, 30
- 7) ¿Qué opción mejor demuestra un patrón con la regla restar 3?  
 A. 17, 13, 9, 5, 1  
 B. 13, 10, 7, 4, 1  
 C. 30, 23, 16, 9, 2  
 D. 38, 29, 20, 11, 2
- 8) ¿Qué opción mejor demuestra un patrón con la regla restar 10?  
 A. 43, 34, 25, 16, 7  
 B. 47, 37, 27, 17, 7  
 C. 21, 18, 15, 12, 9  
 D. 24, 19, 14, 9, 4
- 9) ¿Qué opción mejor demuestra un patrón con la regla restar 9?  
 A. 44, 35, 26, 17, 8  
 B. 9, 7, 5, 3, 1  
 C. 17, 15, 13, 11, 9  
 D. 34, 26, 18, 10, 2
- 10) ¿Qué opción mejor demuestra un patrón con la regla restar 10?  
 A. 17, 15, 13, 11, 9  
 B. 50, 40, 30, 20, 10  
 C. 16, 13, 10, 7, 4  
 D. 22, 17, 12, 7, 2

1. \_\_\_\_\_
2. \_\_\_\_\_
3. \_\_\_\_\_
4. \_\_\_\_\_
5. \_\_\_\_\_
6. \_\_\_\_\_
7. \_\_\_\_\_
8. \_\_\_\_\_
9. \_\_\_\_\_
10. \_\_\_\_\_

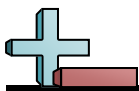


**Determinar cuál opción responde mejor a la pregunta.**

- |   |   |
|---|---|
| <p>1) ¿Qué opción mejor demuestra un patrón con la regla sumar 6?</p> <p>A. 4, 8, 12, 16, 20</p> <p>B. 10, 16, 22, 28, 34</p> <p>C. 6, 8, 10, 12, 14</p> <p>D. 1, 6, 11, 16, 21</p>   | <p>2) ¿Qué opción mejor demuestra un patrón con la regla sumar 10?</p> <p>A. 3, 12, 21, 30, 39</p> <p>B. 6, 11, 16, 21, 26</p> <p>C. 4, 14, 24, 34, 44</p> <p>D. 9, 18, 27, 36, 45</p>  |
| <p>3) ¿Qué opción mejor demuestra un patrón con la regla restar 7?</p> <p>A. 26, 22, 18, 14, 10</p> <p>B. 38, 31, 24, 17, 10</p> <p>C. 13, 11, 9, 7, 5</p> <p>D. 14, 12, 10, 8, 6</p> | <p>4) ¿Qué opción mejor demuestra un patrón con la regla sumar 6?</p> <p>A. 6, 13, 20, 27, 34</p> <p>B. 7, 10, 13, 16, 19</p> <p>C. 2, 8, 14, 20, 26</p> <p>D. 2, 10, 18, 26, 34</p>    |
| <p>5) ¿Qué opción mejor demuestra un patrón con la regla restar 7?</p> <p>A. 49, 39, 29, 19, 9</p> <p>B. 42, 32, 22, 12, 2</p> <p>C. 29, 22, 15, 8, 1</p> <p>D. 9, 7, 5, 3, 1</p>     | <p>6) ¿Qué opción mejor demuestra un patrón con la regla sumar 8?</p> <p>A. 8, 12, 16, 20, 24</p> <p>B. 5, 13, 21, 29, 37</p> <p>C. 8, 13, 18, 23, 28</p> <p>D. 10, 15, 20, 25, 30</p>  |
| <p>7) ¿Qué opción mejor demuestra un patrón con la regla restar 3?</p> <p>A. 17, 13, 9, 5, 1</p> <p>B. 13, 10, 7, 4, 1</p> <p>C. 30, 23, 16, 9, 2</p> <p>D. 38, 29, 20, 11, 2</p>     | <p>8) ¿Qué opción mejor demuestra un patrón con la regla restar 10?</p> <p>A. 43, 34, 25, 16, 7</p> <p>B. 47, 37, 27, 17, 7</p> <p>C. 21, 18, 15, 12, 9</p> <p>D. 24, 19, 14, 9, 4</p>  |
| <p>9) ¿Qué opción mejor demuestra un patrón con la regla restar 9?</p> <p>A. 44, 35, 26, 17, 8</p> <p>B. 9, 7, 5, 3, 1</p> <p>C. 17, 15, 13, 11, 9</p> <p>D. 34, 26, 18, 10, 2</p>    | <p>10) ¿Qué opción mejor demuestra un patrón con la regla restar 10?</p> <p>A. 17, 15, 13, 11, 9</p> <p>B. 50, 40, 30, 20, 10</p> <p>C. 16, 13, 10, 7, 4</p> <p>D. 22, 17, 12, 7, 2</p> |

**Respuestas**

- |     |          |
|-----|----------|
| 1.  | <b>B</b> |
| 2.  | <b>C</b> |
| 3.  | <b>B</b> |
| 4.  | <b>C</b> |
| 5.  | <b>C</b> |
| 6.  | <b>B</b> |
| 7.  | <b>B</b> |
| 8.  | <b>B</b> |
| 9.  | <b>A</b> |
| 10. | <b>B</b> |

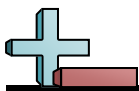


**Determinar cuál opción responde mejor a la pregunta.**

- |  |  |
|--|--|
| <p>1) ¿Qué opción mejor demuestra un patrón con la regla sumar 8?</p> <p>A. 9 , 11 , 13 , 15 , 17</p> <p>B. 7 , 14 , 21 , 28 , 35</p> <p>C. 8 , 16 , 24 , 32 , 40</p> <p>D. 2 , 7 , 12 , 17 , 22</p>   | <p>2) ¿Qué opción mejor demuestra un patrón con la regla restar 6?</p> <p>A. 43 , 33 , 23 , 13 , 3</p> <p>B. 26 , 20 , 14 , 8 , 2</p> <p>C. 24 , 19 , 14 , 9 , 4</p> <p>D. 42 , 34 , 26 , 18 , 10</p>  |
| <p>3) ¿Qué opción mejor demuestra un patrón con la regla restar 3?</p> <p>A. 36 , 28 , 20 , 12 , 4</p> <p>B. 24 , 20 , 16 , 12 , 8</p> <p>C. 21 , 18 , 15 , 12 , 9</p> <p>D. 45 , 35 , 25 , 15 , 5</p> | <p>4) ¿Qué opción mejor demuestra un patrón con la regla restar 3?</p> <p>A. 39 , 30 , 21 , 12 , 3</p> <p>B. 22 , 19 , 16 , 13 , 10</p> <p>C. 15 , 13 , 11 , 9 , 7</p> <p>D. 41 , 31 , 21 , 11 , 1</p> |
| <p>5) ¿Qué opción mejor demuestra un patrón con la regla sumar 6?</p> <p>A. 3 , 9 , 15 , 21 , 27</p> <p>B. 4 , 14 , 24 , 34 , 44</p> <p>C. 7 , 11 , 15 , 19 , 23</p> <p>D. 10 , 14 , 18 , 22 , 26</p>  | <p>6) ¿Qué opción mejor demuestra un patrón con la regla sumar 7?</p> <p>A. 1 , 3 , 5 , 7 , 9</p> <p>B. 3 , 9 , 15 , 21 , 27</p> <p>C. 10 , 16 , 22 , 28 , 34</p> <p>D. 9 , 16 , 23 , 30 , 37</p>      |
| <p>7) ¿Qué opción mejor demuestra un patrón con la regla restar 6?</p> <p>A. 26 , 22 , 18 , 14 , 10</p> <p>B. 21 , 18 , 15 , 12 , 9</p> <p>C. 27 , 21 , 15 , 9 , 3</p> <p>D. 29 , 22 , 15 , 8 , 1</p>  | <p>8) ¿Qué opción mejor demuestra un patrón con la regla restar 7?</p> <p>A. 15 , 12 , 9 , 6 , 3</p> <p>B. 29 , 23 , 17 , 11 , 5</p> <p>C. 33 , 26 , 19 , 12 , 5</p> <p>D. 22 , 17 , 12 , 7 , 2</p>    |
| <p>9) ¿Qué opción mejor demuestra un patrón con la regla restar 6?</p> <p>A. 13 , 11 , 9 , 7 , 5</p> <p>B. 34 , 26 , 18 , 10 , 2</p> <p>C. 32 , 26 , 20 , 14 , 8</p> <p>D. 42 , 33 , 24 , 15 , 6</p>   | <p>10) ¿Qué opción mejor demuestra un patrón con la regla sumar 9?</p> <p>A. 5 , 8 , 11 , 14 , 17</p> <p>B. 1 , 10 , 19 , 28 , 37</p> <p>C. 2 , 6 , 10 , 14 , 18</p> <p>D. 5 , 10 , 15 , 20 , 25</p>   |

**Respuestas**

1. \_\_\_\_\_
2. \_\_\_\_\_
3. \_\_\_\_\_
4. \_\_\_\_\_
5. \_\_\_\_\_
6. \_\_\_\_\_
7. \_\_\_\_\_
8. \_\_\_\_\_
9. \_\_\_\_\_
10. \_\_\_\_\_



**Determinar cuál opción responde mejor a la pregunta.**

- |  |  |
|--|--|
| <p>1) ¿Qué opción mejor demuestra un patrón con la regla sumar 8?</p> <p>A. 9, 11, 13, 15, 17</p> <p>B. 7, 14, 21, 28, 35</p> <p>C. 8, 16, 24, 32, 40</p> <p>D. 2, 7, 12, 17, 22</p>   | <p>2) ¿Qué opción mejor demuestra un patrón con la regla restar 6?</p> <p>A. 43, 33, 23, 13, 3</p> <p>B. 26, 20, 14, 8, 2</p> <p>C. 24, 19, 14, 9, 4</p> <p>D. 42, 34, 26, 18, 10</p>  |
| <p>3) ¿Qué opción mejor demuestra un patrón con la regla restar 3?</p> <p>A. 36, 28, 20, 12, 4</p> <p>B. 24, 20, 16, 12, 8</p> <p>C. 21, 18, 15, 12, 9</p> <p>D. 45, 35, 25, 15, 5</p> | <p>4) ¿Qué opción mejor demuestra un patrón con la regla restar 3?</p> <p>A. 39, 30, 21, 12, 3</p> <p>B. 22, 19, 16, 13, 10</p> <p>C. 15, 13, 11, 9, 7</p> <p>D. 41, 31, 21, 11, 1</p> |
| <p>5) ¿Qué opción mejor demuestra un patrón con la regla sumar 6?</p> <p>A. 3, 9, 15, 21, 27</p> <p>B. 4, 14, 24, 34, 44</p> <p>C. 7, 11, 15, 19, 23</p> <p>D. 10, 14, 18, 22, 26</p>  | <p>6) ¿Qué opción mejor demuestra un patrón con la regla sumar 7?</p> <p>A. 1, 3, 5, 7, 9</p> <p>B. 3, 9, 15, 21, 27</p> <p>C. 10, 16, 22, 28, 34</p> <p>D. 9, 16, 23, 30, 37</p>      |
| <p>7) ¿Qué opción mejor demuestra un patrón con la regla restar 6?</p> <p>A. 26, 22, 18, 14, 10</p> <p>B. 21, 18, 15, 12, 9</p> <p>C. 27, 21, 15, 9, 3</p> <p>D. 29, 22, 15, 8, 1</p>  | <p>8) ¿Qué opción mejor demuestra un patrón con la regla restar 7?</p> <p>A. 15, 12, 9, 6, 3</p> <p>B. 29, 23, 17, 11, 5</p> <p>C. 33, 26, 19, 12, 5</p> <p>D. 22, 17, 12, 7, 2</p>    |
| <p>9) ¿Qué opción mejor demuestra un patrón con la regla restar 6?</p> <p>A. 13, 11, 9, 7, 5</p> <p>B. 34, 26, 18, 10, 2</p> <p>C. 32, 26, 20, 14, 8</p> <p>D. 42, 33, 24, 15, 6</p>   | <p>10) ¿Qué opción mejor demuestra un patrón con la regla sumar 9?</p> <p>A. 5, 8, 11, 14, 17</p> <p>B. 1, 10, 19, 28, 37</p> <p>C. 2, 6, 10, 14, 18</p> <p>D. 5, 10, 15, 20, 25</p>   |

**Respuestas**

- |     |   |  |
|-----|---|--|
| 1.  | C |  |
| 2.  | B |  |
| 3.  | C |  |
| 4.  | B |  |
| 5.  | A |  |
| 6.  | D |  |
| 7.  | C |  |
| 8.  | C |  |
| 9.  | C |  |
| 10. | B |  |





**Determinar cuál opción responde mejor a la pregunta.**

**Respuestas**

- 1) ¿Qué opción mejor demuestra un patrón con la regla restar 5?  
 A. 32 , 25 , 18 , 11 , 4  
 B. 43 , 34 , 25 , 16 , 7  
 C. 30 , 25 , 20 , 15 , 10  
 D. 22 , 19 , 16 , 13 , 10
- 2) ¿Qué opción mejor demuestra un patrón con la regla sumar 4?  
 A. 3 , 12 , 21 , 30 , 39  
 B. 9 , 11 , 13 , 15 , 17  
 C. 5 , 14 , 23 , 32 , 41  
 D. 7 , 11 , 15 , 19 , 23
- 3) ¿Qué opción mejor demuestra un patrón con la regla sumar 9?  
 A. 3 , 5 , 7 , 9 , 11  
 B. 2 , 6 , 10 , 14 , 18  
 C. 3 , 12 , 21 , 30 , 39  
 D. 4 , 8 , 12 , 16 , 20
- 4) ¿Qué opción mejor demuestra un patrón con la regla sumar 5?  
 A. 4 , 13 , 22 , 31 , 40  
 B. 8 , 16 , 24 , 32 , 40  
 C. 4 , 9 , 14 , 19 , 24  
 D. 8 , 12 , 16 , 20 , 24
- 5) ¿Qué opción mejor demuestra un patrón con la regla sumar 2?  
 A. 2 , 7 , 12 , 17 , 22  
 B. 1 , 5 , 9 , 13 , 17  
 C. 10 , 12 , 14 , 16 , 18  
 D. 7 , 12 , 17 , 22 , 27
- 6) ¿Qué opción mejor demuestra un patrón con la regla restar 9?  
 A. 11 , 9 , 7 , 5 , 3  
 B. 48 , 38 , 28 , 18 , 8  
 C. 31 , 24 , 17 , 10 , 3  
 D. 40 , 31 , 22 , 13 , 4
- 7) ¿Qué opción mejor demuestra un patrón con la regla restar 7?  
 A. 33 , 26 , 19 , 12 , 5  
 B. 38 , 29 , 20 , 11 , 2  
 C. 17 , 15 , 13 , 11 , 9  
 D. 27 , 21 , 15 , 9 , 3
- 8) ¿Qué opción mejor demuestra un patrón con la regla restar 4?  
 A. 30 , 25 , 20 , 15 , 10  
 B. 25 , 21 , 17 , 13 , 9  
 C. 22 , 17 , 12 , 7 , 2  
 D. 18 , 15 , 12 , 9 , 6
- 9) ¿Qué opción mejor demuestra un patrón con la regla sumar 10?  
 A. 2 , 11 , 20 , 29 , 38  
 B. 7 , 16 , 25 , 34 , 43  
 C. 1 , 11 , 21 , 31 , 41  
 D. 7 , 10 , 13 , 16 , 19
- 10) ¿Qué opción mejor demuestra un patrón con la regla sumar 9?  
 A. 5 , 9 , 13 , 17 , 21  
 B. 10 , 17 , 24 , 31 , 38  
 C. 4 , 13 , 22 , 31 , 40  
 D. 10 , 15 , 20 , 25 , 30

1. \_\_\_\_\_
2. \_\_\_\_\_
3. \_\_\_\_\_
4. \_\_\_\_\_
5. \_\_\_\_\_
6. \_\_\_\_\_
7. \_\_\_\_\_
8. \_\_\_\_\_
9. \_\_\_\_\_
10. \_\_\_\_\_



**Determinar cuál opción responde mejor a la pregunta.**

- |  |   |
|--|---|
| <p>1) ¿Qué opción mejor demuestra un patrón con la regla restar 5?</p> <p>A. 32 , 25 , 18 , 11 , 4</p> <p>B. 43 , 34 , 25 , 16 , 7</p> <p>C. 30 , 25 , 20 , 15 , 10</p> <p>D. 22 , 19 , 16 , 13 , 10</p> | <p>2) ¿Qué opción mejor demuestra un patrón con la regla sumar 4?</p> <p>A. 3 , 12 , 21 , 30 , 39</p> <p>B. 9 , 11 , 13 , 15 , 17</p> <p>C. 5 , 14 , 23 , 32 , 41</p> <p>D. 7 , 11 , 15 , 19 , 23</p>   |
| <p>3) ¿Qué opción mejor demuestra un patrón con la regla sumar 9?</p> <p>A. 3 , 5 , 7 , 9 , 11</p> <p>B. 2 , 6 , 10 , 14 , 18</p> <p>C. 3 , 12 , 21 , 30 , 39</p> <p>D. 4 , 8 , 12 , 16 , 20</p>         | <p>4) ¿Qué opción mejor demuestra un patrón con la regla sumar 5?</p> <p>A. 4 , 13 , 22 , 31 , 40</p> <p>B. 8 , 16 , 24 , 32 , 40</p> <p>C. 4 , 9 , 14 , 19 , 24</p> <p>D. 8 , 12 , 16 , 20 , 24</p>    |
| <p>5) ¿Qué opción mejor demuestra un patrón con la regla sumar 2?</p> <p>A. 2 , 7 , 12 , 17 , 22</p> <p>B. 1 , 5 , 9 , 13 , 17</p> <p>C. 10 , 12 , 14 , 16 , 18</p> <p>D. 7 , 12 , 17 , 22 , 27</p>      | <p>6) ¿Qué opción mejor demuestra un patrón con la regla restar 9?</p> <p>A. 11 , 9 , 7 , 5 , 3</p> <p>B. 48 , 38 , 28 , 18 , 8</p> <p>C. 31 , 24 , 17 , 10 , 3</p> <p>D. 40 , 31 , 22 , 13 , 4</p>     |
| <p>7) ¿Qué opción mejor demuestra un patrón con la regla restar 7?</p> <p>A. 33 , 26 , 19 , 12 , 5</p> <p>B. 38 , 29 , 20 , 11 , 2</p> <p>C. 17 , 15 , 13 , 11 , 9</p> <p>D. 27 , 21 , 15 , 9 , 3</p>    | <p>8) ¿Qué opción mejor demuestra un patrón con la regla restar 4?</p> <p>A. 30 , 25 , 20 , 15 , 10</p> <p>B. 25 , 21 , 17 , 13 , 9</p> <p>C. 22 , 17 , 12 , 7 , 2</p> <p>D. 18 , 15 , 12 , 9 , 6</p>   |
| <p>9) ¿Qué opción mejor demuestra un patrón con la regla sumar 10?</p> <p>A. 2 , 11 , 20 , 29 , 38</p> <p>B. 7 , 16 , 25 , 34 , 43</p> <p>C. 1 , 11 , 21 , 31 , 41</p> <p>D. 7 , 10 , 13 , 16 , 19</p>   | <p>10) ¿Qué opción mejor demuestra un patrón con la regla sumar 9?</p> <p>A. 5 , 9 , 13 , 17 , 21</p> <p>B. 10 , 17 , 24 , 31 , 38</p> <p>C. 4 , 13 , 22 , 31 , 40</p> <p>D. 10 , 15 , 20 , 25 , 30</p> |

**Respuestas**

1.           **C**
2.           **D**
3.           **C**
4.           **C**
5.           **C**
6.           **D**
7.           **A**
8.           **B**
9.           **C**
10.          **C**



**Determinar cuál opción responde mejor a la pregunta.**

- |  |  |
|--|--|
| <p>1) ¿Qué opción mejor demuestra un patrón con la regla sumar 5?</p> <p>A. 6, 8, 10, 12, 14</p> <p>B. 5, 7, 9, 11, 13</p> <p>C. 5, 14, 23, 32, 41</p> <p>D. 7, 12, 17, 22, 27</p>   | <p>2) ¿Qué opción mejor demuestra un patrón con la regla restar 10?</p> <p>A. 50, 40, 30, 20, 10</p> <p>B. 40, 32, 24, 16, 8</p> <p>C. 46, 37, 28, 19, 10</p> <p>D. 22, 17, 12, 7, 2</p> |
| <p>3) ¿Qué opción mejor demuestra un patrón con la regla sumar 6?</p> <p>A. 2, 6, 10, 14, 18</p> <p>B. 2, 4, 6, 8, 10</p> <p>C. 9, 15, 21, 27, 33</p> <p>D. 8, 16, 24, 32, 40</p>    | <p>4) ¿Qué opción mejor demuestra un patrón con la regla sumar 3?</p> <p>A. 3, 7, 11, 15, 19</p> <p>B. 3, 6, 9, 12, 15</p> <p>C. 3, 9, 15, 21, 27</p> <p>D. 9, 19, 29, 39, 49</p>        |
| <p>5) ¿Qué opción mejor demuestra un patrón con la regla restar 9?</p> <p>A. 33, 26, 19, 12, 5</p> <p>B. 15, 13, 11, 9, 7</p> <p>C. 41, 32, 23, 14, 5</p> <p>D. 11, 9, 7, 5, 3</p>   | <p>6) ¿Qué opción mejor demuestra un patrón con la regla sumar 3?</p> <p>A. 4, 8, 12, 16, 20</p> <p>B. 8, 12, 16, 20, 24</p> <p>C. 10, 13, 16, 19, 22</p> <p>D. 10, 20, 30, 40, 50</p>   |
| <p>7) ¿Qué opción mejor demuestra un patrón con la regla sumar 6?</p> <p>A. 2, 11, 20, 29, 38</p> <p>B. 4, 13, 22, 31, 40</p> <p>C. 5, 7, 9, 11, 13</p> <p>D. 6, 12, 18, 24, 30</p>  | <p>8) ¿Qué opción mejor demuestra un patrón con la regla sumar 5?</p> <p>A. 6, 13, 20, 27, 34</p> <p>B. 9, 14, 19, 24, 29</p> <p>C. 7, 17, 27, 37, 47</p> <p>D. 7, 11, 15, 19, 23</p>    |
| <p>9) ¿Qué opción mejor demuestra un patrón con la regla restar 3?</p> <p>A. 21, 16, 11, 6, 1</p> <p>B. 26, 21, 16, 11, 6</p> <p>C. 17, 14, 11, 8, 5</p> <p>D. 25, 20, 15, 10, 5</p> | <p>10) ¿Qué opción mejor demuestra un patrón con la regla sumar 2?</p> <p>A. 10, 18, 26, 34, 42</p> <p>B. 1, 5, 9, 13, 17</p> <p>C. 2, 12, 22, 32, 42</p> <p>D. 10, 12, 14, 16, 18</p>   |

**Respuestas**

1. \_\_\_\_\_
2. \_\_\_\_\_
3. \_\_\_\_\_
4. \_\_\_\_\_
5. \_\_\_\_\_
6. \_\_\_\_\_
7. \_\_\_\_\_
8. \_\_\_\_\_
9. \_\_\_\_\_
10. \_\_\_\_\_



**Determinar cuál opción responde mejor a la pregunta.**

- |  |  |
|--|--|
| <p>1) ¿Qué opción mejor demuestra un patrón con la regla sumar 5?</p> <p>A. 6, 8, 10, 12, 14</p> <p>B. 5, 7, 9, 11, 13</p> <p>C. 5, 14, 23, 32, 41</p> <p>D. 7, 12, 17, 22, 27</p>   | <p>2) ¿Qué opción mejor demuestra un patrón con la regla restar 10?</p> <p>A. 50, 40, 30, 20, 10</p> <p>B. 40, 32, 24, 16, 8</p> <p>C. 46, 37, 28, 19, 10</p> <p>D. 22, 17, 12, 7, 2</p> |
| <p>3) ¿Qué opción mejor demuestra un patrón con la regla sumar 6?</p> <p>A. 2, 6, 10, 14, 18</p> <p>B. 2, 4, 6, 8, 10</p> <p>C. 9, 15, 21, 27, 33</p> <p>D. 8, 16, 24, 32, 40</p>    | <p>4) ¿Qué opción mejor demuestra un patrón con la regla sumar 3?</p> <p>A. 3, 7, 11, 15, 19</p> <p>B. 3, 6, 9, 12, 15</p> <p>C. 3, 9, 15, 21, 27</p> <p>D. 9, 19, 29, 39, 49</p>        |
| <p>5) ¿Qué opción mejor demuestra un patrón con la regla restar 9?</p> <p>A. 33, 26, 19, 12, 5</p> <p>B. 15, 13, 11, 9, 7</p> <p>C. 41, 32, 23, 14, 5</p> <p>D. 11, 9, 7, 5, 3</p>   | <p>6) ¿Qué opción mejor demuestra un patrón con la regla sumar 3?</p> <p>A. 4, 8, 12, 16, 20</p> <p>B. 8, 12, 16, 20, 24</p> <p>C. 10, 13, 16, 19, 22</p> <p>D. 10, 20, 30, 40, 50</p>   |
| <p>7) ¿Qué opción mejor demuestra un patrón con la regla sumar 6?</p> <p>A. 2, 11, 20, 29, 38</p> <p>B. 4, 13, 22, 31, 40</p> <p>C. 5, 7, 9, 11, 13</p> <p>D. 6, 12, 18, 24, 30</p>  | <p>8) ¿Qué opción mejor demuestra un patrón con la regla sumar 5?</p> <p>A. 6, 13, 20, 27, 34</p> <p>B. 9, 14, 19, 24, 29</p> <p>C. 7, 17, 27, 37, 47</p> <p>D. 7, 11, 15, 19, 23</p>    |
| <p>9) ¿Qué opción mejor demuestra un patrón con la regla restar 3?</p> <p>A. 21, 16, 11, 6, 1</p> <p>B. 26, 21, 16, 11, 6</p> <p>C. 17, 14, 11, 8, 5</p> <p>D. 25, 20, 15, 10, 5</p> | <p>10) ¿Qué opción mejor demuestra un patrón con la regla sumar 2?</p> <p>A. 10, 18, 26, 34, 42</p> <p>B. 1, 5, 9, 13, 17</p> <p>C. 2, 12, 22, 32, 42</p> <p>D. 10, 12, 14, 16, 18</p>   |

**Respuestas**

- |     |          |  |
|-----|----------|--|
| 1.  | <b>D</b> |  |
| 2.  | <b>A</b> |  |
| 3.  | <b>C</b> |  |
| 4.  | <b>B</b> |  |
| 5.  | <b>C</b> |  |
| 6.  | <b>C</b> |  |
| 7.  | <b>D</b> |  |
| 8.  | <b>B</b> |  |
| 9.  | <b>C</b> |  |
| 10. | <b>D</b> |  |