



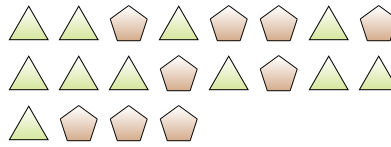
Resolver cada problema.

Respuestas

Ej) ¿Cuál es la relación de corazones a lunas?



1) ¿Cuál es la relación de pentágonos a triángulos?



Ej. **7:11**

1. _____

2. _____

3. _____

4. _____

5. _____

6. _____

7. _____

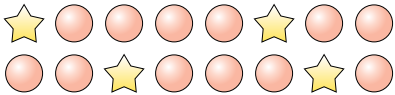
8. _____

9. _____

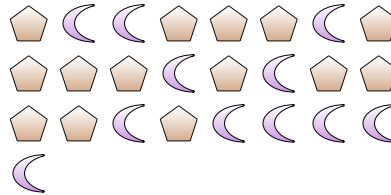
10. _____

11. _____

2) ¿Cuál es la relación de estrellas a círculos?



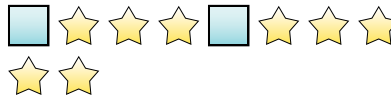
3) ¿Cuál es la relación de pentágonos a lunas?



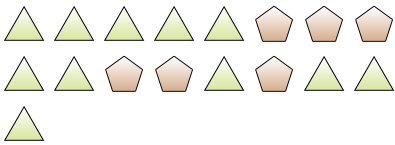
4) ¿Cuál es la relación de estrellas a triángulos?



5) ¿Cuál es la relación de cuadros a estrellas?



6) ¿Cuál es la relación de pentágonos a triángulos?



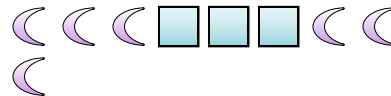
7) ¿Cuál es la relación de cuadros a estrellas?



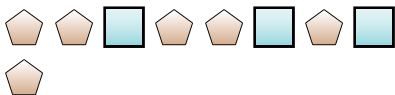
8) ¿Cuál es la relación de triángulos a estrellas?



9) ¿Cuál es la relación de lunas a cuadros?



10) ¿Cuál es la relación de cuadros a pentágonos?



11) ¿Cuál es la relación de estrellas a cuadros?



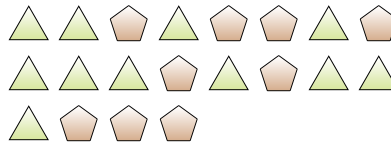


Resolver cada problema.

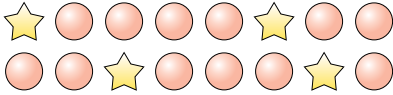
Ej) ¿Cuál es la relación de corazones a lunas?



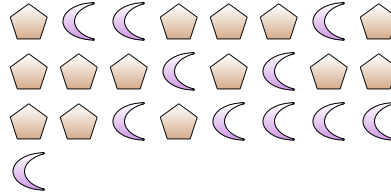
1) ¿Cuál es la relación de pentágonos a triángulos?



2) ¿Cuál es la relación de estrellas a círculos?



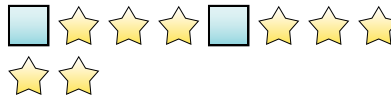
3) ¿Cuál es la relación de pentágonos a lunas?



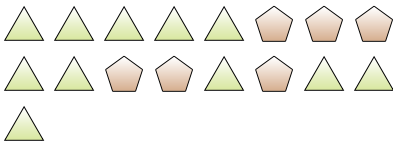
4) ¿Cuál es la relación de estrellas a triángulos?



5) ¿Cuál es la relación de cuadros a estrellas?



6) ¿Cuál es la relación de pentágonos a triángulos?



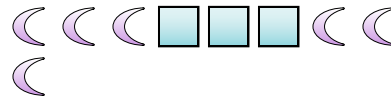
7) ¿Cuál es la relación de cuadros a estrellas?



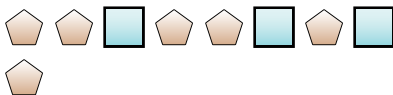
8) ¿Cuál es la relación de triángulos a estrellas?



9) ¿Cuál es la relación de lunas a cuadros?



10) ¿Cuál es la relación de cuadros a pentágonos?



11) ¿Cuál es la relación de estrellas a cuadros?



Respuestas

Ej. 7:11

1. 9:11

2. 4:12

3. 14:11

4. 9:9

5. 2:8

6. 6:11

7. 10:9

8. 7:4

9. 6:3

10. 3:6

11. 13:2