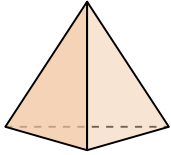




Determinar cuál de las opciones describe mejor la forma mostrada.

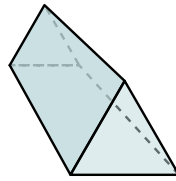
**Respuestas**

1)



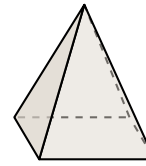
- A. Cilindro
- B. Prisma Rectangular
- C. Triangular Pirámide
- D. Cubo

2)



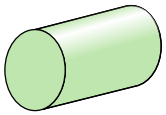
- A. Cilindro
- B. Prisma Rectangular
- C. Pirámide Rectangular
- D. Triangular Prisma

3)



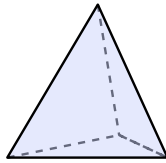
- A. Esfera
- B. Triangular Prisma
- C. Pirámide Rectangular
- D. Prisma Rectangular

4)



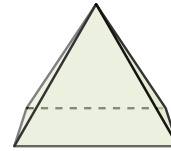
- A. Cubo
- B. Pirámide Rectangular
- C. Esfera
- D. Cilindro

5)



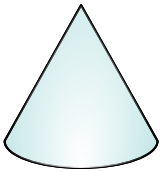
- A. Pirámide Rectangular
- B. Esfera
- C. Triangular Pirámide
- D. Cubo

6)



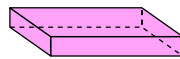
- A. Prisma Rectangular
- B. Pirámide Rectangular
- C. Cubo
- D. Esfera

7)



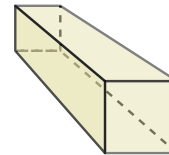
- A. Cono
- B. Triangular Pirámide
- C. Cubo
- D. Pirámide Rectangular

8)



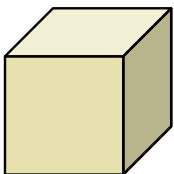
- A. Cilindro
- B. Pirámide Rectangular
- C. Prisma Rectangular
- D. Triangular Pirámide

9)




- A. Prisma Rectangular
- B. Cilindro
- C. Triangular Prisma
- D. Cubo

10)



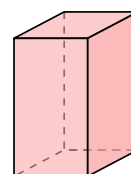
- A. Cubo
- B. Esfera
- C. Pirámide Rectangular
- D. Cono

11)



- A. Pirámide Rectangular
- B. Cilindro
- C. Prisma Rectangular
- D. Triangular Pirámide

12)



- A. Triangular Pirámide
- B. Prisma Rectangular
- C. Cubo
- D. Cono

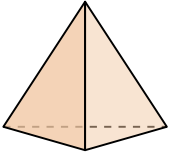
- 1. \_\_\_\_\_
- 2. \_\_\_\_\_
- 3. \_\_\_\_\_
- 4. \_\_\_\_\_
- 5. \_\_\_\_\_
- 6. \_\_\_\_\_
- 7. \_\_\_\_\_
- 8. \_\_\_\_\_
- 9. \_\_\_\_\_
- 10. \_\_\_\_\_
- 11. \_\_\_\_\_
- 12. \_\_\_\_\_



Determinar cuál de las opciones describe mejor la forma mostrada.

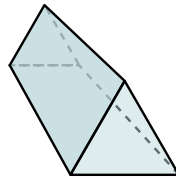
**Respuestas**

1)



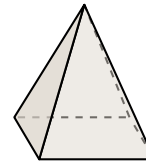
- A. Cilindro
- B. Prisma Rectangular
- C. Triangular Pirámide
- D. Cubo

2)



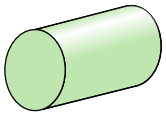
- A. Cilindro
- B. Prisma Rectangular
- C. Pirámide Rectangular
- D. Triangular Prisma

3)



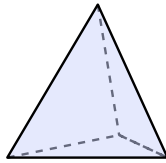
- A. Esfera
- B. Triangular Prisma
- C. Pirámide Rectangular
- D. Prisma Rectangular

4)



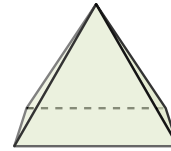
- A. Cubo
- B. Pirámide Rectangular
- C. Esfera
- D. Cilindro

5)



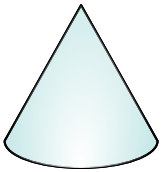
- A. Pirámide Rectangular
- B. Esfera
- C. Triangular Pirámide
- D. Cubo

6)



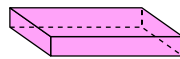
- A. Prisma Rectangular
- B. Pirámide Rectangular
- C. Cubo
- D. Esfera

7)



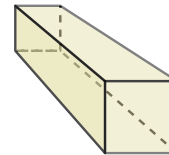
- A. Cono
- B. Triangular Pirámide
- C. Cubo
- D. Pirámide Rectangular

8)



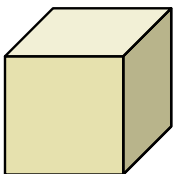
- A. Cilindro
- B. Pirámide Rectangular
- C. Prisma Rectangular
- D. Triangular Pirámide

9)




- A. Prisma Rectangular
- B. Cilindro
- C. Triangular Prisma
- D. Cubo

10)



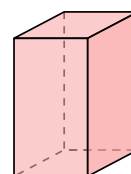
- A. Cubo
- B. Esfera
- C. Pirámide Rectangular
- D. Cono

11)



- A. Pirámide Rectangular
- B. Cilindro
- C. Prisma Rectangular
- D. Triangular Pirámide

12)



- A. Triangular Pirámide
- B. Prisma Rectangular
- C. Cubo
- D. Cono

- 1.   **C**
- 2.   **D**
- 3.   **C**
- 4.   **D**
- 5.   **C**
- 6.   **B**
- 7.   **A**
- 8.   **C**
- 9.   **A**
- 10.   **A**
- 11.   **B**
- 12.   **B**