








Determinar el valor de cada grupo de marcas de conteo.

**Respuestas**

- 1)  1. \_\_\_\_\_
- 2)  2. \_\_\_\_\_
- 3)  3. \_\_\_\_\_
- 4)  4. \_\_\_\_\_
- 5)  5. \_\_\_\_\_
- 6)  6. \_\_\_\_\_
- 7)  7. \_\_\_\_\_
- 8)  8. \_\_\_\_\_
- 9)  9. \_\_\_\_\_
- 10)  10. \_\_\_\_\_
- 11)  11. \_\_\_\_\_
- 12)  12. \_\_\_\_\_
- 13)  13. \_\_\_\_\_
- 14)  14. \_\_\_\_\_
- 15)  15. \_\_\_\_\_
- 16)  16. \_\_\_\_\_
- 17)  17. \_\_\_\_\_
- 18)  18. \_\_\_\_\_



Determinar el valor de cada grupo de marcas de conteo.

**Respuestas**

- |     |               |
|-----|---------------|
| 1)  | 1. <u>15</u>  |
| 2)  | 2. <u>41</u>  |
| 3)  | 3. <u>18</u>  |
| 4)  | 4. <u>43</u>  |
| 5)  | 5. <u>30</u>  |
| 6)  | 6. <u>47</u>  |
| 7)  | 7. <u>10</u>  |
| 8)  | 8. <u>25</u>  |
| 9)  | 9. <u>12</u>  |
| 10) | 10. <u>7</u>  |
| 11) | 11. <u>45</u> |
| 12) | 12. <u>27</u> |
| 13) | 13. <u>28</u> |
| 14) | 14. <u>32</u> |
| 15) | 15. <u>48</u> |
| 16) | 16. <u>46</u> |
| 17) | 17. <u>29</u> |
| 18) | 18. <u>36</u> |