

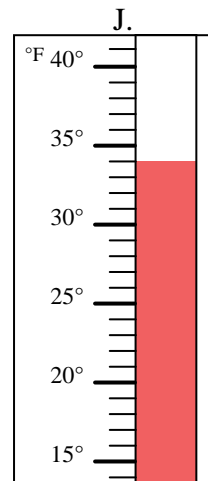
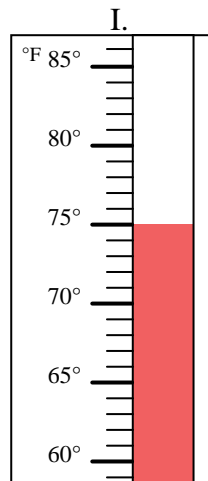
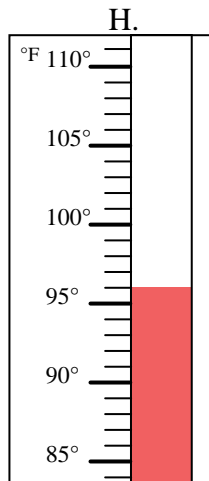
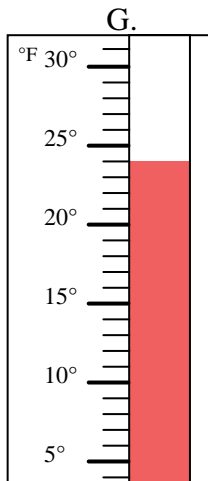
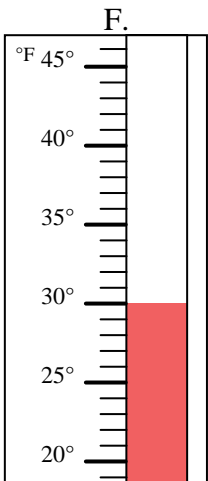
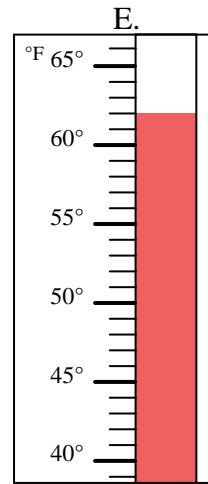
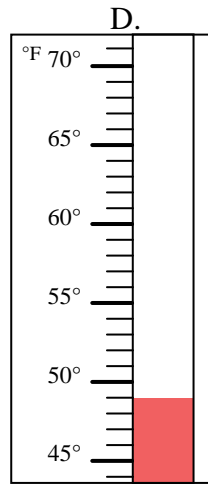
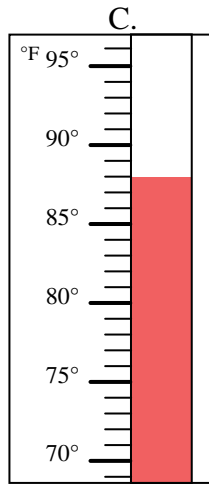
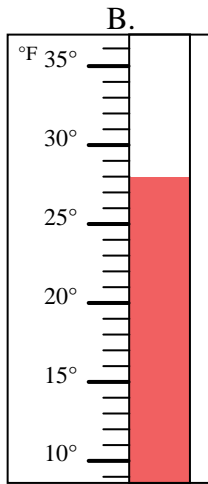
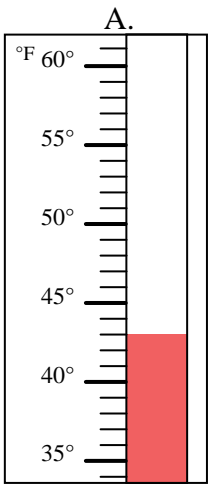


Determinar cuál letra responde mejor a cada pregunta.

Respuestas

- 1) ¿Qué termómetro representa mejor 62° de temperatura? _____
- 2) ¿Qué termómetro representa mejor 43° de temperatura? _____
- 3) ¿Qué termómetro representa mejor 88° de temperatura? _____
- 4) ¿Qué termómetro representa mejor 96° de temperatura? _____
- 5) ¿Qué termómetro representa mejor 24° de temperatura? _____
- 6) ¿Qué termómetro representa mejor 75° de temperatura? _____
- 7) ¿Qué termómetro representa mejor 28° de temperatura? _____
- 8) ¿Qué termómetro representa mejor 34° de temperatura? _____
- 9) ¿Qué termómetro representa mejor 30° de temperatura? _____
- 10) ¿Qué termómetro representa mejor 49° de temperatura? _____

1. _____
2. _____
3. _____
4. _____
5. _____
6. _____
7. _____
8. _____
9. _____
10. _____





Determinar cuál letra responde mejor a cada pregunta.

- 1) ¿Qué termómetro representa mejor 62° de temperatura? E
- 2) ¿Qué termómetro representa mejor 43° de temperatura? A
- 3) ¿Qué termómetro representa mejor 88° de temperatura? C
- 4) ¿Qué termómetro representa mejor 96° de temperatura? H
- 5) ¿Qué termómetro representa mejor 24° de temperatura? G
- 6) ¿Qué termómetro representa mejor 75° de temperatura? I
- 7) ¿Qué termómetro representa mejor 28° de temperatura? B
- 8) ¿Qué termómetro representa mejor 34° de temperatura? J
- 9) ¿Qué termómetro representa mejor 30° de temperatura? F
- 10) ¿Qué termómetro representa mejor 49° de temperatura? D

Respuestas

1. E
2. A
3. C
4. H
5. G
6. I
7. B
8. J
9. F
10. D

