
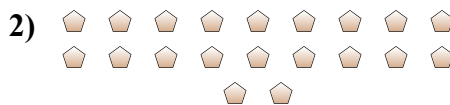




Determinar si el número de formas en la caja es par o impar.



**Respuestas**

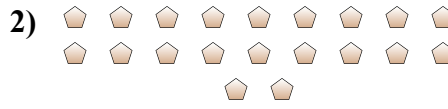
- 1. \_\_\_\_\_
- 2. \_\_\_\_\_
- 3. \_\_\_\_\_
- 4. \_\_\_\_\_
- 5. \_\_\_\_\_
- 6. \_\_\_\_\_
- 7. \_\_\_\_\_
- 8. \_\_\_\_\_
- 9. \_\_\_\_\_
- 10. \_\_\_\_\_



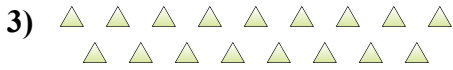
Determinar si el número de formas en la caja es par o impar.



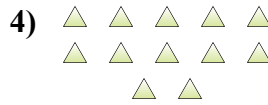
7



20



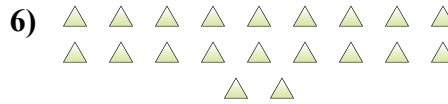
17



12



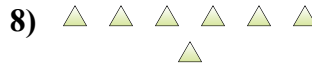
7




20



12



7



19



8

Respuestas

1. Impar

2. Par

3. Impar

4. Par

5. Impar

6. Par

7. Par

8. Impar

9. Impar

10. Par