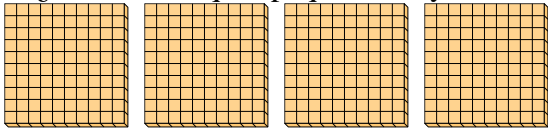




Utilizar los grupos para responder a cada pregunta.

**Respuestas**

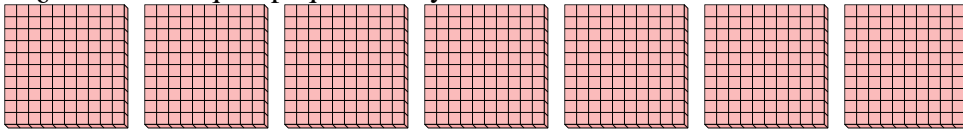
- 1) a. ¿Cuántos grupos de 100 hay?
- b. ¿Cuántos bloques pequeños hay en total?



1a. \_\_\_\_\_

1b. \_\_\_\_\_


- 2) a. ¿Cuántos grupos de 100 hay?
- b. ¿Cuántos bloques pequeños hay en total?



2a. \_\_\_\_\_

2b. \_\_\_\_\_

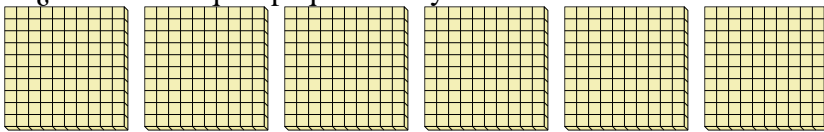
- 3) a. ¿Cuántos grupos de 100 hay?
- b. ¿Cuántos bloques pequeños hay en total?



3a. \_\_\_\_\_

3b. \_\_\_\_\_

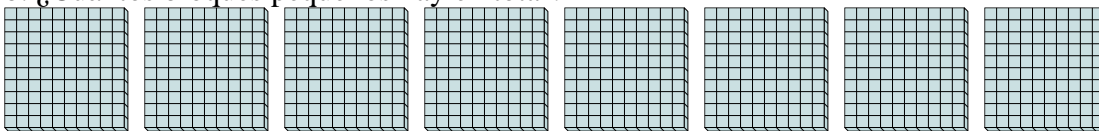
- 4) a. ¿Cuántos grupos de 100 hay?
- b. ¿Cuántos bloques pequeños hay en total?



4a. \_\_\_\_\_

4b. \_\_\_\_\_

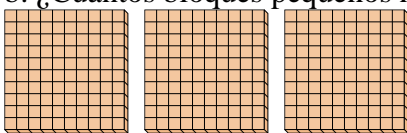
- 5) a. ¿Cuántos grupos de 100 hay?
- b. ¿Cuántos bloques pequeños hay en total?



5a. \_\_\_\_\_

5b. \_\_\_\_\_

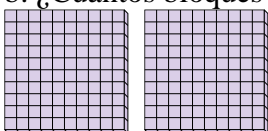
- 6) a. ¿Cuántos grupos de 100 hay?
- b. ¿Cuántos bloques pequeños hay en total?



6a. \_\_\_\_\_

6b. \_\_\_\_\_

- 7) a. ¿Cuántos grupos de 100 hay?
- b. ¿Cuántos bloques pequeños hay en total?



7a. \_\_\_\_\_

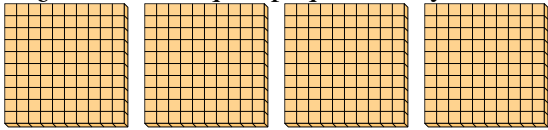
7b. \_\_\_\_\_



Utilizar los grupos para responder a cada pregunta.

**Respuestas**

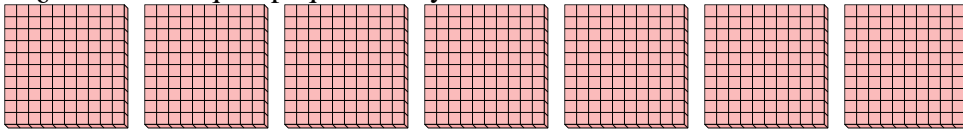
- 1) a. ¿Cuántos grupos de 100 hay?  
b. ¿Cuántos bloques pequeños hay en total?



1a. 4

1b. 400


- 2) a. ¿Cuántos grupos de 100 hay?  
b. ¿Cuántos bloques pequeños hay en total?



2a. 7

2b. 700

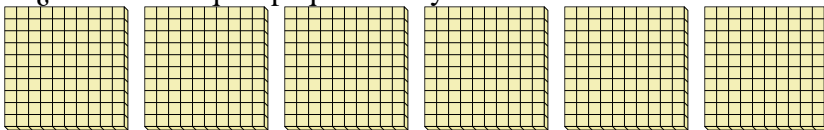
- 3) a. ¿Cuántos grupos de 100 hay?  
b. ¿Cuántos bloques pequeños hay en total?



3a. 1

3b. 100

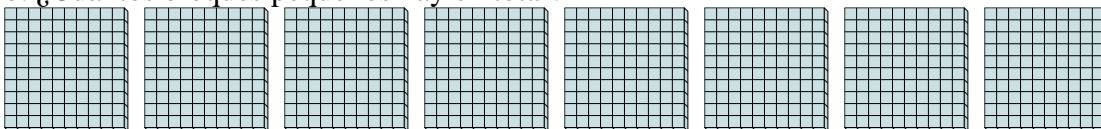
- 4) a. ¿Cuántos grupos de 100 hay?  
b. ¿Cuántos bloques pequeños hay en total?



4a. 6

4b. 600

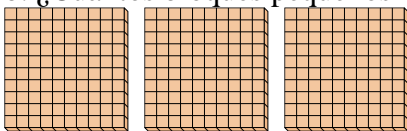
- 5) a. ¿Cuántos grupos de 100 hay?  
b. ¿Cuántos bloques pequeños hay en total?



5a. 8

5b. 800


- 6) a. ¿Cuántos grupos de 100 hay?  
b. ¿Cuántos bloques pequeños hay en total?



6a. 3

6b. 300

- 7) a. ¿Cuántos grupos de 100 hay?  
b. ¿Cuántos bloques pequeños hay en total?



7a. 2


7b. 200



Utilizar los grupos para responder a cada pregunta.

**Respuestas**

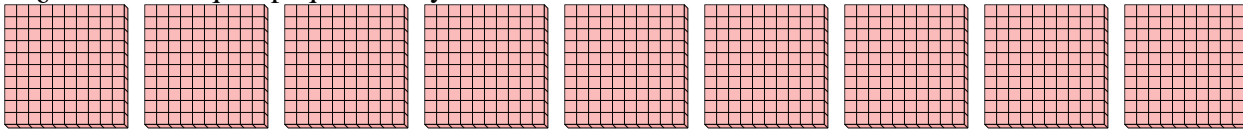
- 1) a. ¿Cuántos grupos de 100 hay?
- b. ¿Cuántos bloques pequeños hay en total?



1a. \_\_\_\_\_

1b. \_\_\_\_\_

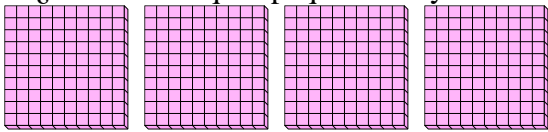
- 2) a. ¿Cuántos grupos de 100 hay?
- b. ¿Cuántos bloques pequeños hay en total?



2a. \_\_\_\_\_

2b. \_\_\_\_\_

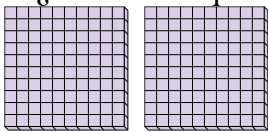
- 3) a. ¿Cuántos grupos de 100 hay?
- b. ¿Cuántos bloques pequeños hay en total?



3a. \_\_\_\_\_

3b. \_\_\_\_\_

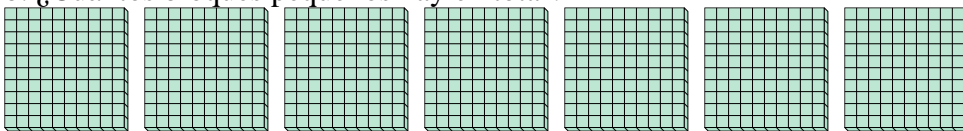
- 4) a. ¿Cuántos grupos de 100 hay?
- b. ¿Cuántos bloques pequeños hay en total?



4a. \_\_\_\_\_

4b. \_\_\_\_\_

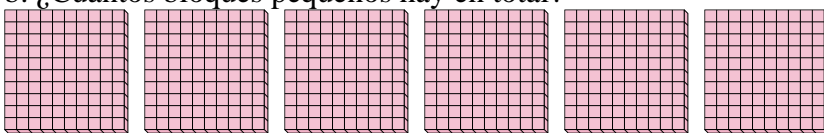
- 5) a. ¿Cuántos grupos de 100 hay?
- b. ¿Cuántos bloques pequeños hay en total?



5a. \_\_\_\_\_

5b. \_\_\_\_\_

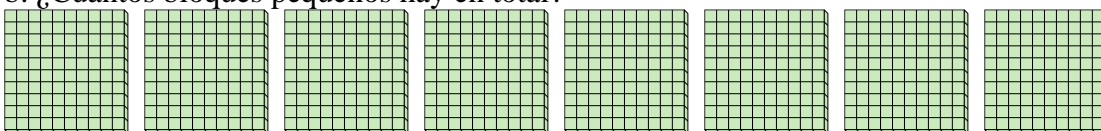
- 6) a. ¿Cuántos grupos de 100 hay?
- b. ¿Cuántos bloques pequeños hay en total?



6a. \_\_\_\_\_

6b. \_\_\_\_\_

- 7) a. ¿Cuántos grupos de 100 hay?
- b. ¿Cuántos bloques pequeños hay en total?



7a. \_\_\_\_\_


7b. \_\_\_\_\_



Utilizar los grupos para responder a cada pregunta.

**Respuestas**

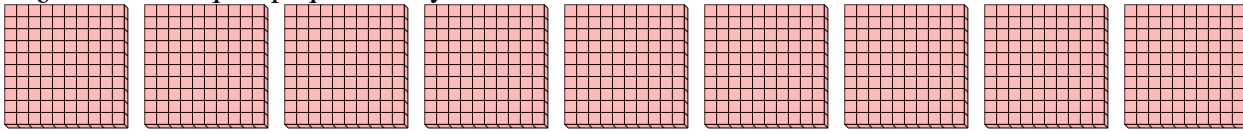
- 1) a. ¿Cuántos grupos de 100 hay?  
b. ¿Cuántos bloques pequeños hay en total?



1a. 3

1b. 300

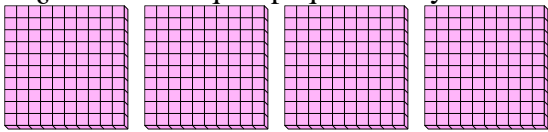
- 2) a. ¿Cuántos grupos de 100 hay?  
b. ¿Cuántos bloques pequeños hay en total?



2a. 9

2b. 900

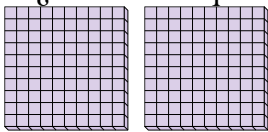
- 3) a. ¿Cuántos grupos de 100 hay?  
b. ¿Cuántos bloques pequeños hay en total?



3a. 4

3b. 400

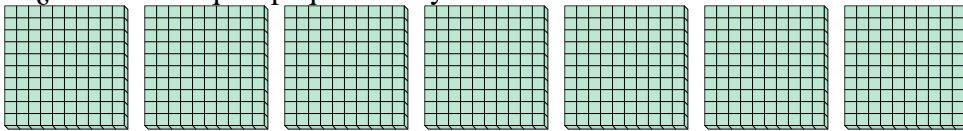
- 4) a. ¿Cuántos grupos de 100 hay?  
b. ¿Cuántos bloques pequeños hay en total?



4a. 2

4b. 200

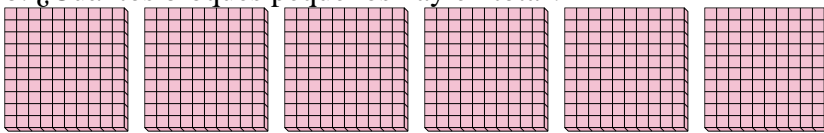
- 5) a. ¿Cuántos grupos de 100 hay?  
b. ¿Cuántos bloques pequeños hay en total?



5a. 7

5b. 700

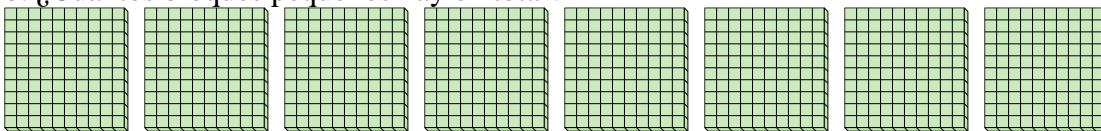
- 6) a. ¿Cuántos grupos de 100 hay?  
b. ¿Cuántos bloques pequeños hay en total?



6a. 6

6b. 600

- 7) a. ¿Cuántos grupos de 100 hay?  
b. ¿Cuántos bloques pequeños hay en total?



7a. 8


7b. 800



Utilizar los grupos para responder a cada pregunta.

**Respuestas**

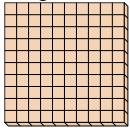
- 1) a. ¿Cuántos grupos de 100 hay?
- b. ¿Cuántos bloques pequeños hay en total?



1a. \_\_\_\_\_

1b. \_\_\_\_\_

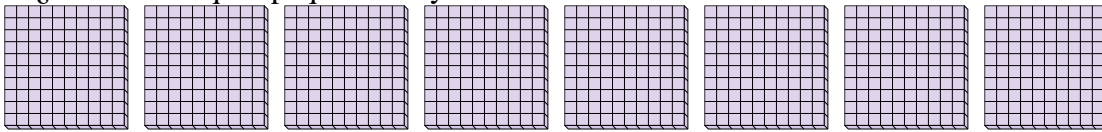
- 2) a. ¿Cuántos grupos de 100 hay?
- b. ¿Cuántos bloques pequeños hay en total?



2a. \_\_\_\_\_

2b. \_\_\_\_\_

- 3) a. ¿Cuántos grupos de 100 hay?
- b. ¿Cuántos bloques pequeños hay en total?



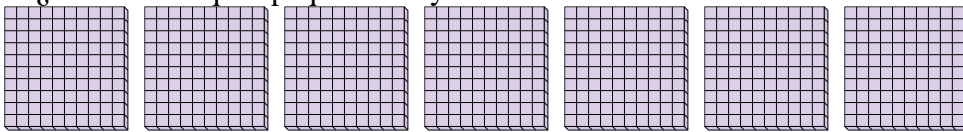
3a. \_\_\_\_\_

3b. \_\_\_\_\_

4a. \_\_\_\_\_

4b. \_\_\_\_\_

- 4) a. ¿Cuántos grupos de 100 hay?
- b. ¿Cuántos bloques pequeños hay en total?

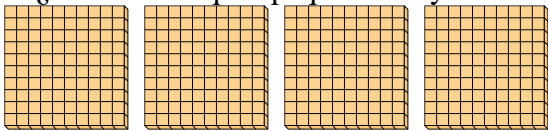


5a. \_\_\_\_\_

5b. \_\_\_\_\_

6a. \_\_\_\_\_

- 5) a. ¿Cuántos grupos de 100 hay?
- b. ¿Cuántos bloques pequeños hay en total?

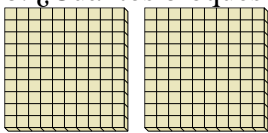


6b. \_\_\_\_\_

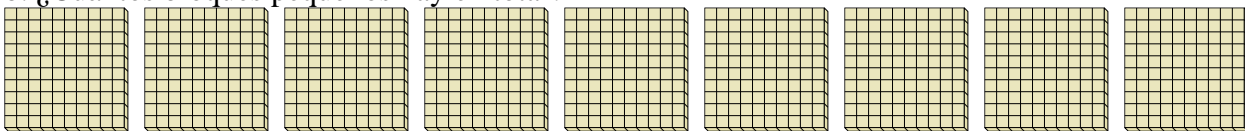
7a. \_\_\_\_\_

7b. \_\_\_\_\_

- 6) a. ¿Cuántos grupos de 100 hay?
- b. ¿Cuántos bloques pequeños hay en total?



- 7) a. ¿Cuántos grupos de 100 hay?
- b. ¿Cuántos bloques pequeños hay en total?






Utilizar los grupos para responder a cada pregunta.

**Respuestas**

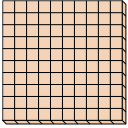
- 1) a. ¿Cuántos grupos de 100 hay?  
b. ¿Cuántos bloques pequeños hay en total?



1a. 3

1b. 300

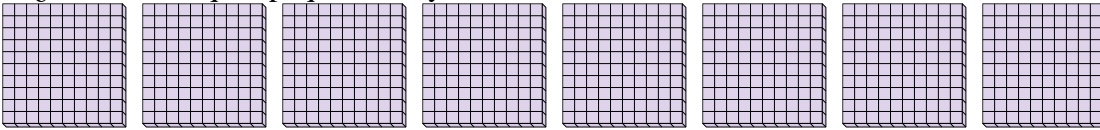
- 2) a. ¿Cuántos grupos de 100 hay?  
b. ¿Cuántos bloques pequeños hay en total?



2a. 1

2b. 100


- 3) a. ¿Cuántos grupos de 100 hay?  
b. ¿Cuántos bloques pequeños hay en total?



3a. 8

3b. 800

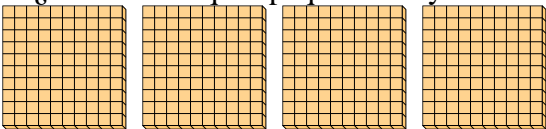
- 4) a. ¿Cuántos grupos de 100 hay?  
b. ¿Cuántos bloques pequeños hay en total?



4a. 7

4b. 700

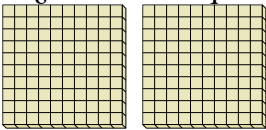
- 5) a. ¿Cuántos grupos de 100 hay?  
b. ¿Cuántos bloques pequeños hay en total?



5a. 4

5b. 400

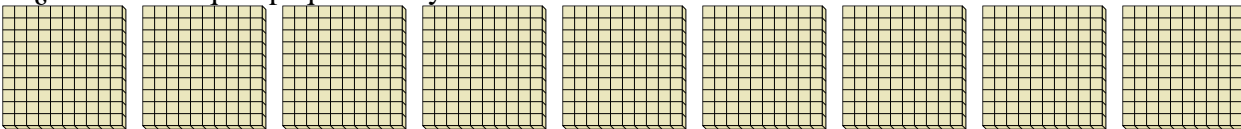
- 6) a. ¿Cuántos grupos de 100 hay?  
b. ¿Cuántos bloques pequeños hay en total?



6a. 2

6b. 200

- 7) a. ¿Cuántos grupos de 100 hay?  
b. ¿Cuántos bloques pequeños hay en total?



7a. 9


7b. 900



Utilizar los grupos para responder a cada pregunta.

**Respuestas**

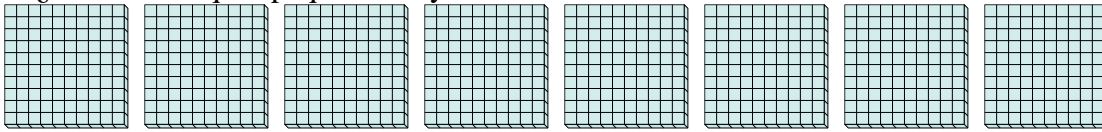
- 1) a. ¿Cuántos grupos de 100 hay?
- b. ¿Cuántos bloques pequeños hay en total?



1a. \_\_\_\_\_

1b. \_\_\_\_\_

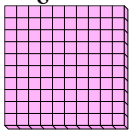
- 2) a. ¿Cuántos grupos de 100 hay?
- b. ¿Cuántos bloques pequeños hay en total?



2a. \_\_\_\_\_

2b. \_\_\_\_\_

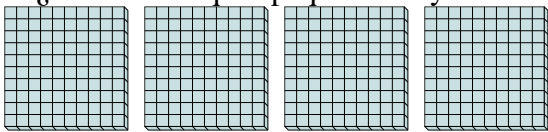
- 3) a. ¿Cuántos grupos de 100 hay?
- b. ¿Cuántos bloques pequeños hay en total?



3a. \_\_\_\_\_

3b. \_\_\_\_\_

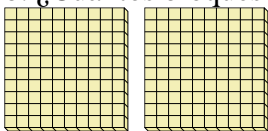
- 4) a. ¿Cuántos grupos de 100 hay?
- b. ¿Cuántos bloques pequeños hay en total?



4a. \_\_\_\_\_

4b. \_\_\_\_\_

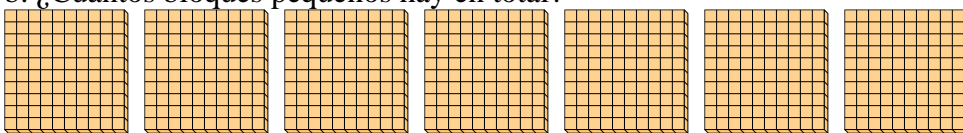
- 5) a. ¿Cuántos grupos de 100 hay?
- b. ¿Cuántos bloques pequeños hay en total?



5a. \_\_\_\_\_

5b. \_\_\_\_\_

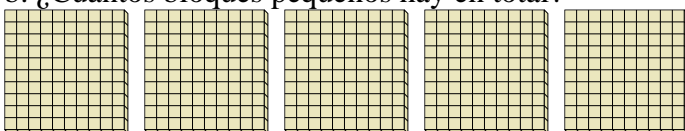
- 6) a. ¿Cuántos grupos de 100 hay?
- b. ¿Cuántos bloques pequeños hay en total?



6a. \_\_\_\_\_

6b. \_\_\_\_\_

- 7) a. ¿Cuántos grupos de 100 hay?
- b. ¿Cuántos bloques pequeños hay en total?



7a. \_\_\_\_\_


7b. \_\_\_\_\_



Utilizar los grupos para responder a cada pregunta.

**Respuestas**

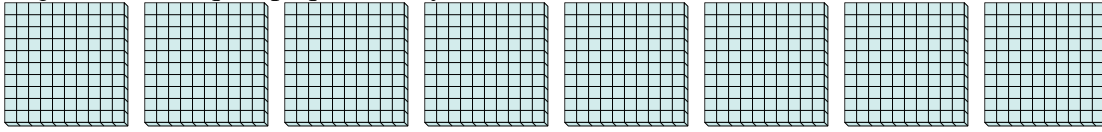
- 1) a. ¿Cuántos grupos de 100 hay?  
b. ¿Cuántos bloques pequeños hay en total?



1a. 3

1b. 300

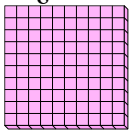
- 2) a. ¿Cuántos grupos de 100 hay?  
b. ¿Cuántos bloques pequeños hay en total?



2a. 8

2b. 800

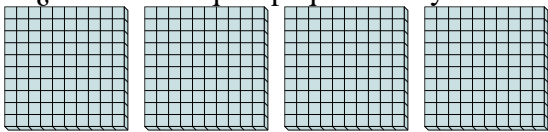
- 3) a. ¿Cuántos grupos de 100 hay?  
b. ¿Cuántos bloques pequeños hay en total?



3a. 1

3b. 100

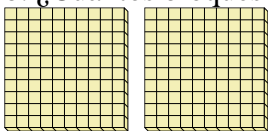
- 4) a. ¿Cuántos grupos de 100 hay?  
b. ¿Cuántos bloques pequeños hay en total?



4a. 4

4b. 400

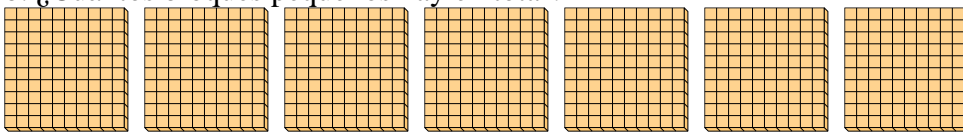
- 5) a. ¿Cuántos grupos de 100 hay?  
b. ¿Cuántos bloques pequeños hay en total?



5a. 2

5b. 200

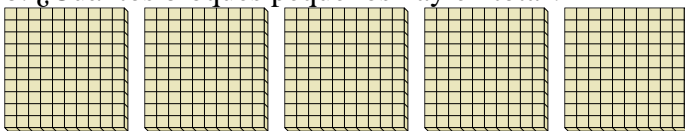
- 6) a. ¿Cuántos grupos de 100 hay?  
b. ¿Cuántos bloques pequeños hay en total?



6a. 7

6b. 700

- 7) a. ¿Cuántos grupos de 100 hay?  
b. ¿Cuántos bloques pequeños hay en total?



7a. 5

7b. 500

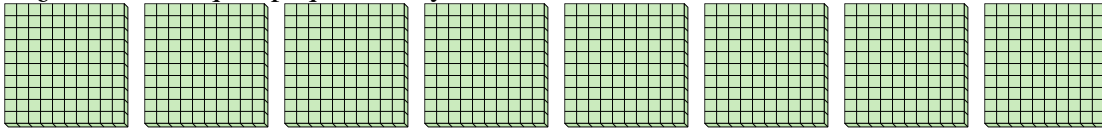




Utilizar los grupos para responder a cada pregunta.

**Respuestas**


- 1) a. ¿Cuántos grupos de 100 hay?
- b. ¿Cuántos bloques pequeños hay en total?



1a. \_\_\_\_\_

1b. \_\_\_\_\_

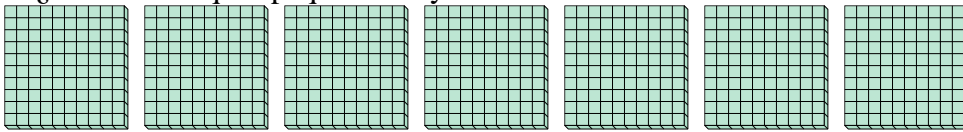
- 2) a. ¿Cuántos grupos de 100 hay?
- b. ¿Cuántos bloques pequeños hay en total?



2a. \_\_\_\_\_

2b. \_\_\_\_\_

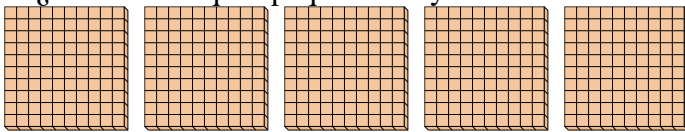
- 3) a. ¿Cuántos grupos de 100 hay?
- b. ¿Cuántos bloques pequeños hay en total?



3a. \_\_\_\_\_

3b. \_\_\_\_\_

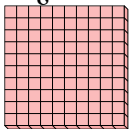
- 4) a. ¿Cuántos grupos de 100 hay?
- b. ¿Cuántos bloques pequeños hay en total?



4a. \_\_\_\_\_

4b. \_\_\_\_\_

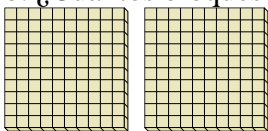
- 5) a. ¿Cuántos grupos de 100 hay?
- b. ¿Cuántos bloques pequeños hay en total?



5a. \_\_\_\_\_

5b. \_\_\_\_\_


- 6) a. ¿Cuántos grupos de 100 hay?
- b. ¿Cuántos bloques pequeños hay en total?



6a. \_\_\_\_\_

6b. \_\_\_\_\_

- 7) a. ¿Cuántos grupos de 100 hay?
- b. ¿Cuántos bloques pequeños hay en total?



7a. \_\_\_\_\_

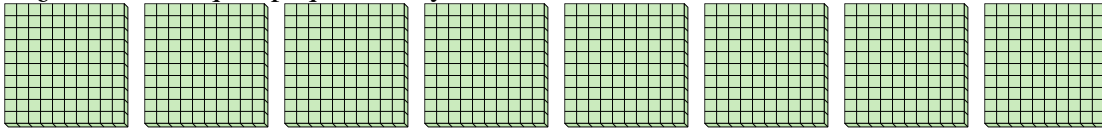
7b. \_\_\_\_\_



Utilizar los grupos para responder a cada pregunta.

**Respuestas**


- 1) a. ¿Cuántos grupos de 100 hay?  
b. ¿Cuántos bloques pequeños hay en total?



1a. 8

1b. 800

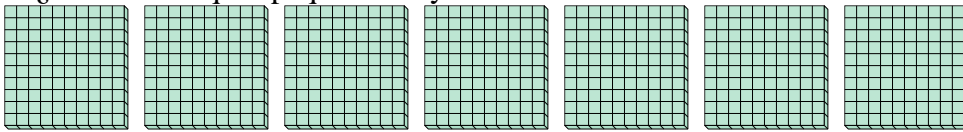
- 2) a. ¿Cuántos grupos de 100 hay?  
b. ¿Cuántos bloques pequeños hay en total?



2a. 3

2b. 300

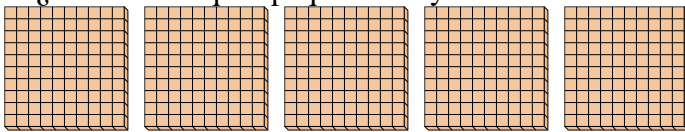
- 3) a. ¿Cuántos grupos de 100 hay?  
b. ¿Cuántos bloques pequeños hay en total?



3a. 7

3b. 700

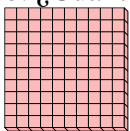
- 4) a. ¿Cuántos grupos de 100 hay?  
b. ¿Cuántos bloques pequeños hay en total?



4a. 5

4b. 500

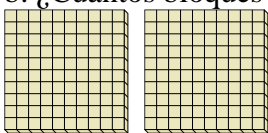
- 5) a. ¿Cuántos grupos de 100 hay?  
b. ¿Cuántos bloques pequeños hay en total?



5a. 1

5b. 100


- 6) a. ¿Cuántos grupos de 100 hay?  
b. ¿Cuántos bloques pequeños hay en total?



6a. 2

6b. 200

- 7) a. ¿Cuántos grupos de 100 hay?  
b. ¿Cuántos bloques pequeños hay en total?



7a. 9

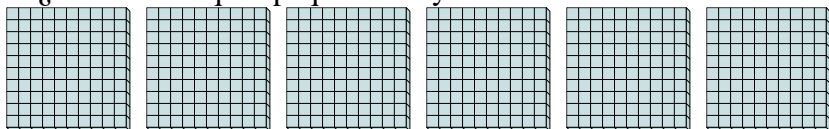
7b. 900



Utilizar los grupos para responder a cada pregunta.

**Respuestas**

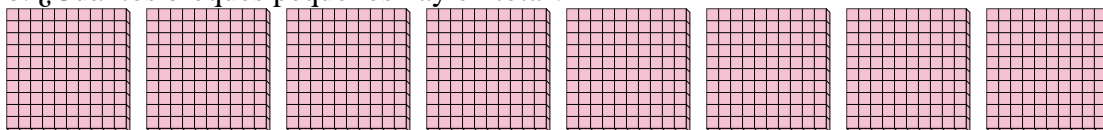
- 1) a. ¿Cuántos grupos de 100 hay?
- b. ¿Cuántos bloques pequeños hay en total?



1a. \_\_\_\_\_

1b. \_\_\_\_\_


- 2) a. ¿Cuántos grupos de 100 hay?
- b. ¿Cuántos bloques pequeños hay en total?



2a. \_\_\_\_\_

2b. \_\_\_\_\_

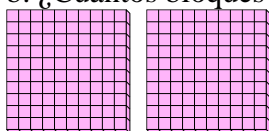
- 3) a. ¿Cuántos grupos de 100 hay?
- b. ¿Cuántos bloques pequeños hay en total?



3a. \_\_\_\_\_

3b. \_\_\_\_\_

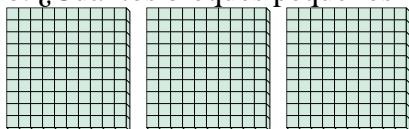
- 4) a. ¿Cuántos grupos de 100 hay?
- b. ¿Cuántos bloques pequeños hay en total?



4a. \_\_\_\_\_

4b. \_\_\_\_\_

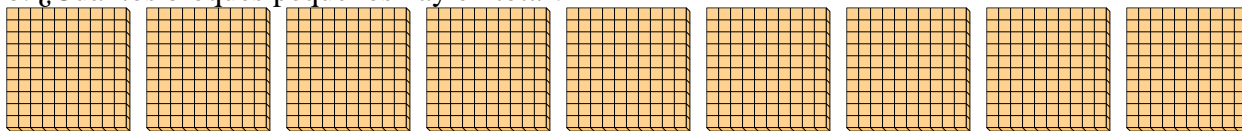
- 5) a. ¿Cuántos grupos de 100 hay?
- b. ¿Cuántos bloques pequeños hay en total?



5a. \_\_\_\_\_

5b. \_\_\_\_\_

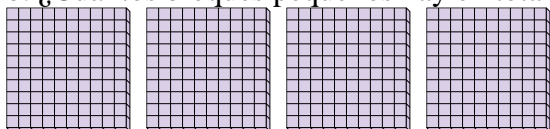
- 6) a. ¿Cuántos grupos de 100 hay?
- b. ¿Cuántos bloques pequeños hay en total?



6a. \_\_\_\_\_

6b. \_\_\_\_\_

- 7) a. ¿Cuántos grupos de 100 hay?
- b. ¿Cuántos bloques pequeños hay en total?



7a. \_\_\_\_\_

7b. \_\_\_\_\_



Utilizar los grupos para responder a cada pregunta.

**Respuestas**

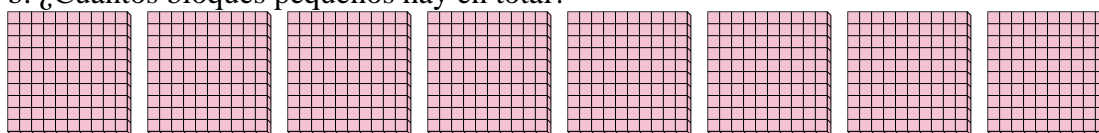
- 1) a. ¿Cuántos grupos de 100 hay?  
b. ¿Cuántos bloques pequeños hay en total?



1a. 6

1b. 600


- 2) a. ¿Cuántos grupos de 100 hay?  
b. ¿Cuántos bloques pequeños hay en total?



2a. 8

2b. 800

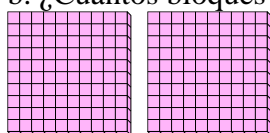
- 3) a. ¿Cuántos grupos de 100 hay?  
b. ¿Cuántos bloques pequeños hay en total?



3a. 7

3b. 700

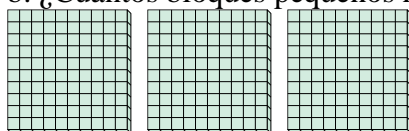
- 4) a. ¿Cuántos grupos de 100 hay?  
b. ¿Cuántos bloques pequeños hay en total?



4a. 2

4b. 200

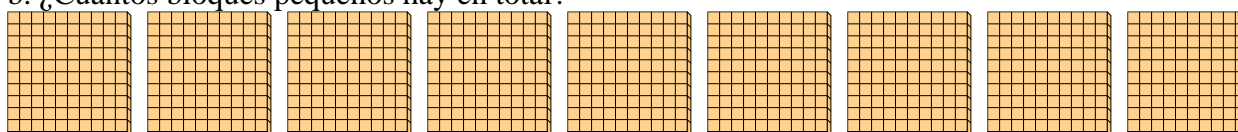
- 5) a. ¿Cuántos grupos de 100 hay?  
b. ¿Cuántos bloques pequeños hay en total?



5a. 3

5b. 300

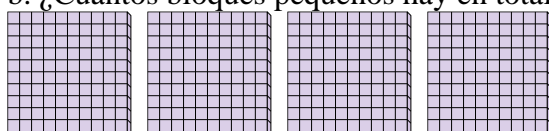
- 6) a. ¿Cuántos grupos de 100 hay?  
b. ¿Cuántos bloques pequeños hay en total?



6a. 9

6b. 900

- 7) a. ¿Cuántos grupos de 100 hay?  
b. ¿Cuántos bloques pequeños hay en total?



7a. 4

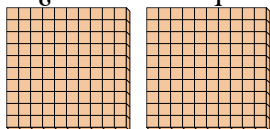
7b. 400



Utilizar los grupos para responder a cada pregunta.

**Respuestas**

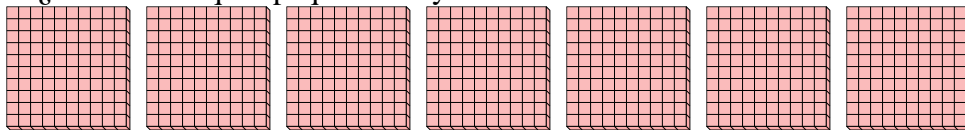
- 1) a. ¿Cuántos grupos de 100 hay?
- b. ¿Cuántos bloques pequeños hay en total?



1a. \_\_\_\_\_

1b. \_\_\_\_\_

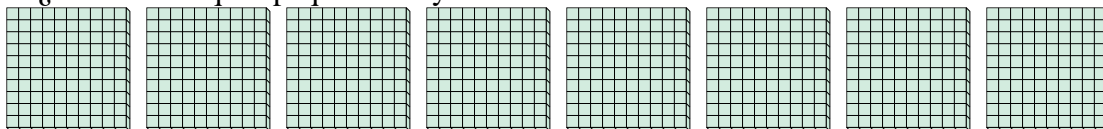
- 2) a. ¿Cuántos grupos de 100 hay?
- b. ¿Cuántos bloques pequeños hay en total?



2a. \_\_\_\_\_

2b. \_\_\_\_\_

- 3) a. ¿Cuántos grupos de 100 hay?
- b. ¿Cuántos bloques pequeños hay en total?



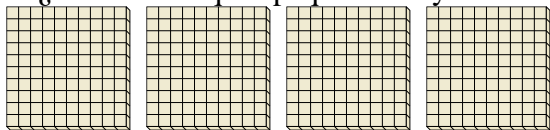
3a. \_\_\_\_\_

3b. \_\_\_\_\_

4a. \_\_\_\_\_

4b. \_\_\_\_\_

- 4) a. ¿Cuántos grupos de 100 hay?
- b. ¿Cuántos bloques pequeños hay en total?




5a. \_\_\_\_\_

5b. \_\_\_\_\_

6a. \_\_\_\_\_

- 5) a. ¿Cuántos grupos de 100 hay?
- b. ¿Cuántos bloques pequeños hay en total?




6b. \_\_\_\_\_

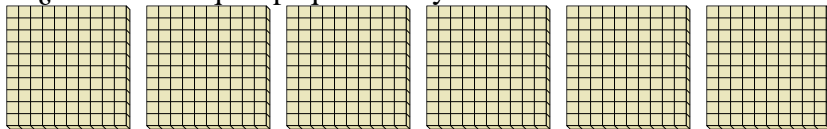
7a. \_\_\_\_\_

7b. \_\_\_\_\_

- 6) a. ¿Cuántos grupos de 100 hay?
- b. ¿Cuántos bloques pequeños hay en total?



- 7) a. ¿Cuántos grupos de 100 hay?
- b. ¿Cuántos bloques pequeños hay en total?

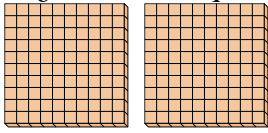




Utilizar los grupos para responder a cada pregunta.

**Respuestas**

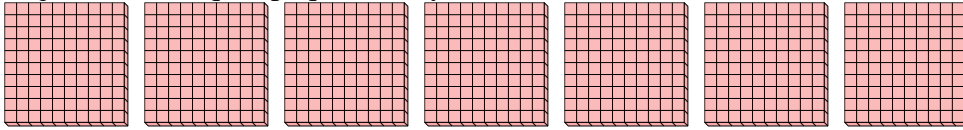
- 1) a. ¿Cuántos grupos de 100 hay?  
b. ¿Cuántos bloques pequeños hay en total?



1a. 2

1b. 200

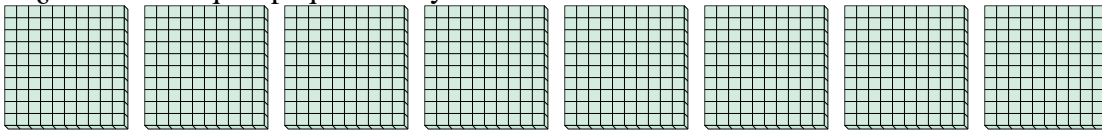
- 2) a. ¿Cuántos grupos de 100 hay?  
b. ¿Cuántos bloques pequeños hay en total?



2a. 7

2b. 700

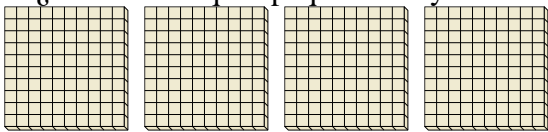
- 3) a. ¿Cuántos grupos de 100 hay?  
b. ¿Cuántos bloques pequeños hay en total?



3a. 8

3b. 800


- 4) a. ¿Cuántos grupos de 100 hay?  
b. ¿Cuántos bloques pequeños hay en total?



4a. 4

4b. 400


- 5) a. ¿Cuántos grupos de 100 hay?  
b. ¿Cuántos bloques pequeños hay en total?



5a. 9

5b. 900

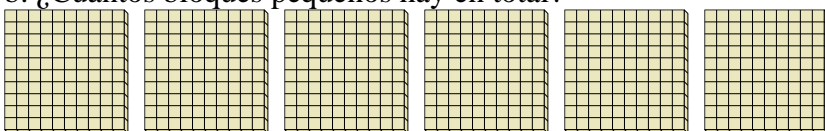
- 6) a. ¿Cuántos grupos de 100 hay?  
b. ¿Cuántos bloques pequeños hay en total?



6a. 3

6b. 300

- 7) a. ¿Cuántos grupos de 100 hay?  
b. ¿Cuántos bloques pequeños hay en total?



7a. 6


7b. 600



Utilizar los grupos para responder a cada pregunta.

**Respuestas**

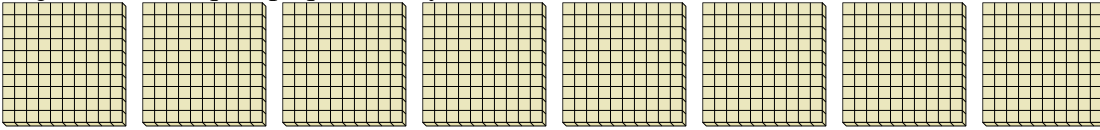
- 1) a. ¿Cuántos grupos de 100 hay?
- b. ¿Cuántos bloques pequeños hay en total?



1a. \_\_\_\_\_

1b. \_\_\_\_\_

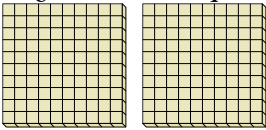
- 2) a. ¿Cuántos grupos de 100 hay?
- b. ¿Cuántos bloques pequeños hay en total?



2a. \_\_\_\_\_

2b. \_\_\_\_\_

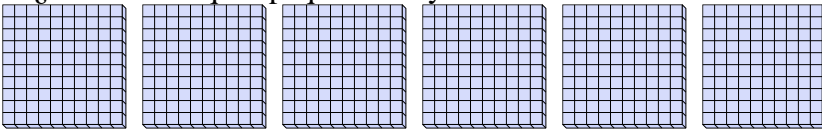
- 3) a. ¿Cuántos grupos de 100 hay?
- b. ¿Cuántos bloques pequeños hay en total?



3a. \_\_\_\_\_

3b. \_\_\_\_\_

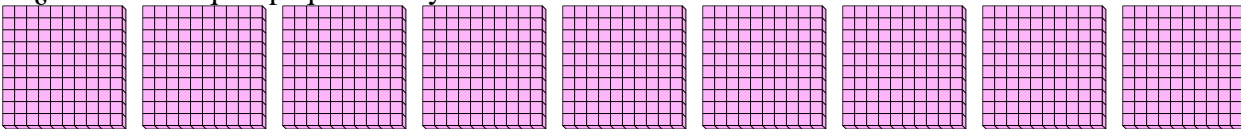
- 4) a. ¿Cuántos grupos de 100 hay?
- b. ¿Cuántos bloques pequeños hay en total?



4a. \_\_\_\_\_

4b. \_\_\_\_\_

- 5) a. ¿Cuántos grupos de 100 hay?
- b. ¿Cuántos bloques pequeños hay en total?




5a. \_\_\_\_\_

5b. \_\_\_\_\_

6a. \_\_\_\_\_

6b. \_\_\_\_\_

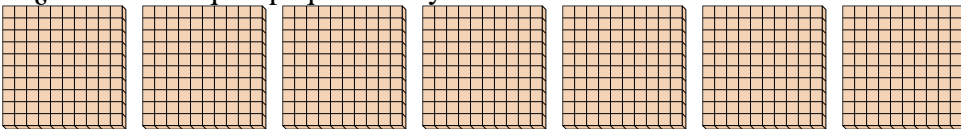
- 6) a. ¿Cuántos grupos de 100 hay?
- b. ¿Cuántos bloques pequeños hay en total?



7a. \_\_\_\_\_

7b. \_\_\_\_\_

- 7) a. ¿Cuántos grupos de 100 hay?
- b. ¿Cuántos bloques pequeños hay en total?

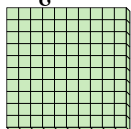




Utilizar los grupos para responder a cada pregunta.

**Respuestas**

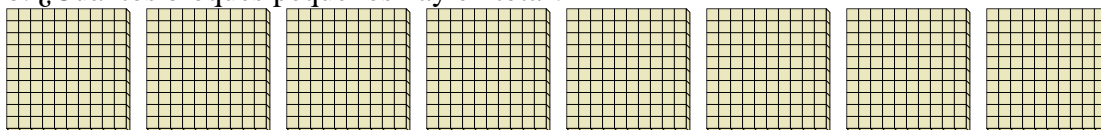
- 1) a. ¿Cuántos grupos de 100 hay?  
b. ¿Cuántos bloques pequeños hay en total?



1a. 1

1b. 100

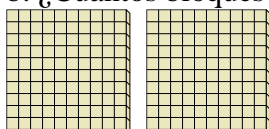
- 2) a. ¿Cuántos grupos de 100 hay?  
b. ¿Cuántos bloques pequeños hay en total?



2a. 8

2b. 800

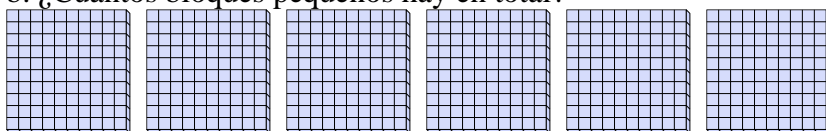
- 3) a. ¿Cuántos grupos de 100 hay?  
b. ¿Cuántos bloques pequeños hay en total?



3a. 2

3b. 200


- 4) a. ¿Cuántos grupos de 100 hay?  
b. ¿Cuántos bloques pequeños hay en total?



4a. 6

4b. 600

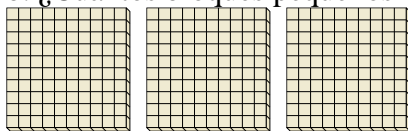
- 5) a. ¿Cuántos grupos de 100 hay?  
b. ¿Cuántos bloques pequeños hay en total?



5a. 9

5b. 900

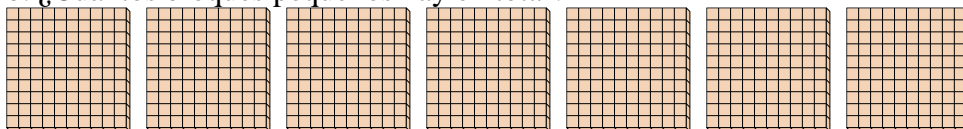
- 6) a. ¿Cuántos grupos de 100 hay?  
b. ¿Cuántos bloques pequeños hay en total?



6a. 3

6b. 300

- 7) a. ¿Cuántos grupos de 100 hay?  
b. ¿Cuántos bloques pequeños hay en total?



7a. 7

7b. 700

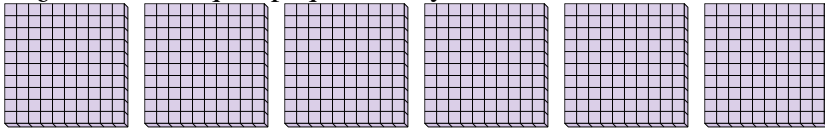




Utilizar los grupos para responder a cada pregunta.

**Respuestas**


- 1) a. ¿Cuántos grupos de 100 hay?
- b. ¿Cuántos bloques pequeños hay en total?



1a. \_\_\_\_\_

1b. \_\_\_\_\_


- 2) a. ¿Cuántos grupos de 100 hay?
- b. ¿Cuántos bloques pequeños hay en total?



2a. \_\_\_\_\_

2b. \_\_\_\_\_

- 3) a. ¿Cuántos grupos de 100 hay?
- b. ¿Cuántos bloques pequeños hay en total?



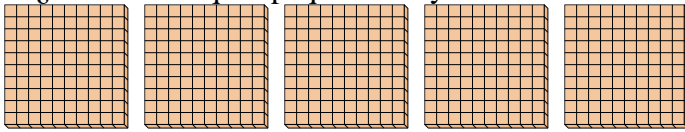
3a. \_\_\_\_\_

3b. \_\_\_\_\_

4a. \_\_\_\_\_

4b. \_\_\_\_\_

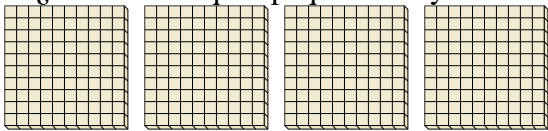
- 4) a. ¿Cuántos grupos de 100 hay?
- b. ¿Cuántos bloques pequeños hay en total?



5a. \_\_\_\_\_

5b. \_\_\_\_\_

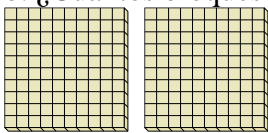
- 5) a. ¿Cuántos grupos de 100 hay?
- b. ¿Cuántos bloques pequeños hay en total?



6a. \_\_\_\_\_

6b. \_\_\_\_\_

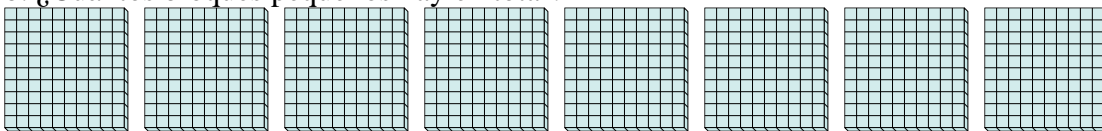
- 6) a. ¿Cuántos grupos de 100 hay?
- b. ¿Cuántos bloques pequeños hay en total?



7a. \_\_\_\_\_

7b. \_\_\_\_\_

- 7) a. ¿Cuántos grupos de 100 hay?
- b. ¿Cuántos bloques pequeños hay en total?

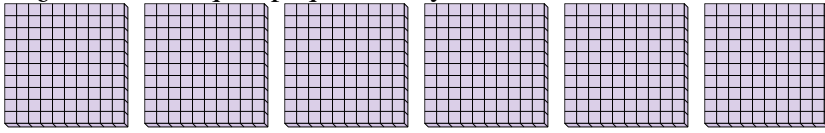




Utilizar los grupos para responder a cada pregunta.

**Respuestas**


- 1) a. ¿Cuántos grupos de 100 hay?  
b. ¿Cuántos bloques pequeños hay en total?



1a. 6

1b. 600

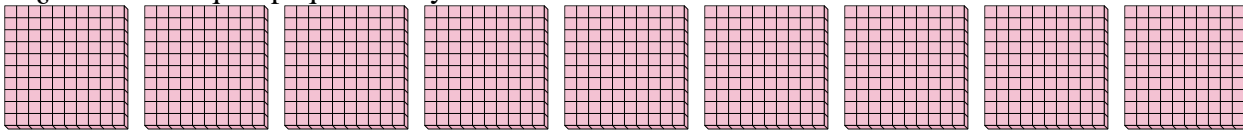
- 2) a. ¿Cuántos grupos de 100 hay?  
b. ¿Cuántos bloques pequeños hay en total?



2a. 1

2b. 100

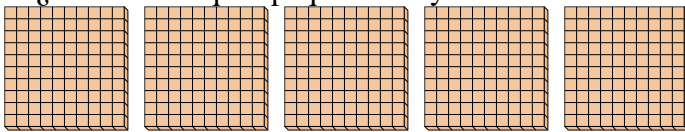
- 3) a. ¿Cuántos grupos de 100 hay?  
b. ¿Cuántos bloques pequeños hay en total?



3a. 9

3b. 900

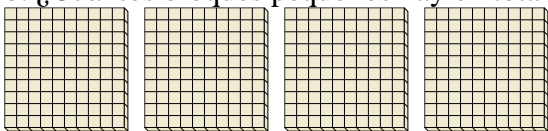
- 4) a. ¿Cuántos grupos de 100 hay?  
b. ¿Cuántos bloques pequeños hay en total?



4a. 5

4b. 500

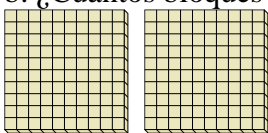
- 5) a. ¿Cuántos grupos de 100 hay?  
b. ¿Cuántos bloques pequeños hay en total?



5a. 4

5b. 400

- 6) a. ¿Cuántos grupos de 100 hay?  
b. ¿Cuántos bloques pequeños hay en total?



6a. 2

6b. 200

- 7) a. ¿Cuántos grupos de 100 hay?  
b. ¿Cuántos bloques pequeños hay en total?



7a. 8

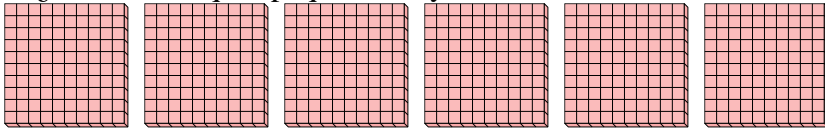
7b. 800



Utilizar los grupos para responder a cada pregunta.

**Respuestas**


- 1) a. ¿Cuántos grupos de 100 hay?
- b. ¿Cuántos bloques pequeños hay en total?



1a. \_\_\_\_\_

1b. \_\_\_\_\_

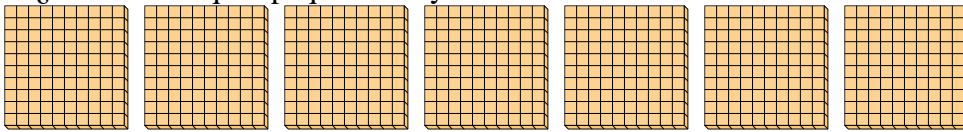
- 2) a. ¿Cuántos grupos de 100 hay?
- b. ¿Cuántos bloques pequeños hay en total?



2a. \_\_\_\_\_

2b. \_\_\_\_\_

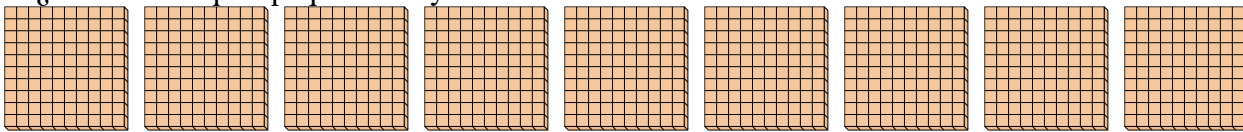
- 3) a. ¿Cuántos grupos de 100 hay?
- b. ¿Cuántos bloques pequeños hay en total?



3a. \_\_\_\_\_

3b. \_\_\_\_\_

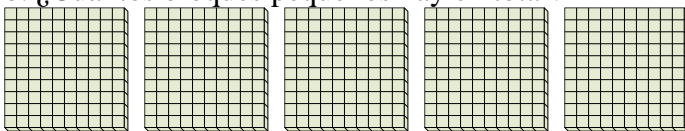
- 4) a. ¿Cuántos grupos de 100 hay?
- b. ¿Cuántos bloques pequeños hay en total?



4a. \_\_\_\_\_

4b. \_\_\_\_\_

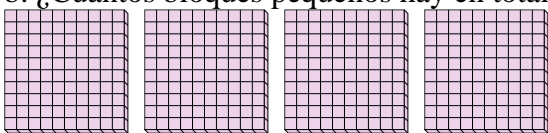
- 5) a. ¿Cuántos grupos de 100 hay?
- b. ¿Cuántos bloques pequeños hay en total?



5a. \_\_\_\_\_

5b. \_\_\_\_\_

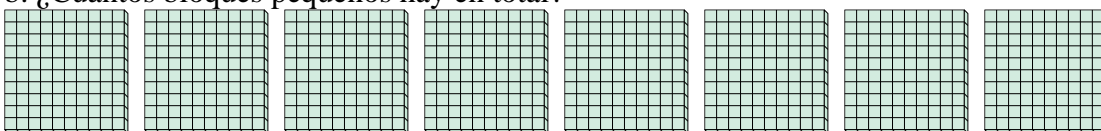
- 6) a. ¿Cuántos grupos de 100 hay?
- b. ¿Cuántos bloques pequeños hay en total?



6a. \_\_\_\_\_

6b. \_\_\_\_\_

- 7) a. ¿Cuántos grupos de 100 hay?
- b. ¿Cuántos bloques pequeños hay en total?



7a. \_\_\_\_\_

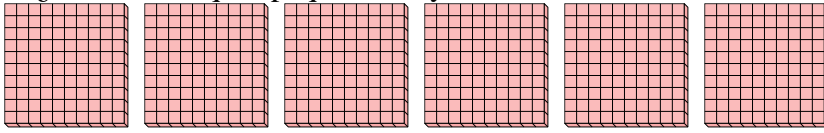
7b. \_\_\_\_\_



Utilizar los grupos para responder a cada pregunta.

**Respuestas**


- 1) a. ¿Cuántos grupos de 100 hay?  
b. ¿Cuántos bloques pequeños hay en total?



1a. 6

1b. 600

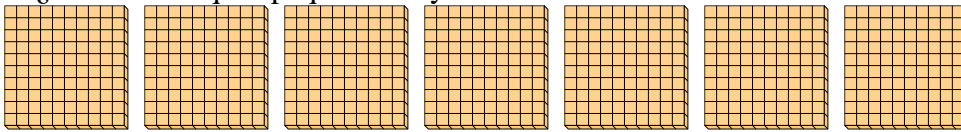
- 2) a. ¿Cuántos grupos de 100 hay?  
b. ¿Cuántos bloques pequeños hay en total?



2a. 3

2b. 300

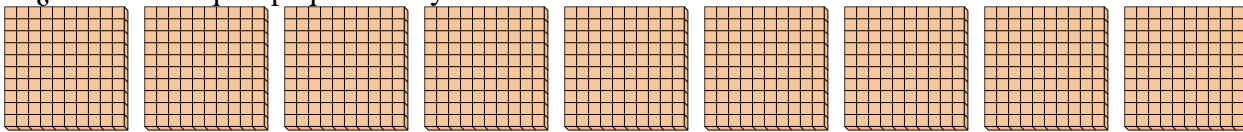
- 3) a. ¿Cuántos grupos de 100 hay?  
b. ¿Cuántos bloques pequeños hay en total?



3a. 7

3b. 700

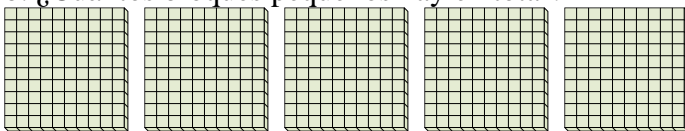
- 4) a. ¿Cuántos grupos de 100 hay?  
b. ¿Cuántos bloques pequeños hay en total?



4a. 9

4b. 900

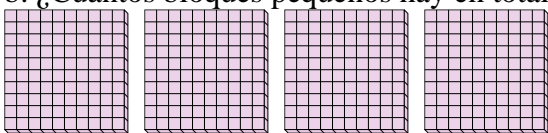
- 5) a. ¿Cuántos grupos de 100 hay?  
b. ¿Cuántos bloques pequeños hay en total?



5a. 5

5b. 500

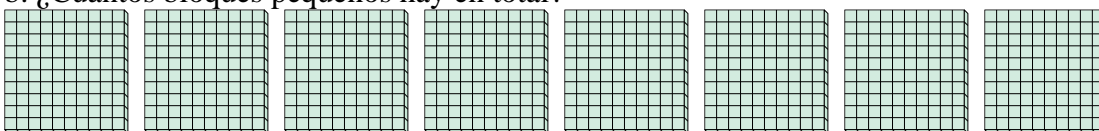
- 6) a. ¿Cuántos grupos de 100 hay?  
b. ¿Cuántos bloques pequeños hay en total?



6a. 4

6b. 400

- 7) a. ¿Cuántos grupos de 100 hay?  
b. ¿Cuántos bloques pequeños hay en total?



7a. 8

7b. 800