

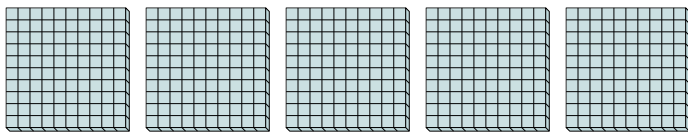


Utilizar los grupos para responder a cada pregunta.

Respuestas

1) a. ¿Cuántos grupos de 100 hay?

b. ¿Cuántos bloques pequeños hay en total?

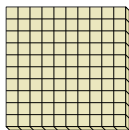


1a. _____

1b. _____

2) a. ¿Cuántos grupos de 100 hay?

b. ¿Cuántos bloques pequeños hay en total?




2a. _____

2b. _____

3) a. ¿Cuántos grupos de 100 hay?

b. ¿Cuántos bloques pequeños hay en total?



3a. _____


3b. _____

4a. _____

4b. _____

4) a. ¿Cuántos grupos de 100 hay?

b. ¿Cuántos bloques pequeños hay en total?

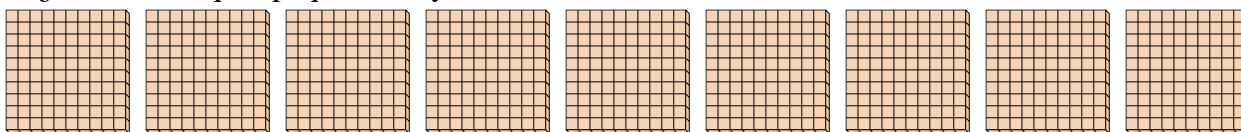


5a. _____

5b. _____

5) a. ¿Cuántos grupos de 100 hay?

b. ¿Cuántos bloques pequeños hay en total?



6a. _____

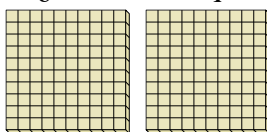
6b. _____

7a. _____

7b. _____

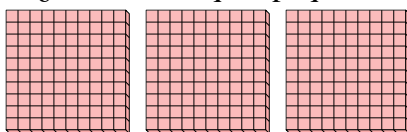
6) a. ¿Cuántos grupos de 100 hay?

b. ¿Cuántos bloques pequeños hay en total?



7) a. ¿Cuántos grupos de 100 hay?

b. ¿Cuántos bloques pequeños hay en total?






Utilizar los grupos para responder a cada pregunta.

Respuestas

1) a. ¿Cuántos grupos de 100 hay?

b. ¿Cuántos bloques pequeños hay en total?




1a. 5

1b. 500

2) a. ¿Cuántos grupos de 100 hay?

b. ¿Cuántos bloques pequeños hay en total?

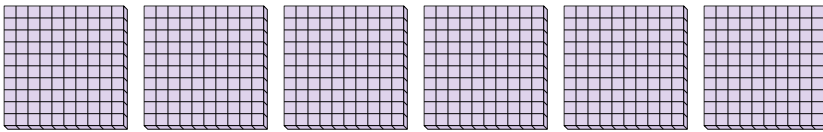


2a. 1

2b. 100

3) a. ¿Cuántos grupos de 100 hay?

b. ¿Cuántos bloques pequeños hay en total?

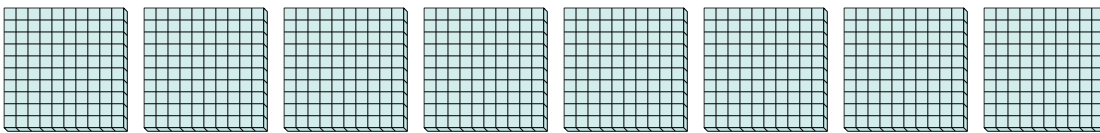


3a. 6

3b. 600

4) a. ¿Cuántos grupos de 100 hay?

b. ¿Cuántos bloques pequeños hay en total?

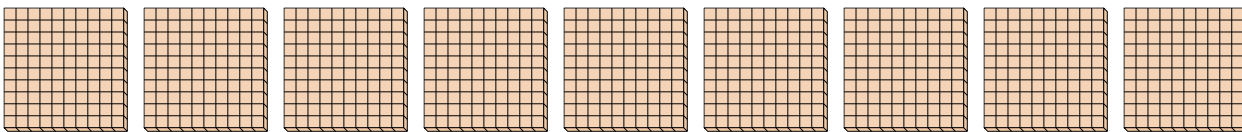


4a. 8

4b. 800

5) a. ¿Cuántos grupos de 100 hay?

b. ¿Cuántos bloques pequeños hay en total?

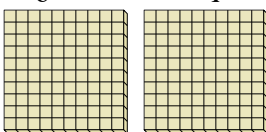


5a. 9

5b. 900

6) a. ¿Cuántos grupos de 100 hay?

b. ¿Cuántos bloques pequeños hay en total?

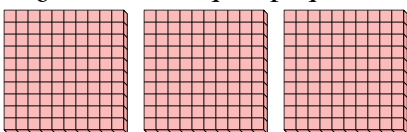


6a. 2

6b. 200

7) a. ¿Cuántos grupos de 100 hay?

b. ¿Cuántos bloques pequeños hay en total?



7a. 3

7b. 300