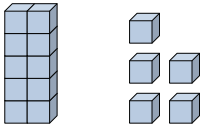
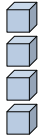


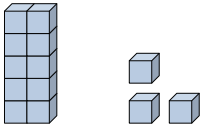


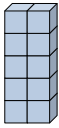
Rellenar los espacios para encontrar las cantidades.

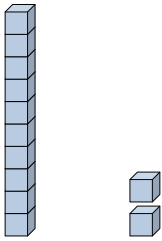
**Respuestas**


Ej)    1     5    
decenas unidades

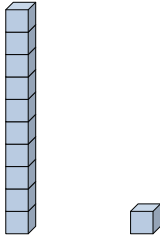
Ej)    0     4    
decenas unidades

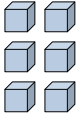
1)                 
decenas unidades

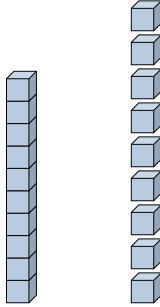
2)                 
decenas unidades

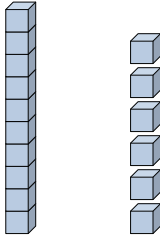
3)                 
decenas unidades

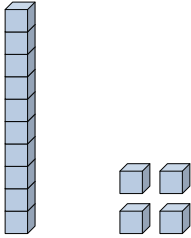
4)                 
decenas unidades


5)                 
decenas unidades

6)                 
decenas unidades

7)                 
decenas unidades

8)                 
decenas unidades

9)                 
decenas unidades

10)                 
decenas unidades

Ej.     15    

Ej.     4    

1. \_\_\_\_\_

2. \_\_\_\_\_

3. \_\_\_\_\_

4. \_\_\_\_\_

5. \_\_\_\_\_

6. \_\_\_\_\_

7. \_\_\_\_\_

8. \_\_\_\_\_

9. \_\_\_\_\_

10. \_\_\_\_\_



Rellenar los espacios para encontrar las cantidades.

**Respuestas**

Ej)  $\frac{1}{\text{decenas}}$   $\frac{5}{\text{unidades}}$

Ej)  $\frac{0}{\text{decenas}}$   $\frac{4}{\text{unidades}}$

1)  $\frac{1}{\text{decenas}}$   $\frac{3}{\text{unidades}}$

2)  $\frac{1}{\text{decenas}}$   $\frac{0}{\text{unidades}}$

3)  $\frac{1}{\text{decenas}}$   $\frac{2}{\text{unidades}}$

4)  $\frac{0}{\text{decenas}}$   $\frac{7}{\text{unidades}}$

5)  $\frac{1}{\text{decenas}}$   $\frac{1}{\text{unidades}}$

6)  $\frac{0}{\text{decenas}}$   $\frac{6}{\text{unidades}}$

7)  $\frac{1}{\text{decenas}}$   $\frac{9}{\text{unidades}}$

8)  $\frac{1}{\text{decenas}}$   $\frac{6}{\text{unidades}}$

9)  $\frac{1}{\text{decenas}}$   $\frac{4}{\text{unidades}}$

10)  $\frac{0}{\text{decenas}}$   $\frac{5}{\text{unidades}}$

Ej. 15

Ej. 4

1. 13

2. 10

3. 12

4. 7

5. 11

6. 6

7. 19

8. 16

9. 14

10. 5