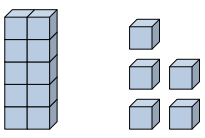




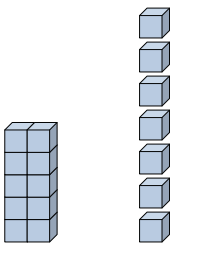
Rellenar los espacios para encontrar las cantidades.

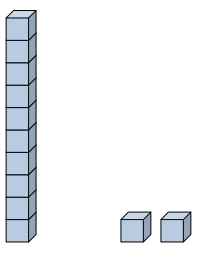
Respuestas

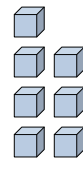
Ej)  1 5
decenas unidades

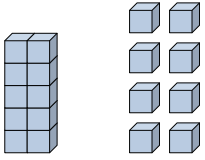
Ej) 0 4
decenas unidades

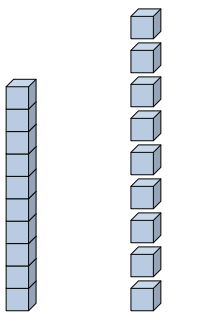
1) 2
decenas unidades


2)  8
decenas unidades

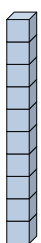
3)  2
decenas unidades

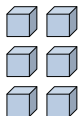
4)  6
decenas unidades

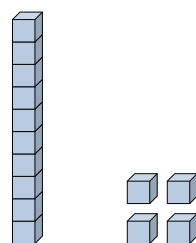
5)  8
decenas unidades

6)  10
decenas unidades

7)  1
decenas unidades

8) 
decenas unidades

9)  6
decenas unidades

10)  4
decenas unidades

Ej. 15

Ej. 4

1. _____

2. _____

3. _____

4. _____

5. _____

6. _____

7. _____

8. _____

9. _____

10. _____



Rellenar los espacios para encontrar las cantidades.

Respuestas

Ej) $\frac{1}{\text{decenas}}$ $\frac{5}{\text{unidades}}$

Ej) $\frac{0}{\text{decenas}}$ $\frac{4}{\text{unidades}}$

1) $\frac{0}{\text{decenas}}$ $\frac{2}{\text{unidades}}$

2) $\frac{1}{\text{decenas}}$ $\frac{7}{\text{unidades}}$

3) $\frac{1}{\text{decenas}}$ $\frac{2}{\text{unidades}}$

4) $\frac{0}{\text{decenas}}$ $\frac{7}{\text{unidades}}$

5) $\frac{1}{\text{decenas}}$ $\frac{8}{\text{unidades}}$

6) $\frac{1}{\text{decenas}}$ $\frac{9}{\text{unidades}}$

7) $\frac{0}{\text{decenas}}$ $\frac{1}{\text{unidades}}$

8) $\frac{1}{\text{decenas}}$ $\frac{0}{\text{unidades}}$

9) $\frac{0}{\text{decenas}}$ $\frac{6}{\text{unidades}}$

10) $\frac{1}{\text{decenas}}$ $\frac{4}{\text{unidades}}$

Ej. 15

Ej. 4

1. 2

2. 17

3. 12

4. 7

5. 18

6. 19

7. 1

8. 10

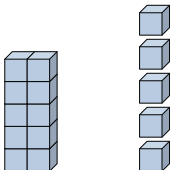
9. 6

10. 14

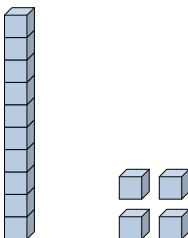


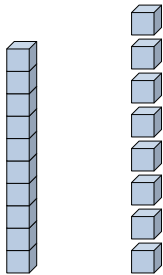
Rellenar los espacios para encontrar las cantidades.

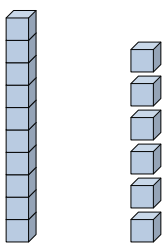
Respuestas


Ej)  1 5
decenas unidades


Ej) 0 4
decenas unidades

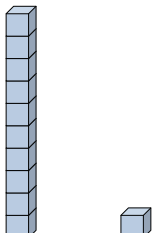
1) 
decenas unidades

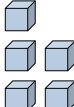
2) 
decenas unidades

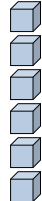
3) 
decenas unidades

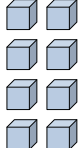
4) 
decenas unidades

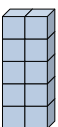
5) 
decenas unidades

6) 
decenas unidades

7) 
decenas unidades

8) 
decenas unidades

9) 
decenas unidades

10) 
decenas unidades

Ej. 15

Ej. 4

1. _____

2. _____

3. _____

4. _____

5. _____

6. _____

7. _____

8. _____

9. _____

10. _____



Rellenar los espacios para encontrar las cantidades.

Respuestas

Ej) $\begin{array}{c} \text{1} \\ \hline \text{decenas} \end{array}$ $\begin{array}{c} \text{5} \\ \hline \text{unidades} \end{array}$

Ej) $\begin{array}{c} \text{0} \\ \hline \text{decenas} \end{array}$ $\begin{array}{c} \text{4} \\ \hline \text{unidades} \end{array}$

1) $\begin{array}{c} \text{1} \\ \hline \text{decenas} \end{array}$ $\begin{array}{c} \text{4} \\ \hline \text{unidades} \end{array}$

2) $\begin{array}{c} \text{1} \\ \hline \text{decenas} \end{array}$ $\begin{array}{c} \text{8} \\ \hline \text{unidades} \end{array}$

3) $\begin{array}{c} \text{1} \\ \hline \text{decenas} \end{array}$ $\begin{array}{c} \text{6} \\ \hline \text{unidades} \end{array}$

4) $\begin{array}{c} \text{0} \\ \hline \text{decenas} \end{array}$ $\begin{array}{c} \text{3} \\ \hline \text{unidades} \end{array}$

5) $\begin{array}{c} \text{0} \\ \hline \text{decenas} \end{array}$ $\begin{array}{c} \text{1} \\ \hline \text{unidades} \end{array}$

6) $\begin{array}{c} \text{1} \\ \hline \text{decenas} \end{array}$ $\begin{array}{c} \text{1} \\ \hline \text{unidades} \end{array}$

7) $\begin{array}{c} \text{0} \\ \hline \text{decenas} \end{array}$ $\begin{array}{c} \text{5} \\ \hline \text{unidades} \end{array}$

8) $\begin{array}{c} \text{0} \\ \hline \text{decenas} \end{array}$ $\begin{array}{c} \text{6} \\ \hline \text{unidades} \end{array}$

9) $\begin{array}{c} \text{0} \\ \hline \text{decenas} \end{array}$ $\begin{array}{c} \text{8} \\ \hline \text{unidades} \end{array}$

10) $\begin{array}{c} \text{1} \\ \hline \text{decenas} \end{array}$ $\begin{array}{c} \text{0} \\ \hline \text{unidades} \end{array}$

Ej. 15

Ej. 4

1. 14

2. 18

3. 16

4. 3

5. 1

6. 11

7. 5

8. 6

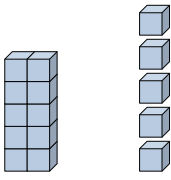
9. 8

10. 10

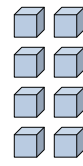


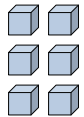
Rellenar los espacios para encontrar las cantidades.


Respuestas

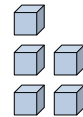
Ej)  1 5
decenas unidades


Ej) 0 4
decenas unidades


1) 
decenas unidades

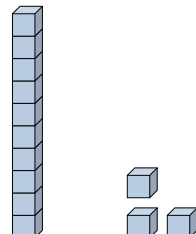
2) 
decenas unidades

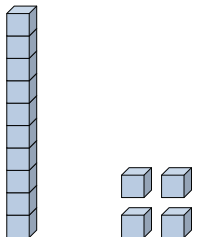
3) 
decenas unidades

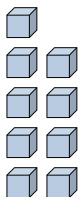
4) 
decenas unidades

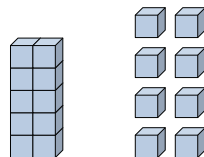
5) 
decenas unidades

6) 
decenas unidades

7) 
decenas unidades

8) 
decenas unidades

9) 
decenas unidades

10) 
decenas unidades

Ej. 15

Ej. 4

1. _____

2. _____

3. _____

4. _____

5. _____

6. _____

7. _____

8. _____

9. _____

10. _____



Rellenar los espacios para encontrar las cantidades.

Respuestas

Ej) $\begin{array}{r} \text{1} \\ \hline \text{decenas} \end{array}$ $\begin{array}{r} \text{5} \\ \hline \text{unidades} \end{array}$

Ej) $\begin{array}{r} \text{0} \\ \hline \text{decenas} \end{array}$ $\begin{array}{r} \text{4} \\ \hline \text{unidades} \end{array}$

1) $\begin{array}{r} \text{0} \\ \hline \text{decenas} \end{array}$ $\begin{array}{r} \text{8} \\ \hline \text{unidades} \end{array}$

2) $\begin{array}{r} \text{0} \\ \hline \text{decenas} \end{array}$ $\begin{array}{r} \text{6} \\ \hline \text{unidades} \end{array}$

3) $\begin{array}{r} \text{1} \\ \hline \text{decenas} \end{array}$ $\begin{array}{r} \text{0} \\ \hline \text{unidades} \end{array}$

4) $\begin{array}{r} \text{0} \\ \hline \text{decenas} \end{array}$ $\begin{array}{r} \text{5} \\ \hline \text{unidades} \end{array}$

5) $\begin{array}{r} \text{0} \\ \hline \text{decenas} \end{array}$ $\begin{array}{r} \text{3} \\ \hline \text{unidades} \end{array}$

6) $\begin{array}{r} \text{0} \\ \hline \text{decenas} \end{array}$ $\begin{array}{r} \text{1} \\ \hline \text{unidades} \end{array}$

7) $\begin{array}{r} \text{1} \\ \hline \text{decenas} \end{array}$ $\begin{array}{r} \text{3} \\ \hline \text{unidades} \end{array}$

8) $\begin{array}{r} \text{1} \\ \hline \text{decenas} \end{array}$ $\begin{array}{r} \text{4} \\ \hline \text{unidades} \end{array}$

9) $\begin{array}{r} \text{0} \\ \hline \text{decenas} \end{array}$ $\begin{array}{r} \text{9} \\ \hline \text{unidades} \end{array}$

10) $\begin{array}{r} \text{1} \\ \hline \text{decenas} \end{array}$ $\begin{array}{r} \text{8} \\ \hline \text{unidades} \end{array}$

Ej. 15

Ej. 4

1. 8

2. 6

3. 10

4. 5

5. 3

6. 1

7. 13

8. 14

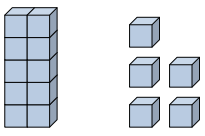
9. 9

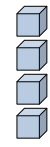
10. 18

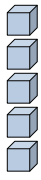


Rellenar los espacios para encontrar las cantidades.

Respuestas

Ej)  1 5
decenas unidades

Ej)  0 4
decenas unidades

1) 
decenas unidades

Ej. 15

Ej. 4

1. _____

2. _____

3. _____

4. _____

5. _____

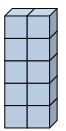
6. _____

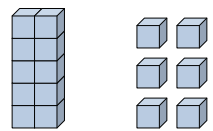
7. _____

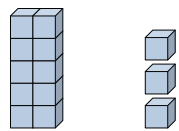
8. _____

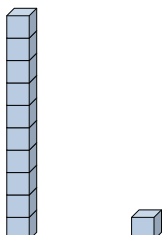
9. _____

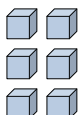
10. _____


2) 
decenas unidades

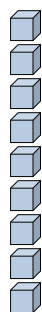
3) 
decenas unidades

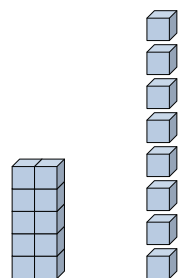
4) 
decenas unidades

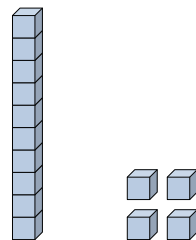
5) 
decenas unidades

6) 
decenas unidades

7) 
decenas unidades

8) 
decenas unidades

9) 
decenas unidades

10) 
decenas unidades



Rellenar los espacios para encontrar las cantidades.

Respuestas

Ej) $\frac{1}{\text{decenas}}$ $\frac{5}{\text{unidades}}$

Ej) $\frac{0}{\text{decenas}}$ $\frac{4}{\text{unidades}}$

1) $\frac{0}{\text{decenas}}$ $\frac{5}{\text{unidades}}$

2) $\frac{1}{\text{decenas}}$ $\frac{0}{\text{unidades}}$

3) $\frac{1}{\text{decenas}}$ $\frac{6}{\text{unidades}}$

4) $\frac{1}{\text{decenas}}$ $\frac{3}{\text{unidades}}$

5) $\frac{1}{\text{decenas}}$ $\frac{1}{\text{unidades}}$

6) $\frac{0}{\text{decenas}}$ $\frac{6}{\text{unidades}}$

7) $\frac{0}{\text{decenas}}$ $\frac{3}{\text{unidades}}$

8) $\frac{0}{\text{decenas}}$ $\frac{9}{\text{unidades}}$

9) $\frac{1}{\text{decenas}}$ $\frac{8}{\text{unidades}}$

10) $\frac{1}{\text{decenas}}$ $\frac{4}{\text{unidades}}$

Ej. 15

Ej. 4

1. 5

2. 10

3. 16

4. 13

5. 11

6. 6

7. 3

8. 9

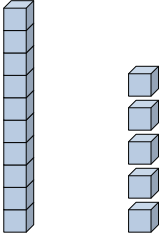
9. 18

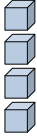
10. 14

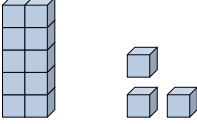


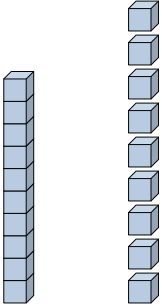
Rellenar los espacios para encontrar las cantidades.

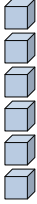
Respuestas


Ej)  1 5
decenas unidades

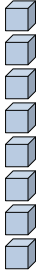
Ej)  0 4
decenas unidades


1) 
decenas unidades

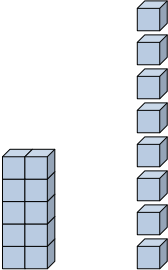
2) 
decenas unidades

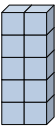
3) 
decenas unidades


4) 
decenas unidades

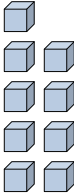
5) 
decenas unidades

6) 
decenas unidades

7) 
decenas unidades

8) 
decenas unidades

9) 
decenas unidades

10) 
decenas unidades

Ej. 15

Ej. 4

1. _____

2. _____

3. _____

4. _____

5. _____

6. _____

7. _____

8. _____

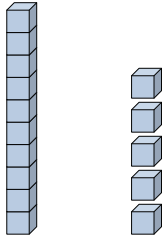
9. _____

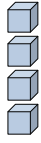
10. _____

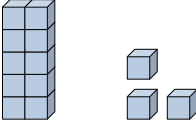


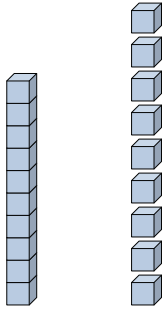
Rellenar los espacios para encontrar las cantidades.

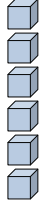
Respuestas


Ej)  $\frac{1}{\text{decenas}} \frac{5}{\text{unidades}}$

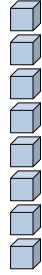
Ej)  $\frac{0}{\text{decenas}} \frac{4}{\text{unidades}}$


1)  $\frac{1}{\text{decenas}} \frac{3}{\text{unidades}}$

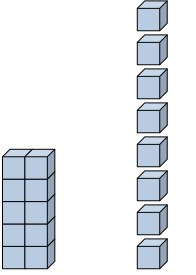
2)  $\frac{1}{\text{decenas}} \frac{9}{\text{unidades}}$


3)  $\frac{0}{\text{decenas}} \frac{6}{\text{unidades}}$


4)  $\frac{0}{\text{decenas}} \frac{1}{\text{unidades}}$

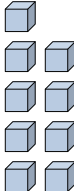
5)  $\frac{0}{\text{decenas}} \frac{8}{\text{unidades}}$

6)  $\frac{0}{\text{decenas}} \frac{7}{\text{unidades}}$

7)  $\frac{1}{\text{decenas}} \frac{8}{\text{unidades}}$

8)  $\frac{1}{\text{decenas}} \frac{0}{\text{unidades}}$

9)  $\frac{0}{\text{decenas}} \frac{2}{\text{unidades}}$

10)  $\frac{0}{\text{decenas}} \frac{9}{\text{unidades}}$

Ej. 15

Ej. 4

1. 13

2. 19

3. 6

4. 1

5. 8

6. 7

7. 18

8. 10

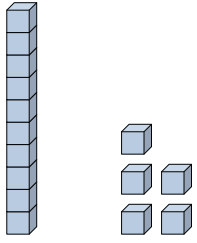
9. 2


10. 9

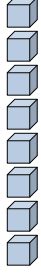



Rellenar los espacios para encontrar las cantidades.

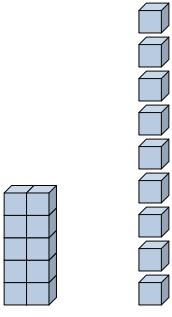
Respuestas

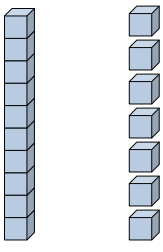
Ej)  1 5
decenas unidades

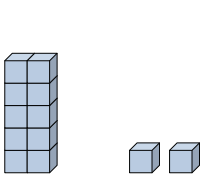
Ej)  0 4
decenas unidades


1) 
decenas unidades


2) 
decenas unidades

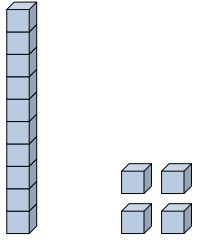
3) 
decenas unidades

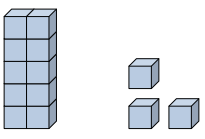
4) 
decenas unidades

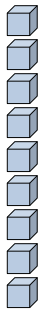
5) 
decenas unidades

6) 
decenas unidades

7) 
decenas unidades

8) 
decenas unidades

9) 
decenas unidades

10) 
decenas unidades

Ej. 15

Ej. 4

1. _____

2. _____

3. _____

4. _____

5. _____

6. _____

7. _____

8. _____

9. _____

10. _____



Rellenar los espacios para encontrar las cantidades.

Respuestas

Ej) $\begin{array}{r} 1 \\ \hline \text{decenas} \end{array}$ $\begin{array}{r} 5 \\ \hline \text{unidades} \end{array}$

Ej) $\begin{array}{r} 0 \\ \hline \text{decenas} \end{array}$ $\begin{array}{r} 4 \\ \hline \text{unidades} \end{array}$

1) $\begin{array}{r} 0 \\ \hline \text{decenas} \end{array}$ $\begin{array}{r} 8 \\ \hline \text{unidades} \end{array}$

2) $\begin{array}{r} 0 \\ \hline \text{decenas} \end{array}$ $\begin{array}{r} 2 \\ \hline \text{unidades} \end{array}$

3) $\begin{array}{r} 1 \\ \hline \text{decenas} \end{array}$ $\begin{array}{r} 9 \\ \hline \text{unidades} \end{array}$

4) $\begin{array}{r} 1 \\ \hline \text{decenas} \end{array}$ $\begin{array}{r} 7 \\ \hline \text{unidades} \end{array}$

5) $\begin{array}{r} 1 \\ \hline \text{decenas} \end{array}$ $\begin{array}{r} 2 \\ \hline \text{unidades} \end{array}$

6) $\begin{array}{r} 0 \\ \hline \text{decenas} \end{array}$ $\begin{array}{r} 5 \\ \hline \text{unidades} \end{array}$

7) $\begin{array}{r} 0 \\ \hline \text{decenas} \end{array}$ $\begin{array}{r} 3 \\ \hline \text{unidades} \end{array}$

8) $\begin{array}{r} 1 \\ \hline \text{decenas} \end{array}$ $\begin{array}{r} 4 \\ \hline \text{unidades} \end{array}$

9) $\begin{array}{r} 1 \\ \hline \text{decenas} \end{array}$ $\begin{array}{r} 3 \\ \hline \text{unidades} \end{array}$

10) $\begin{array}{r} 0 \\ \hline \text{decenas} \end{array}$ $\begin{array}{r} 9 \\ \hline \text{unidades} \end{array}$

Ej. 15

Ej. 4

1. 8

2. 2

3. 19

4. 17

5. 12

6. 5

7. 3

8. 14

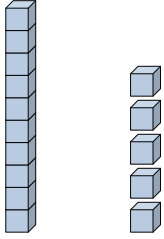
9. 13


10. 9

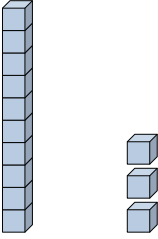


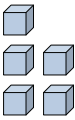
Rellenar los espacios para encontrar las cantidades.

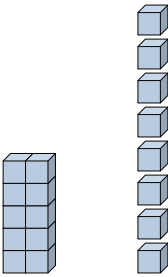
Respuestas


Ej)  1 5
decenas unidades

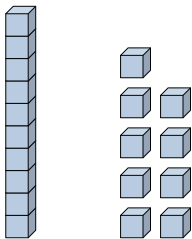
Ej)  0 4
decenas unidades


1) 
decenas unidades

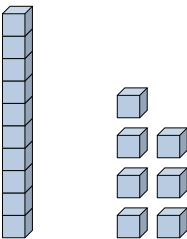
2) 
decenas unidades

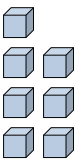
3) 
decenas unidades


4) 
decenas unidades

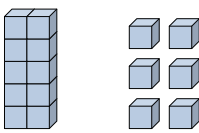
5) 
decenas unidades

6) 
decenas unidades

7) 
decenas unidades

8) 
decenas unidades

9) 
decenas unidades

10) 
decenas unidades

Ej. 15

Ej. 4

1. _____

2. _____

3. _____

4. _____

5. _____

6. _____

7. _____

8. _____

9. _____

10. _____



Rellenar los espacios para encontrar las cantidades.

Respuestas

Ej) $\begin{array}{r} 1 \\ \hline \text{decenas} \end{array}$ $\begin{array}{r} 5 \\ \hline \text{unidades} \end{array}$

Ej) $\begin{array}{r} 0 \\ \hline \text{decenas} \end{array}$ $\begin{array}{r} 4 \\ \hline \text{unidades} \end{array}$

1) $\begin{array}{r} 1 \\ \hline \text{decenas} \end{array}$ $\begin{array}{r} 3 \\ \hline \text{unidades} \end{array}$

2) $\begin{array}{r} 0 \\ \hline \text{decenas} \end{array}$ $\begin{array}{r} 5 \\ \hline \text{unidades} \end{array}$

3) $\begin{array}{r} 1 \\ \hline \text{decenas} \end{array}$ $\begin{array}{r} 8 \\ \hline \text{unidades} \end{array}$

4) $\begin{array}{r} 0 \\ \hline \text{decenas} \end{array}$ $\begin{array}{r} 3 \\ \hline \text{unidades} \end{array}$

5) $\begin{array}{r} 1 \\ \hline \text{decenas} \end{array}$ $\begin{array}{r} 9 \\ \hline \text{unidades} \end{array}$

6) $\begin{array}{r} 0 \\ \hline \text{decenas} \end{array}$ $\begin{array}{r} 1 \\ \hline \text{unidades} \end{array}$

7) $\begin{array}{r} 1 \\ \hline \text{decenas} \end{array}$ $\begin{array}{r} 7 \\ \hline \text{unidades} \end{array}$

8) $\begin{array}{r} 0 \\ \hline \text{decenas} \end{array}$ $\begin{array}{r} 7 \\ \hline \text{unidades} \end{array}$

9) $\begin{array}{r} 1 \\ \hline \text{decenas} \end{array}$ $\begin{array}{r} 0 \\ \hline \text{unidades} \end{array}$

10) $\begin{array}{r} 1 \\ \hline \text{decenas} \end{array}$ $\begin{array}{r} 6 \\ \hline \text{unidades} \end{array}$

Ej. 15

Ej. 4

1. 13

2. 5

3. 18

4. 3

5. 19

6. 1

7. 17

8. 7

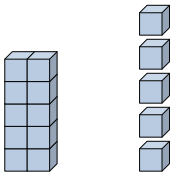
9. 10


10. 16




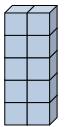
Rellenar los espacios para encontrar las cantidades.

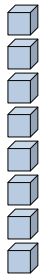
Respuestas

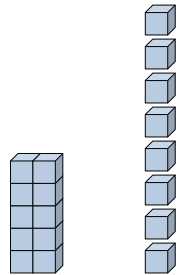
Ej)  1 5
decenas unidades

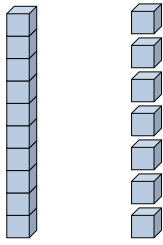
Ej) 0 4
decenas unidades 


1)
decenas unidades 

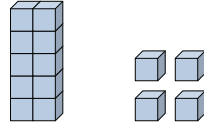
2) 
decenas unidades


3)
decenas unidades 

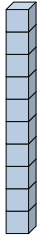

4) 
decenas unidades

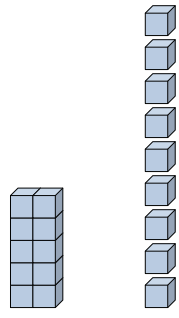
5) 
decenas unidades

6)
decenas unidades 

7) 
decenas unidades

8) 1
decenas unidades 

9)  1
decenas unidades 

10) 
decenas unidades

Ej. 15

Ej. 4

1. _____

2. _____

3. _____

4. _____

5. _____

6. _____

7. _____

8. _____

9. _____

10. _____



Rellenar los espacios para encontrar las cantidades.

Respuestas

Ej) $\begin{array}{r} \text{1} \\ \hline \text{decenas} \end{array}$ $\begin{array}{r} \text{5} \\ \hline \text{unidades} \end{array}$

Ej) $\begin{array}{r} \text{0} \\ \hline \text{decenas} \end{array}$ $\begin{array}{r} \text{4} \\ \hline \text{unidades} \end{array}$

1) $\begin{array}{r} \text{0} \\ \hline \text{decenas} \end{array}$ $\begin{array}{r} \text{3} \\ \hline \text{unidades} \end{array}$

2) $\begin{array}{r} \text{1} \\ \hline \text{decenas} \end{array}$ $\begin{array}{r} \text{0} \\ \hline \text{unidades} \end{array}$

3) $\begin{array}{r} \text{0} \\ \hline \text{decenas} \end{array}$ $\begin{array}{r} \text{8} \\ \hline \text{unidades} \end{array}$

4) $\begin{array}{r} \text{1} \\ \hline \text{decenas} \end{array}$ $\begin{array}{r} \text{8} \\ \hline \text{unidades} \end{array}$

5) $\begin{array}{r} \text{1} \\ \hline \text{decenas} \end{array}$ $\begin{array}{r} \text{7} \\ \hline \text{unidades} \end{array}$

6) $\begin{array}{r} \text{0} \\ \hline \text{decenas} \end{array}$ $\begin{array}{r} \text{2} \\ \hline \text{unidades} \end{array}$

7) $\begin{array}{r} \text{1} \\ \hline \text{decenas} \end{array}$ $\begin{array}{r} \text{4} \\ \hline \text{unidades} \end{array}$

8) $\begin{array}{r} \text{0} \\ \hline \text{decenas} \end{array}$ $\begin{array}{r} \text{1} \\ \hline \text{unidades} \end{array}$

9) $\begin{array}{r} \text{1} \\ \hline \text{decenas} \end{array}$ $\begin{array}{r} \text{1} \\ \hline \text{unidades} \end{array}$

10) $\begin{array}{r} \text{1} \\ \hline \text{decenas} \end{array}$ $\begin{array}{r} \text{9} \\ \hline \text{unidades} \end{array}$

Ej. 15

Ej. 4

1. 3

2. 10

3. 8

4. 18

5. 17

6. 2

7. 14

8. 1

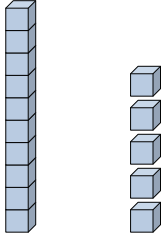
9. 11

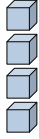
10. 19

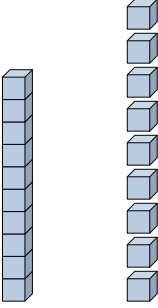


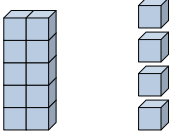
Rellenar los espacios para encontrar las cantidades.

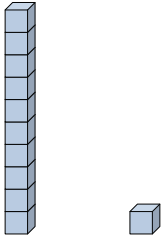
Respuestas


Ej) 
 decenas unidades
 1 5

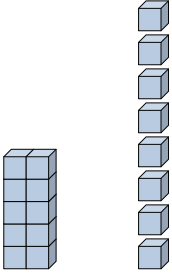
Ej) 
 decenas unidades
 0 4

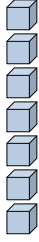
1) 
 decenas unidades


2) 
 decenas unidades

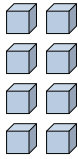
3) 
 decenas unidades

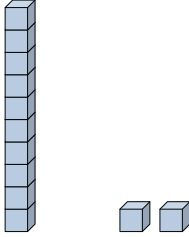
4) 
 decenas unidades

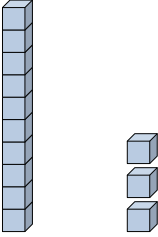
5) 
 decenas unidades

6) 
 decenas unidades

7) 
 decenas unidades

8) 
 decenas unidades

9) 
 decenas unidades

10) 
 decenas unidades

Ej. 15

Ej. 4

1. _____

2. _____

3. _____

4. _____

5. _____

6. _____

7. _____

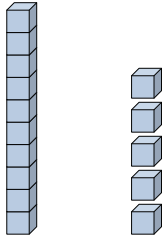
8. _____

9. _____

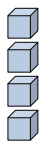
10. _____



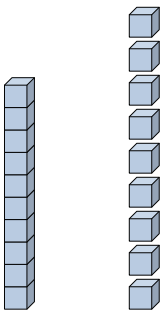
Rellenar los espacios para encontrar las cantidades.

Ej) 

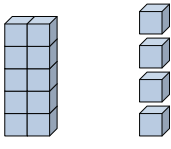
$$\begin{array}{r} 1 \\ \hline \text{decenas} \end{array} \quad \begin{array}{r} 5 \\ \hline \text{unidades} \end{array}$$

Ej) 

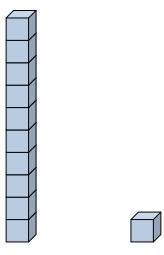
$$\begin{array}{r} 0 \\ \hline \text{decenas} \end{array} \quad \begin{array}{r} 4 \\ \hline \text{unidades} \end{array}$$

1) 

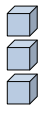
$$\begin{array}{r} 1 \\ \hline \text{decenas} \end{array} \quad \begin{array}{r} 9 \\ \hline \text{unidades} \end{array}$$

2) 

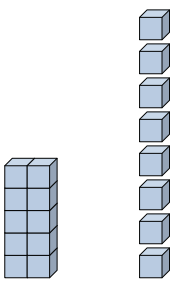
$$\begin{array}{r} 1 \\ \hline \text{decenas} \end{array} \quad \begin{array}{r} 4 \\ \hline \text{unidades} \end{array}$$

3) 


$$\begin{array}{r} 1 \\ \hline \text{decenas} \end{array} \quad \begin{array}{r} 1 \\ \hline \text{unidades} \end{array}$$

4) 


$$\begin{array}{r} 0 \\ \hline \text{decenas} \end{array} \quad \begin{array}{r} 3 \\ \hline \text{unidades} \end{array}$$

5) 

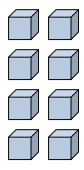
$$\begin{array}{r} 1 \\ \hline \text{decenas} \end{array} \quad \begin{array}{r} 8 \\ \hline \text{unidades} \end{array}$$

6) 

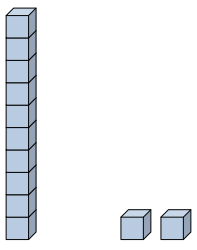
$$\begin{array}{r} 0 \\ \hline \text{decenas} \end{array} \quad \begin{array}{r} 7 \\ \hline \text{unidades} \end{array}$$

7) 

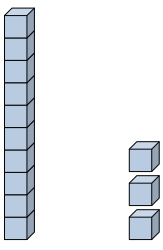
$$\begin{array}{r} 0 \\ \hline \text{decenas} \end{array} \quad \begin{array}{r} 2 \\ \hline \text{unidades} \end{array}$$

8) 

$$\begin{array}{r} 0 \\ \hline \text{decenas} \end{array} \quad \begin{array}{r} 8 \\ \hline \text{unidades} \end{array}$$

9) 

$$\begin{array}{r} 1 \\ \hline \text{decenas} \end{array} \quad \begin{array}{r} 2 \\ \hline \text{unidades} \end{array}$$

10) 

$$\begin{array}{r} 1 \\ \hline \text{decenas} \end{array} \quad \begin{array}{r} 3 \\ \hline \text{unidades} \end{array}$$

Respuestas

Ej. 15

Ej. 4

1. 19

2. 14

3. 11

4. 3

5. 18

6. 7

7. 2

8. 8

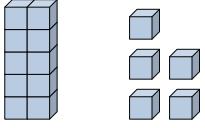
9. 12

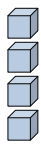
10. 13

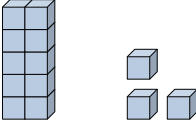


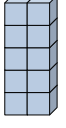
Rellenar los espacios para encontrar las cantidades.

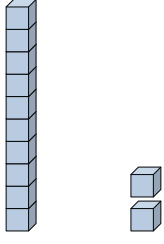
Respuestas


Ej)  1 5
decenas unidades

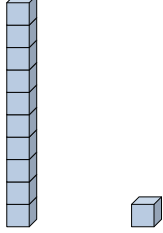
Ej)  0 4
decenas unidades

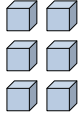
1) 
decenas unidades

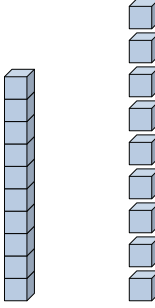
2) 
decenas unidades

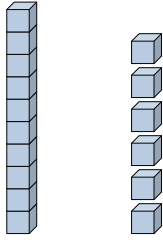
3) 
decenas unidades

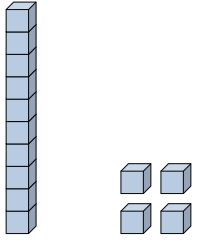
4) 
decenas unidades


5) 
decenas unidades

6) 
decenas unidades

7) 
decenas unidades

8) 
decenas unidades

9) 
decenas unidades

10) 
decenas unidades

Ej. 15

Ej. 4

1. _____

2. _____

3. _____

4. _____

5. _____

6. _____

7. _____

8. _____

9. _____

10. _____



Rellenar los espacios para encontrar las cantidades.

Respuestas

Ej) $\frac{1}{\text{decenas}}$ $\frac{5}{\text{unidades}}$

Ej) $\frac{0}{\text{decenas}}$ $\frac{4}{\text{unidades}}$

1) $\frac{1}{\text{decenas}}$ $\frac{3}{\text{unidades}}$

2) $\frac{1}{\text{decenas}}$ $\frac{0}{\text{unidades}}$

3) $\frac{1}{\text{decenas}}$ $\frac{2}{\text{unidades}}$

4) $\frac{0}{\text{decenas}}$ $\frac{7}{\text{unidades}}$

5) $\frac{1}{\text{decenas}}$ $\frac{1}{\text{unidades}}$

6) $\frac{0}{\text{decenas}}$ $\frac{6}{\text{unidades}}$

7) $\frac{1}{\text{decenas}}$ $\frac{9}{\text{unidades}}$

8) $\frac{1}{\text{decenas}}$ $\frac{6}{\text{unidades}}$

9) $\frac{1}{\text{decenas}}$ $\frac{4}{\text{unidades}}$

10) $\frac{0}{\text{decenas}}$ $\frac{5}{\text{unidades}}$

Ej. 15

Ej. 4

1. 13

2. 10

3. 12

4. 7

5. 11

6. 6

7. 19

8. 16

9. 14

10. 5