





Usar las escalas mostradas para responder a las preguntas.

1)




Si usted tiene 5 bloques que son del mismo peso, ¿cuántos libras en total pesan los bloques?

2)




¿Cuál es el peso (en onzas) del bloque?

3)



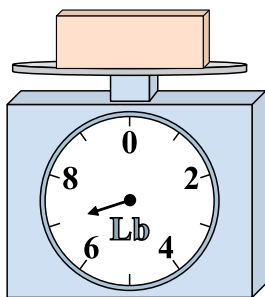
Si el bloque que se muestra fuera 4 libras más pesado, ¿cuánto pesaría?

4)




¿Cuál es el peso (en onzas) del bloque?

5)



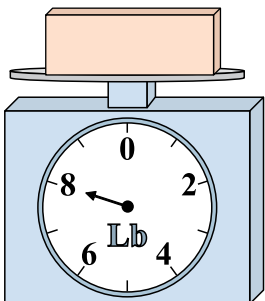
Si usted tiene 3 bloques que son del mismo peso, ¿cuántos libras en total pesan los bloques?

6)




Si el bloque que se muestra fuera 3 onzas más pesado, ¿cuánto pesaría?

7)



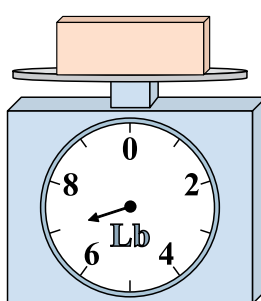
Si el bloque que se muestra fuera 6 libras más ligero, ¿cuánto pesa?

8)



Si el bloque que se muestra fuera 3 onzas más pesado, ¿cuánto pesaría?

9)



Si el bloque que se muestra fuera 5 libras más ligero, ¿cuánto pesa?

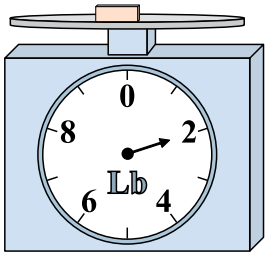
Respuestas

- 1. _____
- 2. _____
- 3. _____
- 4. _____
- 5. _____
- 6. _____
- 7. _____
- 8. _____
- 9. _____




Usar las escalas mostradas para responder a las preguntas.

1)



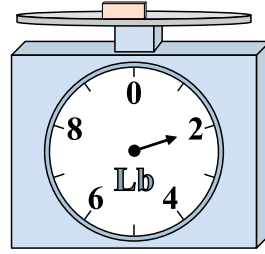
Si usted tiene 5 bloques que son del mismo peso, ¿cuántos libras en total pesan los bloques?

2)



¿Cuál es el peso (en onzas) del bloque?

3)



Si el bloque que se muestra fuera 4 libras más pesado, ¿cuánto pesaría?

Respuestas

1. **10 lb**

2. **1 oz**

3. **6 lb**

4. **1 oz**

5. **21 lb**


6. **11 oz**

7. **2 lb**

8. **10 oz**


9. **2 lb**

4)




¿Cuál es el peso (en onzas) del bloque?

5)



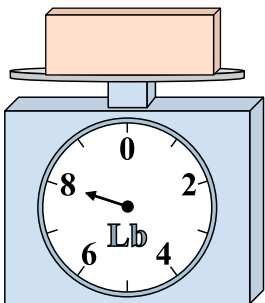
Si usted tiene 3 bloques que son del mismo peso, ¿cuántos libras en total pesan los bloques?

6)




Si el bloque que se muestra fuera 3 onzas más pesado, ¿cuánto pesaría?

7)



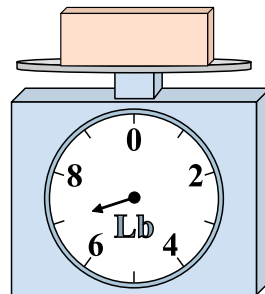
Si el bloque que se muestra fuera 6 libras más ligero, ¿cuánto pesa?

8)



Si el bloque que se muestra fuera 3 onzas más pesado, ¿cuánto pesaría?

9)



Si el bloque que se muestra fuera 5 libras más ligero, ¿cuánto pesa?