



Determina cuál letra mejor representa el peso del objeto.

Respuestas


Gramas (g)

Un gramo es aproximadamente el peso de un clip.



Kilogramo (kilogramo)


Un kilogramo es aproximadamente el peso de un libro grueso.



Recuerda:

Kilo significa 1,000. Entonces, un kilogramo son 1,000 gramos. 1 kilogramo también pesa aproximadamente lo mismo que 2 libras.

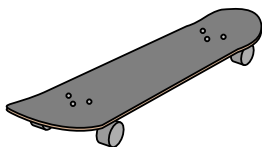
1)



Cuaderno de papel

- A. 1 kilogramo
- B. 3 gramos
- C. 500 gramos
- D. 85 gramos

2)



Monopatín

- A. 20 gramos
- B. 15 kilogramos
- C. 2 kilogramos
- D. 200 gramos


3)



Escoba

- A. 500 gramos
- B. 10 kilogramos
- C. 10 gramos
- D. 200 kilogramos


4)



Pera

- A. 2 kilogramos
- B. 170 kilogramos
- C. 170 gramos
- D. 2 gramos

5)



Cortadora de césped

- A. 500 gramos
- B. 100 kilogramos
- C. 200 gramos
- D. 22 kilogramos

6)



Gabinete

- A. 55 kilogramos
- B. 1 gramo
- C. 300 gramos
- D. 1 kilogramo

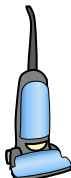
7)



Reloj de mano

- A. 1 gramo
- B. 90 gramos
- C. 1 kilogramo
- D. 500 kilogramos


8)



Aspiradora

- A. 20 kilogramos
- B. 90 gramos
- C. 500 kilogramos
- D. 50 gramos

9)



Manzana

- A. 5 gramos
- B. 200 kilogramos
- C. 200 gramos
- D. 5 kilogramos

- 1. _____
- 2. _____
- 3. _____
- 4. _____
- 5. _____
- 6. _____
- 7. _____
- 8. _____
- 9. _____



Determina cuál letra mejor representa el peso del objeto.

Respuestas

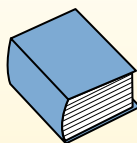
Gramas (g)

Un gramo es aproximadamente el peso de un clip.



Kilogramo (kilogramo)


Un kilogramo es aproximadamente el peso de un libro grueso.



Recuerda:

Kilo significa 1,000. Entonces, un kilogramo son 1,000 gramos. 1 kilogramo también pesa aproximadamente lo mismo que 2 libras.

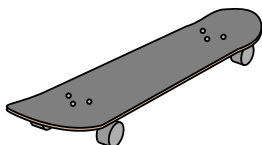
1)



Cuaderno de papel

- A. 1 kilogramo
- B. 3 gramos
- C. 500 gramos
- D. 85 gramos

2)



Monopatín

- A. 20 gramos
- B. 15 kilogramos
- C. 2 kilogramos
- D. 200 gramos


3)



Escoba

- A. 500 gramos
- B. 10 kilogramos
- C. 10 gramos
- D. 200 kilogramos

4)



Pera

- A. 2 kilogramos
- B. 170 kilogramos
- C. 170 gramos
- D. 2 gramos

5)



Cortadora de césped

- A. 500 gramos
- B. 100 kilogramos
- C. 200 gramos
- D. 22 kilogramos

6)



Gabinete

- A. 55 kilogramos
- B. 1 gramo
- C. 300 gramos
- D. 1 kilogramo

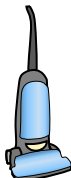
7)



Reloj de mano

- A. 1 gramo
- B. 90 gramos
- C. 1 kilogramo
- D. 500 kilogramos


8)



Aspiradora

- A. 20 kilogramos
- B. 90 gramos
- C. 500 kilogramos
- D. 50 gramos

9)



Manzana

- A. 5 gramos
- B. 200 kilogramos
- C. 200 gramos
- D. 5 kilogramos

- 1. **B**
- 2. **C**
- 3. **A**
- 4. **C**
- 5. **D**
- 6. **A**
- 7. **B**
- 8. **A**
- 9. **C**