



Determina cuál letra mejor representa el peso del objeto.

Respuestas

Gramo (g)

Un gramo es aproximadamente el peso de un clip.



Kilogramo (kilogramo)

Un kilogramo es aproximadamente el peso de un libro grueso.

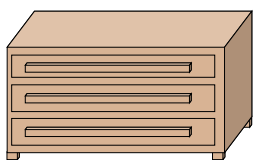


Recuerda:

Kilo significa 1,000. Entonces, un kilogramo son 1,000 gramos. 1 kilogramo también pesa aproximadamente lo mismo que 2 libras.

1. _____
2. _____
3. _____
4. _____
5. _____
6. _____
7. _____
8. _____
9. _____

1)



Cómoda

- A. 500 kilogramos
- B. 70 kilogramos
- C. 20 gramos
- D. 350 gramos

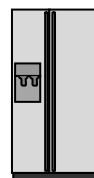
2)



Estufa

- A. 70 kilogramos
- B. 15 gramos
- C. 70 gramos
- D. 15 kilogramos


3)



Refrigerador

- A. 10 kilogramos
- B. 40 gramos
- C. 90 kilogramos
- D. 200 gramos

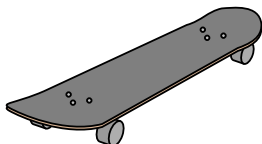
4)



Pera

- A. 170 kilogramos
- B. 2 kilogramos
- C. 170 gramos
- D. 2 gramos

5)



Monopatín

- A. 20 gramos
- B. 200 gramos
- C. 2 kilogramos
- D. 15 kilogramos

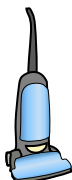
6)



Monitor

- A. 8 kilogramos
- B. 500 gramos
- C. 500 kilogramos
- D. 8 gramos

7)



Aspiradora

- A. 20 kilogramos
- B. 90 gramos
- C. 500 kilogramos
- D. 50 gramos

8)



Reclinadora

- A. 90 gramos
- B. 150 gramos
- C. 1 kilogramo
- D. 35 kilogramos

9)



Reloj de mano

- A. 500 kilogramos
- B. 1 kilogramo
- C. 1 gramo
- D. 90 gramos



Determina cuál letra mejor representa el peso del objeto.

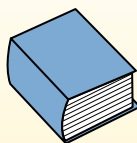
Gramas (g)

Un gramo es aproximadamente el peso de un clip.



Kilogramo (kilogramo)

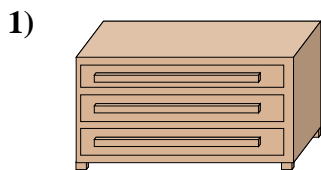
Un kilogramo es aproximadamente el peso de un libro grueso.



Recuerda:

Kilo significa 1,000. Entonces, un kilogramo son 1,000 gramos. 1 kilogramo también pesa aproximadamente lo mismo que 2 libras.

Respuestas



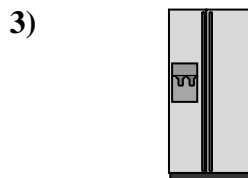
Cómoda

- A. 500 kilogramos
- B. 70 kilogramos
- C. 20 gramos
- D. 350 gramos



Estufa

- A. 70 kilogramos
- B. 15 gramos
- C. 70 gramos
- D. 15 kilogramos




Refrigerador

- A. 10 kilogramos
- B. 40 gramos
- C. 90 kilogramos
- D. 200 gramos



Pera

- A. 170 kilogramos
- B. 2 kilogramos
- C. 170 gramos
- D. 2 gramos



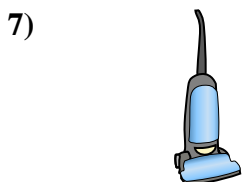
Monopatín

- A. 20 gramos
- B. 200 gramos
- C. 2 kilogramos
- D. 15 kilogramos




Monitor

- A. 8 kilogramos
- B. 500 gramos
- C. 500 kilogramos
- D. 8 gramos




Aspiradora

- A. 20 kilogramos
- B. 90 gramos
- C. 500 kilogramos
- D. 50 gramos



Reclinadora

- A. 90 gramos
- B. 150 gramos
- C. 1 kilogramo
- D. 35 kilogramos



Reloj de mano

- A. 500 kilogramos
- B. 1 kilogramo
- C. 1 gramo
- D. 90 gramos

- 1. **B**
- 2. **A**
- 3. **C**
- 4. **C**
- 5. **C**
- 6. **A**
- 7. **A**
- 8. **D**
- 9. **D**