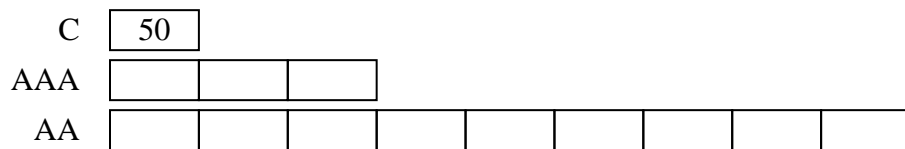


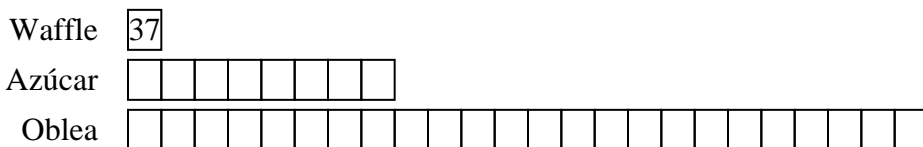


Resuelve cada problema usando un diagrama de cinta.

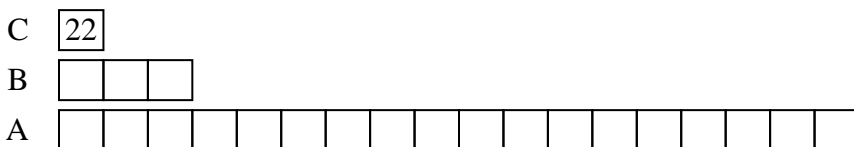
- 1) Una tienda vendió 50 baterías C en un día. Vendieron 3 tantas pilas AAA como pilas C y 3 veces más pilas AA que AAA. ¿Cuántas baterías vendieron en total?



- 2) Una heladería vendió 37 conos de waffle. Vendieron 8 veces más conos de azúcar que conos de waffle y 3 veces más conos de obleas que conos de azúcar. ¿Cuántos conos vendieron en total?

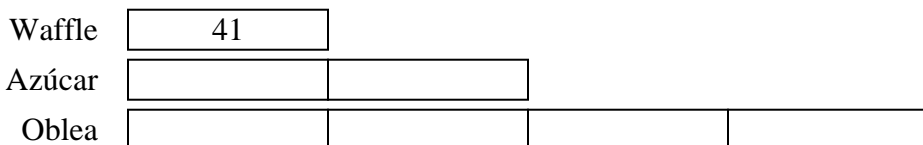


- 3) El director de una escuela estaba revisando las calificaciones. En matemáticas, 22 estudiantes obtuvieron una C. 3 veces tantos estudiantes obtuvieron una B. Y 6 veces más estudiantes obtuvieron una A que una B. ¿Cuántos estudiantes obtuvieron una A, B o C?



- 4) Semana 1
- Semana 2
- Semana 3

- 5) Una heladería vendió 41 conos de waffle. Vendieron 2 veces más conos de azúcar que conos de waffle y 2 veces más conos de obleas que conos de azúcar. ¿Cuántos conos vendieron en total?



Respuestas

1. 650

2. 1221

3. 484

4. 377

5. 287