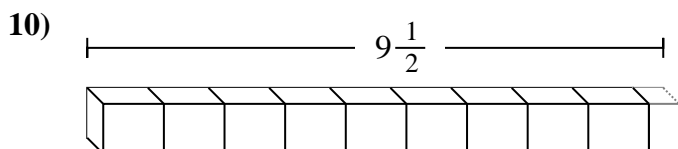
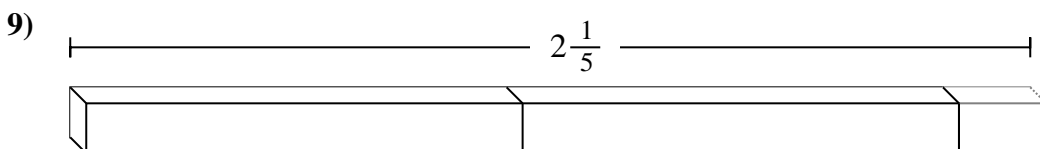
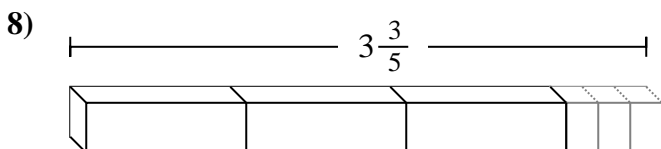
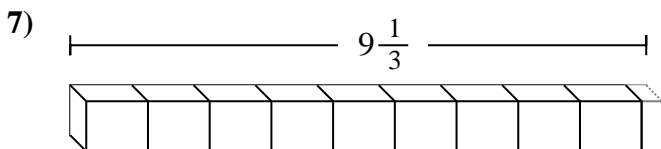
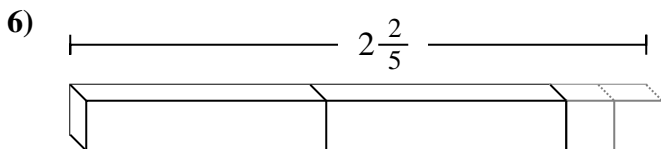
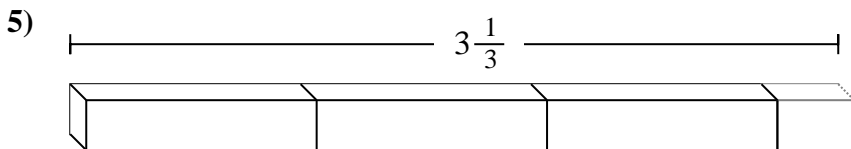
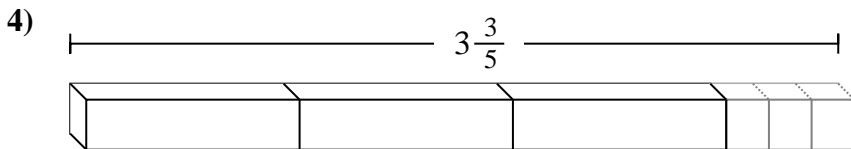
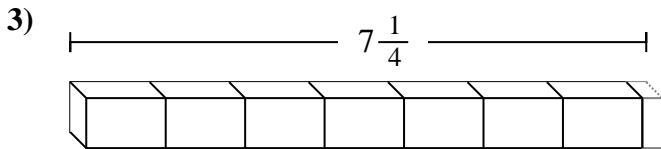
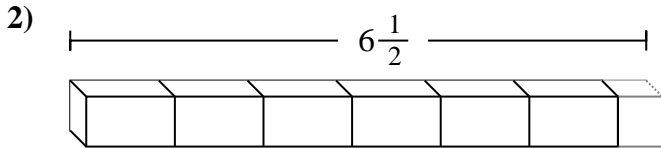
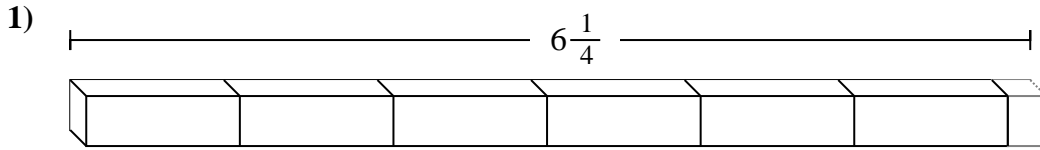
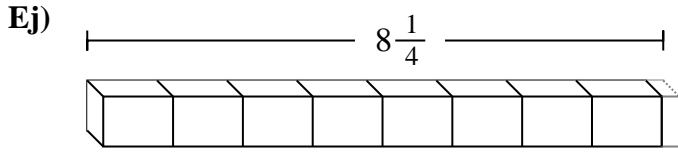




Determinar el número de piezas fraccionarias más pequeñas que se pueden hacer a partir de la pieza más grande.

Respuestas



Ej. **33**

1. _____

2. _____

3. _____

4. _____

5. _____

6. _____

7. _____

8. _____

9. _____

10. _____



Determinar el número de piezas fraccionarias más pequeñas que se pueden hacer a partir de la pieza más grande.

Ej) $8\frac{1}{4}$

1) $6\frac{1}{4}$

2) $6\frac{1}{2}$

3) $7\frac{1}{4}$

4) $3\frac{3}{5}$

5) $3\frac{1}{3}$

6) $2\frac{2}{5}$

7) $9\frac{1}{3}$

8) $3\frac{3}{5}$

9) $2\frac{1}{5}$

10) $9\frac{1}{2}$

Respuestas

- Ej. 33
1. 25
2. 13
3. 29
4. 18
5. 10
6. 12
7. 28
8. 18
9. 11
10. 19