

Utilice los patrones de cuadrícula para responder cada pregunta. Cada SVGREPLACE = 1 unidad cuadrada.

Respuestas

1) _____

1

2

3

4



A. Si el patrón anterior continúa, ¿cuál será el área de la cuadrícula 6?

B. Si el patrón anterior continúa, ¿cuál será el área de la cuadrícula 8?

2) _____

1

2

3

4



A. Si el patrón anterior continúa, ¿cuál será el área de la cuadrícula 5?

B. Si el patrón anterior continúa, ¿cuál será el área de la cuadrícula 8?

3) _____

1

2

3

4



A. Si el patrón anterior continúa, ¿cuál será el área de la cuadrícula 6?

B. Si el patrón anterior continúa, ¿cuál será el área de la cuadrícula 8?

4) _____

1

2

3

4



A. Si el patrón anterior continúa, ¿cuál será el área de la cuadrícula 5?

B. Si el patrón anterior continúa, ¿cuál será el área de la cuadrícula 8?

5) _____

1

2

3

4



A. Si el patrón anterior continúa, ¿cuál será el área de la cuadrícula 6?

B. Si el patrón anterior continúa, ¿cuál será el área de la cuadrícula 8?

1. _____

2. _____

3. _____

4. _____

5. _____



Utilice los patrones de cuadrícula para responder cada pregunta. Cada SVGREPLACE = 1 unidad cuadrada.

Respuestas

1) _____

1

2

3

4



A. Si el patrón anterior continúa, ¿cuál será el área de la cuadrícula 6?

B. Si el patrón anterior continúa, ¿cuál será el área de la cuadrícula 8?

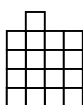
2) _____

1

2

3

4



A. Si el patrón anterior continúa, ¿cuál será el área de la cuadrícula 5?

B. Si el patrón anterior continúa, ¿cuál será el área de la cuadrícula 8?

3) _____

1

2

3

4



A. Si el patrón anterior continúa, ¿cuál será el área de la cuadrícula 6?

B. Si el patrón anterior continúa, ¿cuál será el área de la cuadrícula 8?

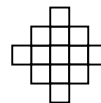
4) _____

1

2

3

4



A. Si el patrón anterior continúa, ¿cuál será el área de la cuadrícula 5?

B. Si el patrón anterior continúa, ¿cuál será el área de la cuadrícula 8?


5) _____

1

2

3

4



A. Si el patrón anterior continúa, ¿cuál será el área de la cuadrícula 6?

B. Si el patrón anterior continúa, ¿cuál será el área de la cuadrícula 8?

1. 16 222. 9 33. 18 244. 17 295. 22 30