




Determina cuál letra mejor representa el volúmen.

Respuestas

Milliliter

Un mililitro equivale a unas 20 gotas de agua.



Liter

Muchas botellas grandes de refrescos tienen 1 o 2 litros.

1 Liter = 1,000 Milliliters



- 1. _____
- 2. _____
- 3. _____
- 4. _____
- 5. _____
- 6. _____
- 7. _____
- 8. _____
- 9. _____


1)



Botella de Pegamento

- A. 2 litros
- B. 3 mililitros
- C. 5 litros
- D. 120 mililitros

2)



carretilla de Arena

- A. 500 mililitros
- B. 50 mililitros
- C. 170 litros
- D. 3 litros

3)



Tazón de cereal

- A. 2 litros
- B. 50 mililitros
- C. 475 mililitros
- D. 1 mililitro

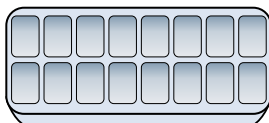
4)



Harina en un lote de galletas

- A. 10 mililitros
- B. 350 mililitros
- C. 1 mililitro
- D. 2 litros


5)



Agua en una bandeja de hielo

- A. 0.5 litros
- B. 2 mililitros
- C. 50 mililitros
- D. 2 litros

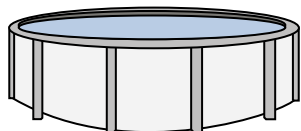
6)



Gotero lleno

- A. 500 mililitros
- B. 2 litros
- C. 2 mililitros
- D. 1000 mililitros

7)



Agua en una piscina

- A. 800 mililitros
- B. 12000 mililitros
- C. 800 litros
- D. 12000 litros

8)



Líquido en una cuchara

- A. 5 litros
- B. 5 mililitros
- C. 500 mililitros
- D. 1 litro

9)



Leche de la cafetería

- A. 1 litro
- B. 237 mililitros
- C. 237 litros
- D. 2 litros



Determina cuál letra mejor representa el volúmen.

Milliliter

Un mililitro equivale a unas 20 gotas de agua.



Liter

Muchas botellas grandes de refrescos tienen 1 o 2 litros.

1 Liter = 1,000 Milliliters



Respuestas


1)



Botella de Pegamento

- A. 2 litros
- B. 3 mililitros
- C. 5 litros
- D. 120 mililitros

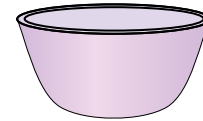
2)



carretilla de Arena

- A. 500 mililitros
- B. 50 mililitros
- C. 170 litros
- D. 3 litros

3)



Tazón de cereal

- A. 2 litros
- B. 50 mililitros
- C. 475 mililitros
- D. 1 mililitro

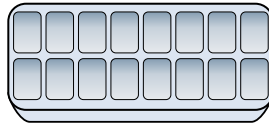
4)



Harina en un lote de galletas

- A. 10 mililitros
- B. 350 mililitros
- C. 1 mililitro
- D. 2 litros


5)



Agua en una bandeja de hielo

- A. 0.5 litros
- B. 2 mililitros
- C. 50 mililitros
- D. 2 litros

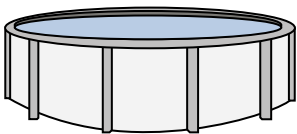
6)



Gotero lleno

- A. 500 mililitros
- B. 2 litros
- C. 2 mililitros
- D. 1000 mililitros

7)



Agua en una piscina

- A. 800 mililitros
- B. 12000 mililitros
- C. 800 litros
- D. 12000 litros

8)



Líquido en una cuchara

- A. 5 litros
- B. 5 mililitros
- C. 500 mililitros
- D. 1 litro

9)



Leche de la cafetería

- A. 1 litro
- B. 237 mililitros
- C. 237 litros
- D. 2 litros

- 1. **D**
- 2. **C**
- 3. **C**
- 4. **B**
- 5. **A**
- 6. **C**
- 7. **D**
- 8. **B**
- 9. **B**