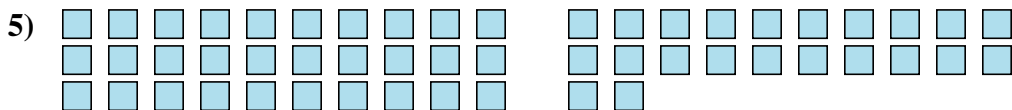
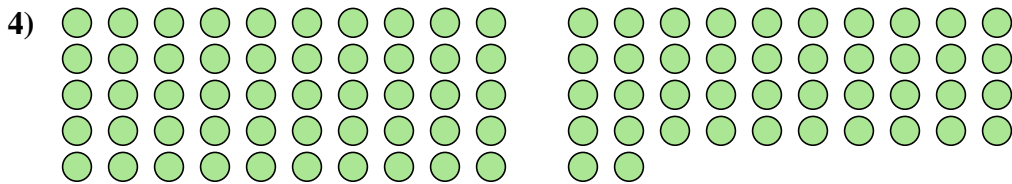




Cuente el número de formas que se muestran.



**Respuestas**

1. \_\_\_\_\_

2. \_\_\_\_\_

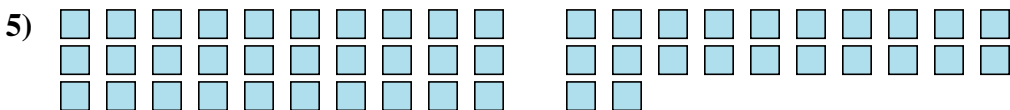
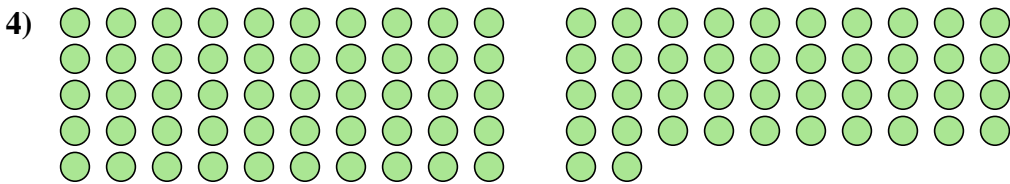
3. \_\_\_\_\_

4. \_\_\_\_\_

5. \_\_\_\_\_



Cuente el número de formas que se muestran.



**Respuestas**

1. 23

2. 61

3. 7

4. 92

5. 52