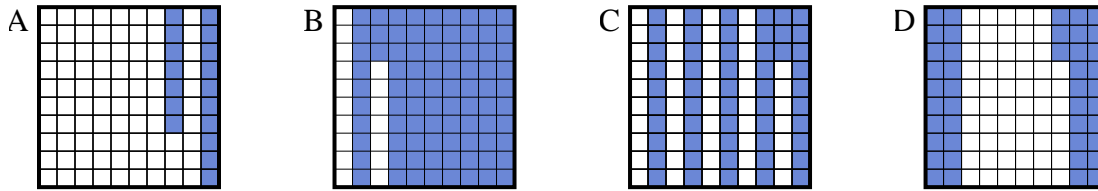




Determina cuál letra mejor resuelve la pregunta.

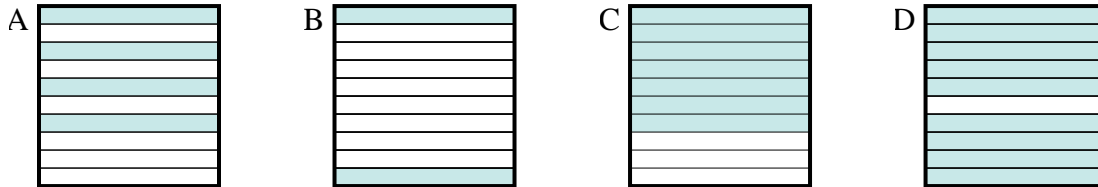
Respuestas

1) ¿Qué cuadrícula de 10×10 está sombreado para representar el número decimal que, cuando se añade a 0.17 da como resultado un total de 1.00?



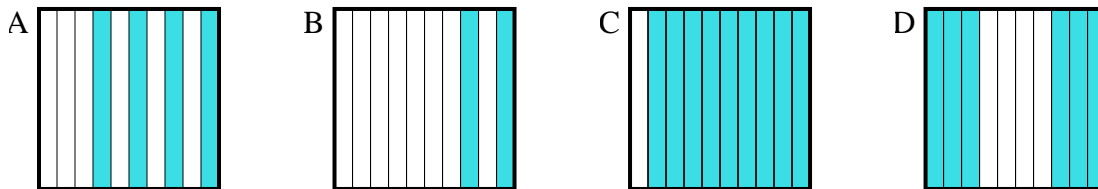
1. _____

2) ¿Qué cuadrícula de 10×1 está sombreado para representar el número decimal que, cuando se añade a 0.3 da como resultado un total de 1.00?



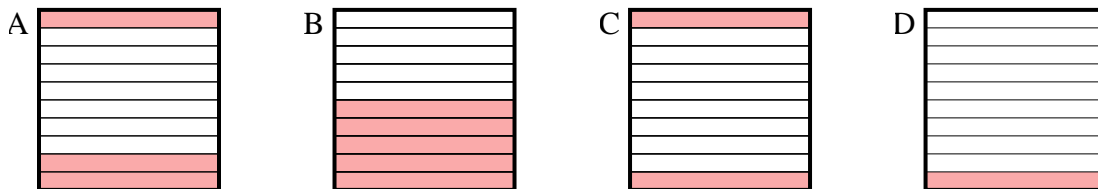
2. _____

3) ¿Qué cuadrícula de 10×1 está sombreado para representar el número decimal que, cuando se añade a 0.6 da como resultado un total de 1.00?



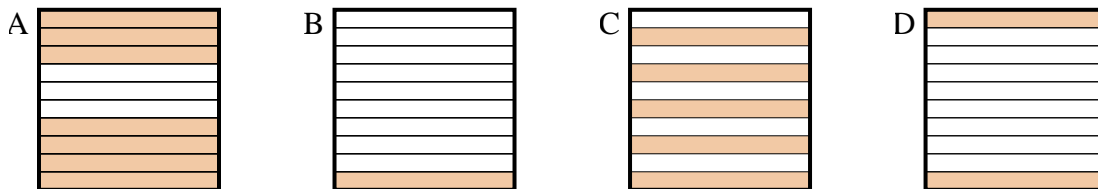
3. _____

4) ¿Qué cuadrícula de 10×1 está sombreado para representar el número decimal que, cuando se añade a 0.9 da como resultado un total de 1.00?



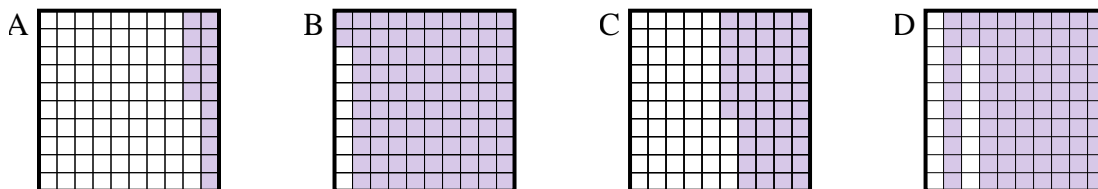
4. _____

5) ¿Qué cuadrícula de 10×1 está sombreado para representar el número decimal que, cuando se añade a 0.5 da como resultado un total de 1.00?



5. _____

6) ¿Qué cuadrícula de 10×10 está sombreado para representar el número decimal que, cuando se añade a 0.18 da como resultado un total de 1.00?



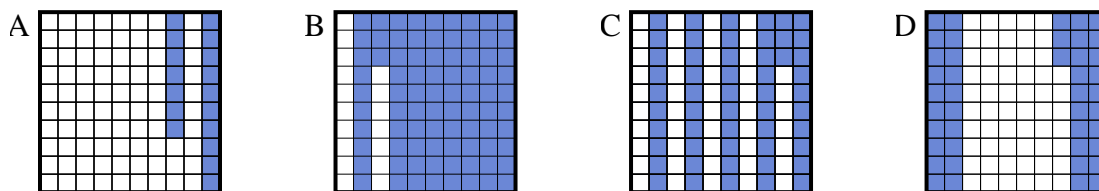
6. _____



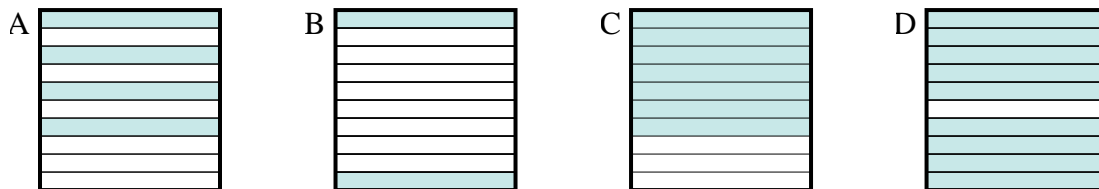
Determina cuál letra mejor resuelve la pregunta.

Respuestas

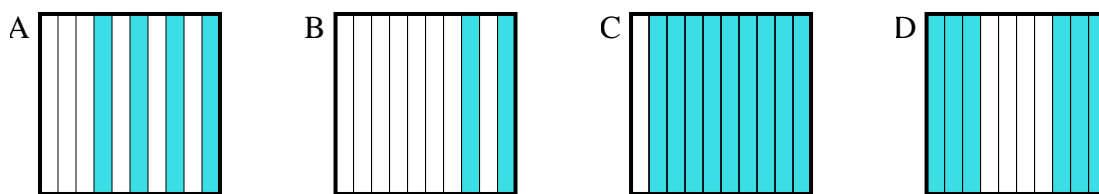
- 1) ¿Qué cuadrícula de 10×10 está sombreado para representar el número decimal que, cuando se añade a 0.17 da como resultado un total de 1.00?

1. **B**

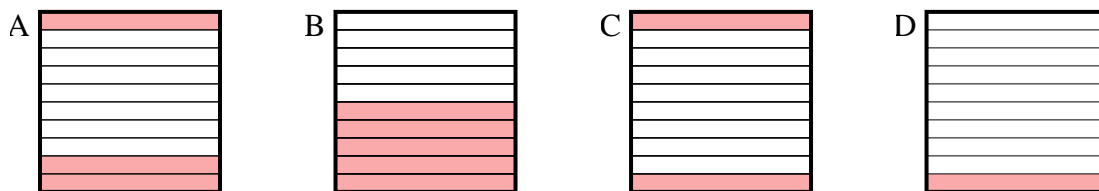
- 2) ¿Qué cuadrícula de 10×1 está sombreado para representar el número decimal que, cuando se añade a 0.3 da como resultado un total de 1.00?

2. **C**3. **A**4. **D**5. **C**6. **D**

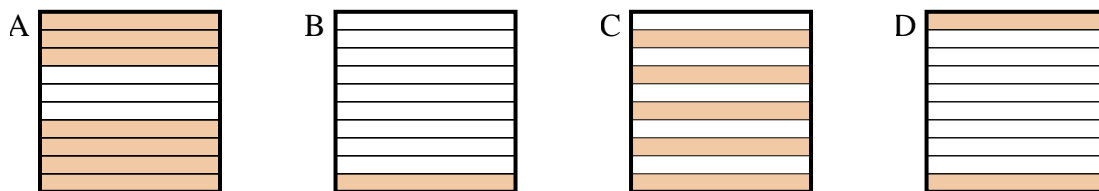
- 3) ¿Qué cuadrícula de 10×1 está sombreado para representar el número decimal que, cuando se añade a 0.6 da como resultado un total de 1.00?



- 4) ¿Qué cuadrícula de 10×1 está sombreado para representar el número decimal que, cuando se añade a 0.9 da como resultado un total de 1.00?



- 5) ¿Qué cuadrícula de 10×1 está sombreado para representar el número decimal que, cuando se añade a 0.5 da como resultado un total de 1.00?



- 6) ¿Qué cuadrícula de 10×10 está sombreado para representar el número decimal que, cuando se añade a 0.18 da como resultado un total de 1.00?

