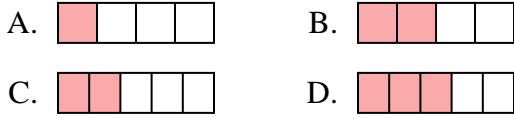




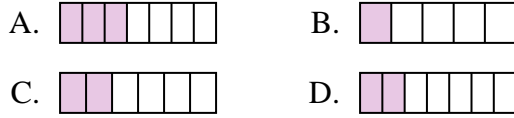
Determina cuál opción mejor responde a cada pregunta.

Respuestas

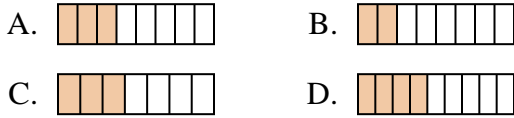
1) ¿Cuál de las figuras de abajo está sombreada para representar  $\frac{2}{4}$ ?



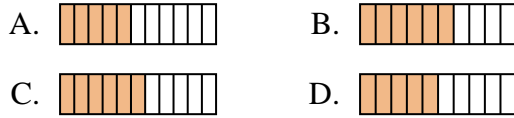
2) ¿Cuál de las figuras de abajo está sombreada para representar  $\frac{2}{6}$ ?



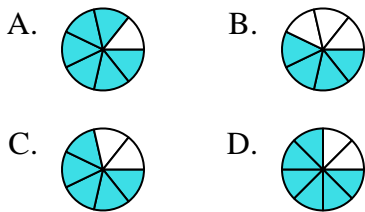
3) ¿Cuál de las figuras de abajo está sombreada para representar  $\frac{3}{8}$ ?



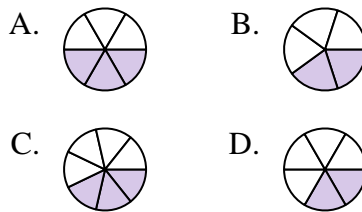
4) ¿Cuál de las figuras de abajo está sombreada para representar  $\frac{5}{10}$ ?



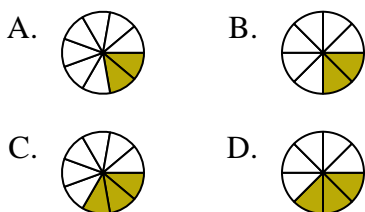
5) ¿Cuál de las figuras de abajo está sombreada para representar  $\frac{5}{7}$ ?



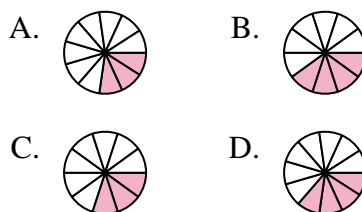
6) ¿Cuál de las figuras de abajo está sombreada para representar  $\frac{3}{6}$ ?



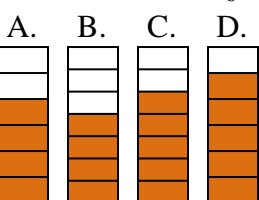
7) ¿Cuál de las figuras de abajo está sombreada para representar  $\frac{2}{8}$ ?



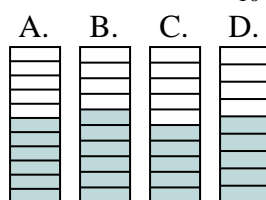
8) ¿Cuál de las figuras de abajo está sombreada para representar  $\frac{3}{10}$ ?



9) ¿Cuál de las figuras de abajo está sombreada para representar  $\frac{4}{6}$ ?



10) ¿Cuál de las figuras de abajo está sombreada para representar  $\frac{6}{10}$ ?



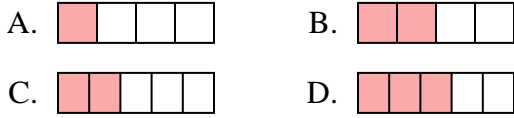
1. \_\_\_\_\_
2. \_\_\_\_\_
3. \_\_\_\_\_
4. \_\_\_\_\_
5. \_\_\_\_\_
6. \_\_\_\_\_
7. \_\_\_\_\_
8. \_\_\_\_\_
9. \_\_\_\_\_
10. \_\_\_\_\_



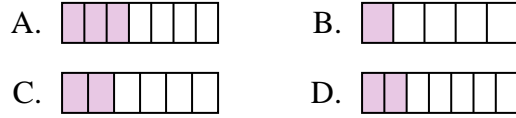
Determina cuál opción mejor responde a cada pregunta.

**Respuestas**

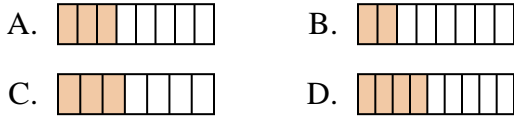
1) ¿Cuál de las figuras de abajo está sombreada para representar  $\frac{2}{4}$ ?



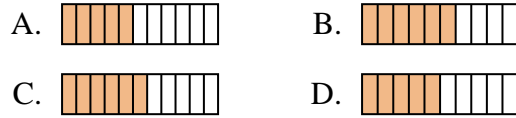
2) ¿Cuál de las figuras de abajo está sombreada para representar  $\frac{2}{6}$ ?



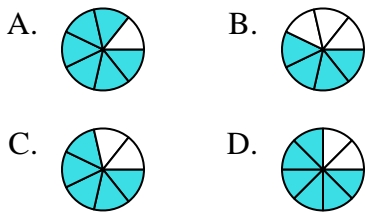
3) ¿Cuál de las figuras de abajo está sombreada para representar  $\frac{3}{8}$ ?



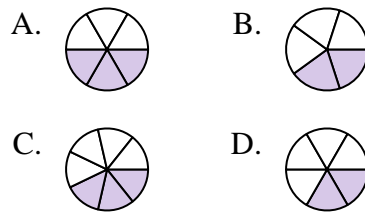
4) ¿Cuál de las figuras de abajo está sombreada para representar  $\frac{5}{10}$ ?



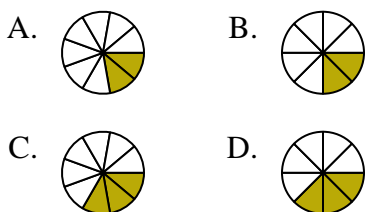
5) ¿Cuál de las figuras de abajo está sombreada para representar  $\frac{5}{7}$ ?



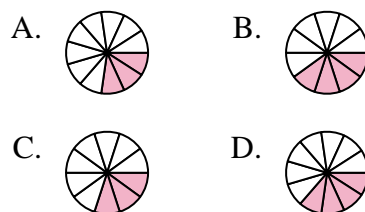
6) ¿Cuál de las figuras de abajo está sombreada para representar  $\frac{3}{6}$ ?



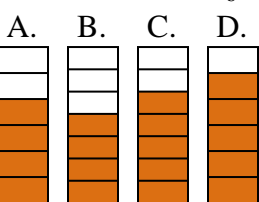
7) ¿Cuál de las figuras de abajo está sombreada para representar  $\frac{2}{8}$ ?



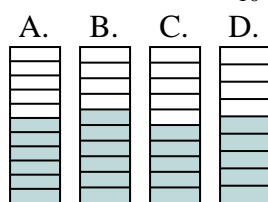
8) ¿Cuál de las figuras de abajo está sombreada para representar  $\frac{3}{10}$ ?



9) ¿Cuál de las figuras de abajo está sombreada para representar  $\frac{4}{6}$ ?



10) ¿Cuál de las figuras de abajo está sombreada para representar  $\frac{6}{10}$ ?



1.     **B**
2.     **C**
3.     **A**
4.     **D**
5.     **C**
6.     **A**
7.     **B**
8.     **C**
9.     **A**
10.     **B**