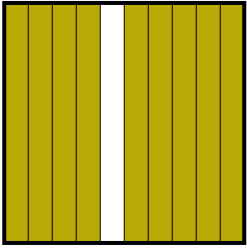




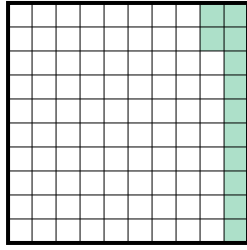
Determina el valor escrito como fracción, decimal y porcentaje.

Ej)



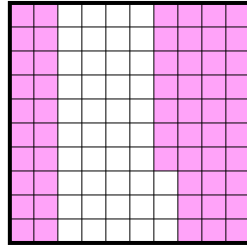
fracción $\frac{9}{10}$
decimal 0.9
porcentaje 90

1)



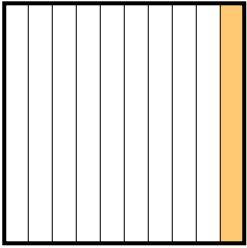
fracción _____
decimal _____
porcentaje _____

2)



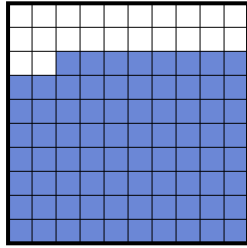
fracción _____
decimal _____
porcentaje _____

3)



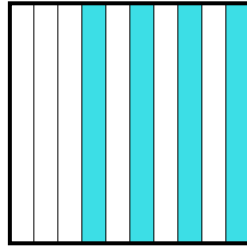
fracción _____
decimal _____
porcentaje _____

4)



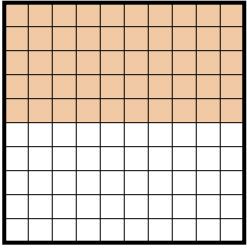
fracción _____
decimal _____
porcentaje _____

5)



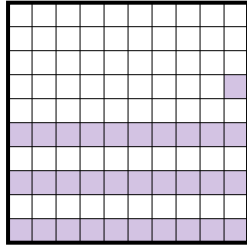
fracción _____
decimal _____
porcentaje _____

6)



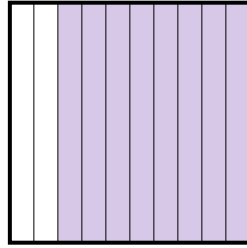
fracción _____
decimal _____
porcentaje _____

7)



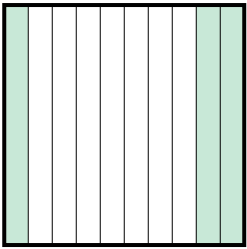
fracción _____
decimal _____
porcentaje _____

8)



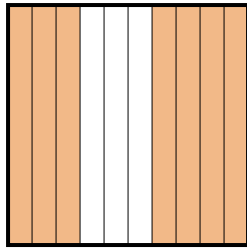
fracción _____
decimal _____
porcentaje _____

9)



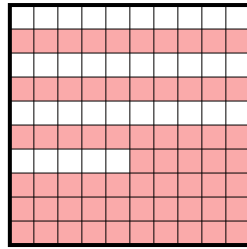
fracción _____
decimal _____
porcentaje _____

10)



fracción _____
decimal _____
porcentaje _____

11)



fracción _____
decimal _____
porcentaje _____

Respuestas

Ej. $\frac{9}{10}$ 0.9 90%

1. _____

2. _____

3. _____

4. _____

5. _____

6. _____

7. _____

8. _____

9. _____

10. _____

11. _____

