

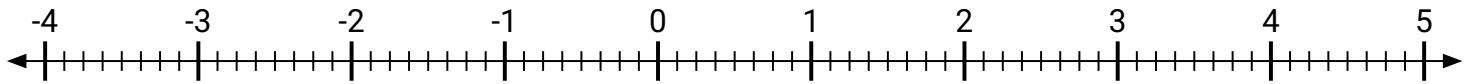


Marca cada ubicación descrita.

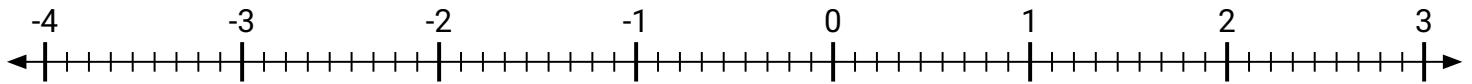
- 1) Marca la ubicación de  $-3\frac{4}{5}$



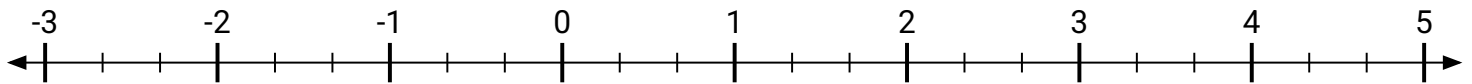
- 2) Marca la ubicación de  $-3\frac{7}{8}$



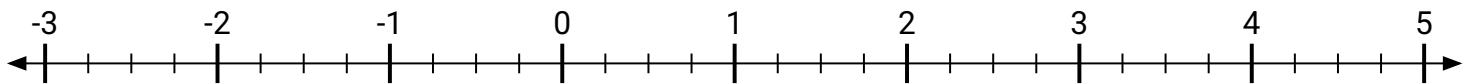
- 3) Marca la ubicación de  $-1\frac{5}{9}$



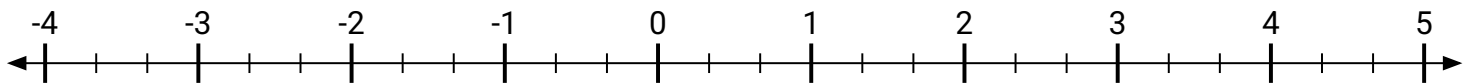
- 4) Marca la ubicación de  $3\frac{2}{3}$



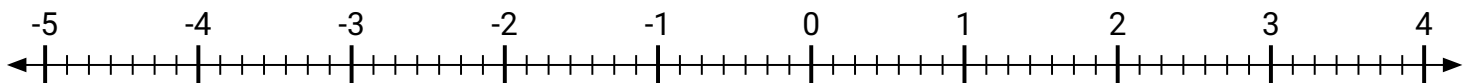
- 5) Marca la ubicación de  $4\frac{2}{4}$



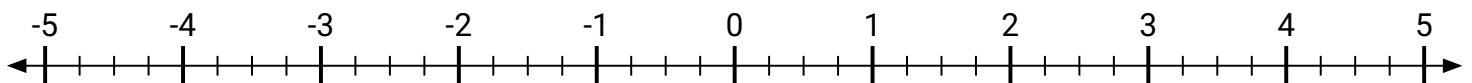
- 6) Marca la ubicación de  $3\frac{2}{3}$



- 7) Marca la ubicación de  $1\frac{2}{7}$



- 8) Marca la ubicación de  $1\frac{3}{4}$

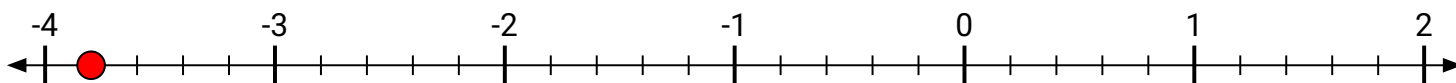


- 9) Marca la ubicación de  $4\frac{1}{2}$

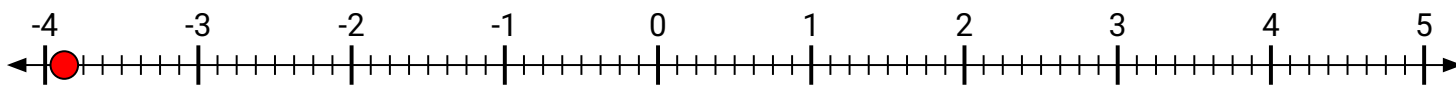


**Marca cada ubicación descrita.**

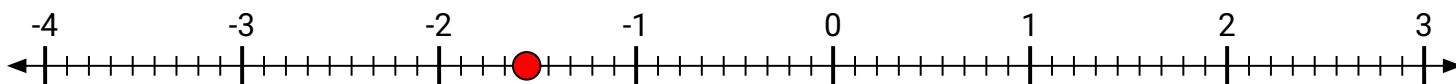
- 1) Marca la ubicación de
- $-3\frac{4}{5}$



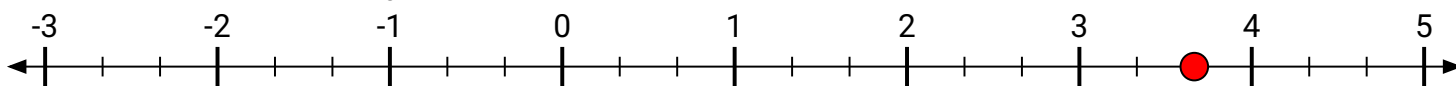
- 2) Marca la ubicación de
- $-3\frac{7}{8}$



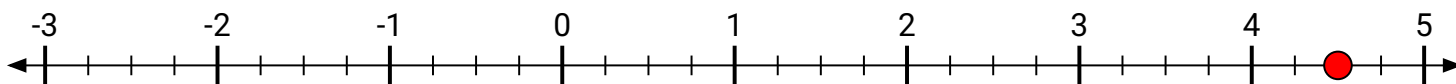
- 3) Marca la ubicación de
- $-1\frac{5}{9}$



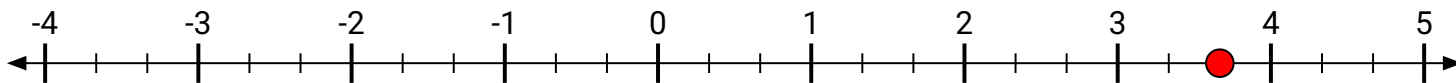
- 4) Marca la ubicación de
- $3\frac{2}{3}$



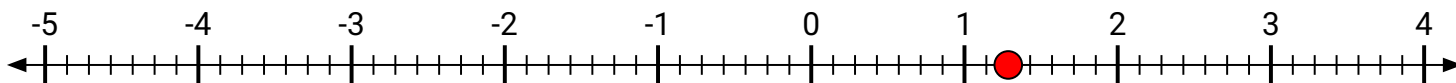
- 5) Marca la ubicación de
- $4\frac{2}{4}$



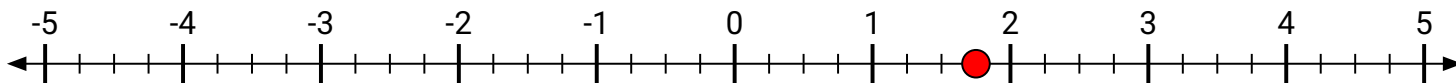
- 6) Marca la ubicación de
- $3\frac{2}{3}$



- 7) Marca la ubicación de
- $1\frac{2}{7}$



- 8) Marca la ubicación de
- $1\frac{3}{4}$



- 9) Marca la ubicación de
- $4\frac{1}{2}$

