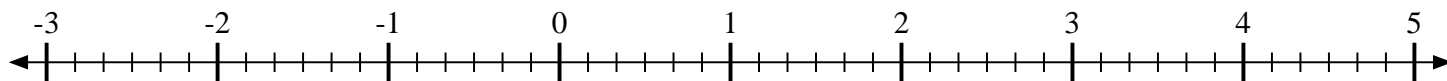
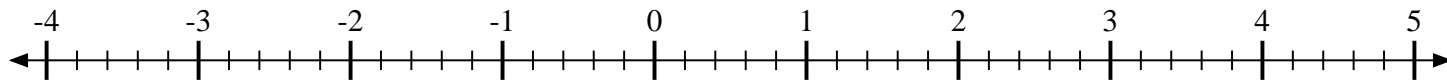


**Marca cada ubicación descrita.**

- 1) Marque la ubicación de
- $1\frac{5}{6}$



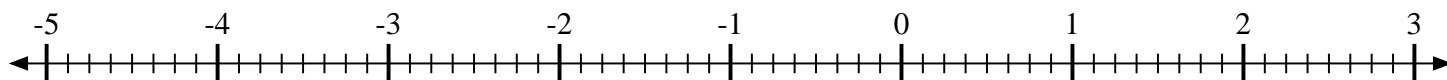
- 2) Marque la ubicación de
- $4\frac{2}{5}$



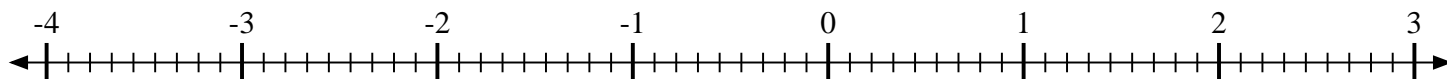
- 3) Marque la ubicación de
- $-3\frac{1}{3}$



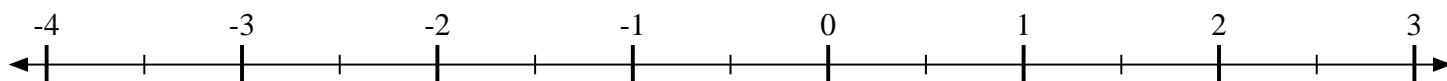
- 4) Marque la ubicación de
- $\frac{3}{8}$



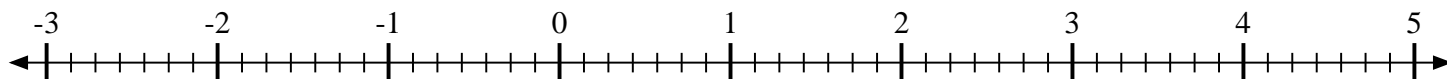
- 5) Marque la ubicación de
- $-1\frac{4}{9}$



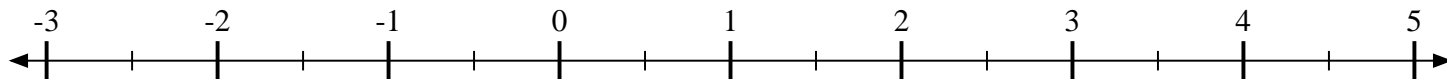
- 6) Marque la ubicación de
- $-1\frac{1}{2}$



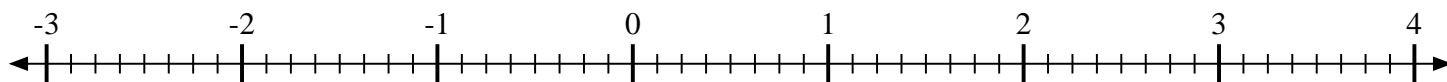
- 7) Marque la ubicación de
- $-2\frac{6}{7}$



- 8) Marque la ubicación de
- $4\frac{1}{2}$



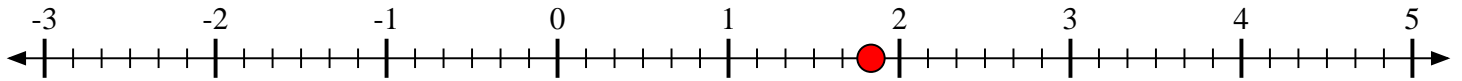
- 9) Marque la ubicación de
- $-1\frac{3}{8}$



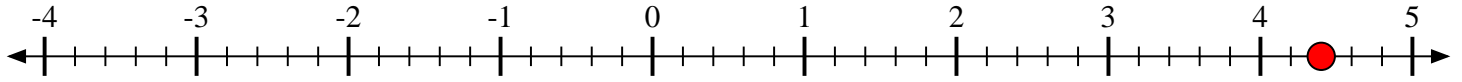


Marca cada ubicación descrita.

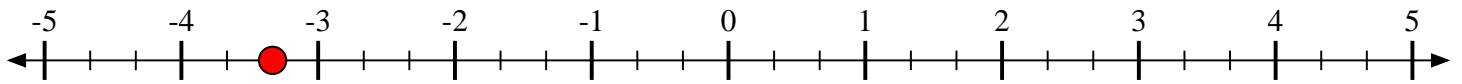
- 1) Marque la ubicación de  $1\frac{5}{6}$



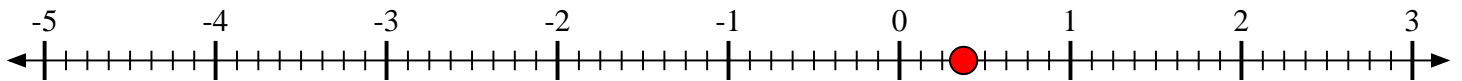
- 2) Marque la ubicación de  $4\frac{2}{5}$



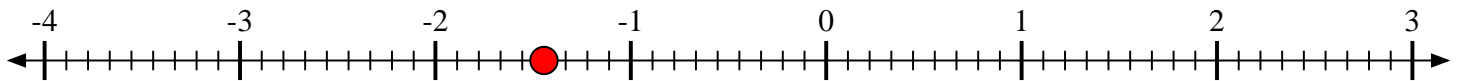
- 3) Marque la ubicación de  $-3\frac{1}{3}$



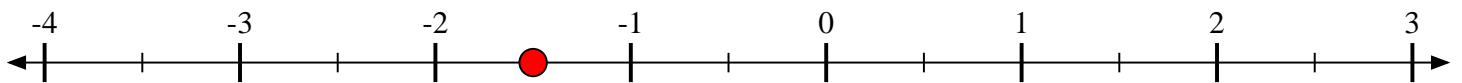
- 4) Marque la ubicación de  $\frac{3}{8}$



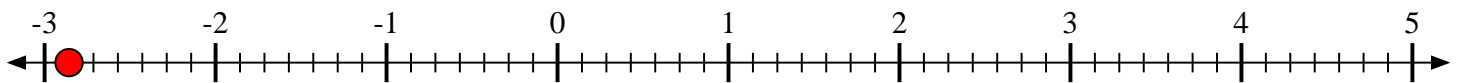
- 5) Marque la ubicación de  $-1\frac{4}{9}$



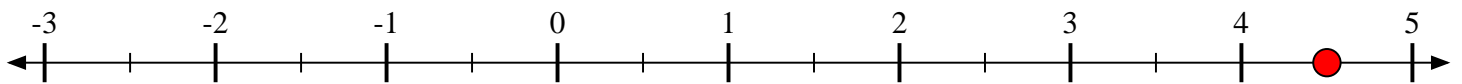
- 6) Marque la ubicación de  $-1\frac{1}{2}$



- 7) Marque la ubicación de  $-2\frac{6}{7}$



- 8) Marque la ubicación de  $4\frac{1}{2}$



- 9) Marque la ubicación de  $-1\frac{3}{8}$

