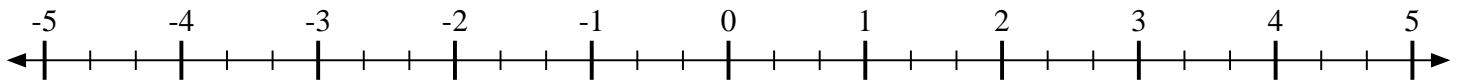


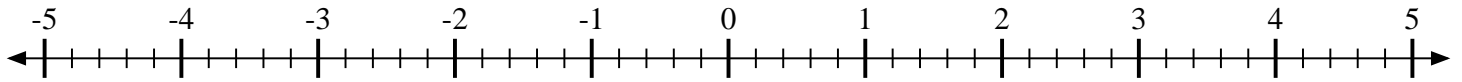


Marca cada ubicación descrita.

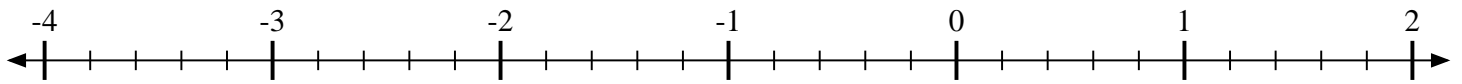
1) Marque la ubicación de $-4\frac{1}{3}$



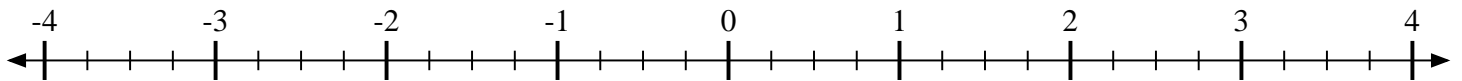
2) Marque la ubicación de $-4\frac{1}{5}$



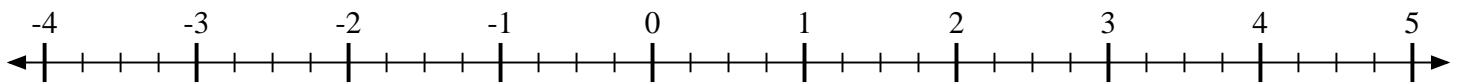
3) Marque la ubicación de $1\frac{3}{5}$



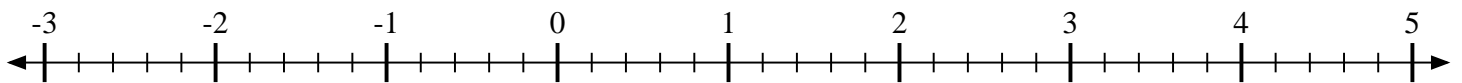
4) Marque la ubicación de $3\frac{1}{4}$



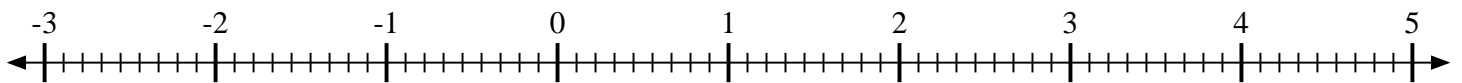
5) Marque la ubicación de $-1\frac{1}{4}$



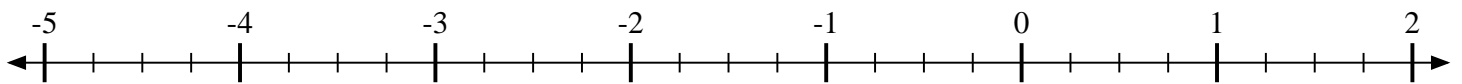
6) Marque la ubicación de $\frac{4}{5}$



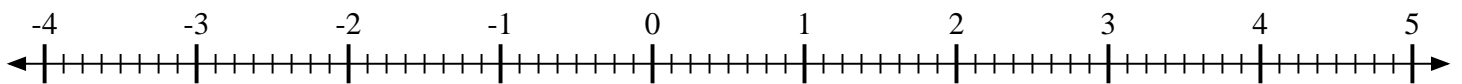
7) Marque la ubicación de $1\frac{7}{9}$



8) Marque la ubicación de $-1\frac{3}{4}$



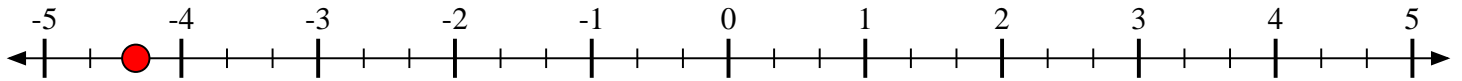
9) Marque la ubicación de $-2\frac{5}{8}$



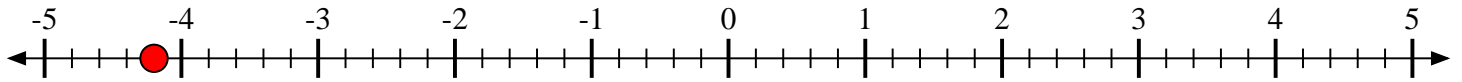


Marca cada ubicación descrita.

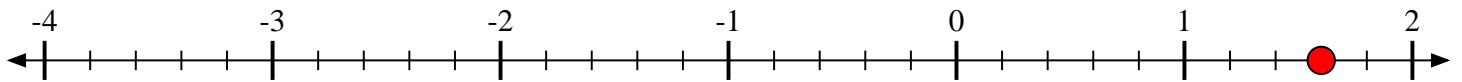
1) Marque la ubicación de $-4\frac{1}{3}$



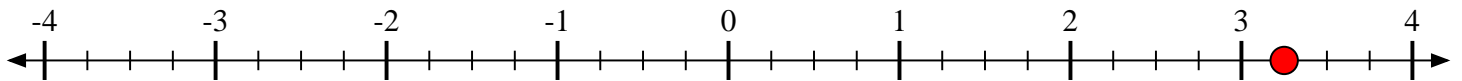
2) Marque la ubicación de $-4\frac{1}{5}$



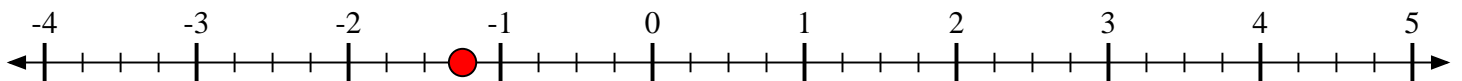
3) Marque la ubicación de $1\frac{3}{5}$



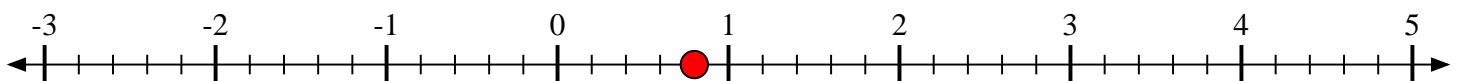
4) Marque la ubicación de $3\frac{1}{4}$



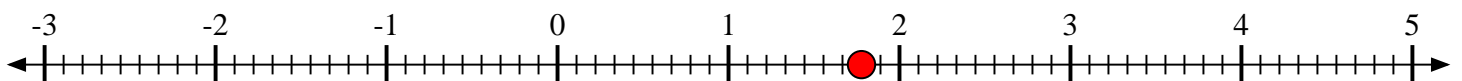
5) Marque la ubicación de $-1\frac{1}{4}$



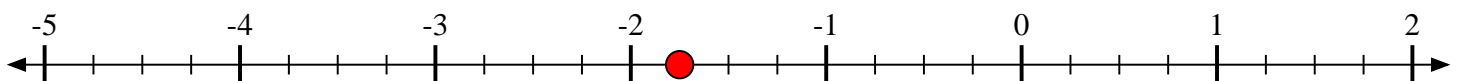
6) Marque la ubicación de $\frac{4}{5}$



7) Marque la ubicación de $1\frac{7}{9}$



8) Marque la ubicación de $-1\frac{3}{4}$



9) Marque la ubicación de $-2\frac{5}{8}$

