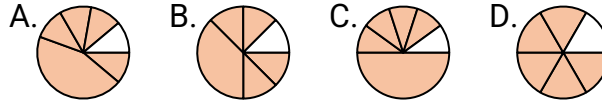
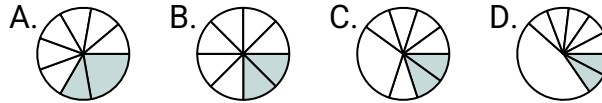


**Determina cuál letra mejor representa a cada fracción****Respuestas**

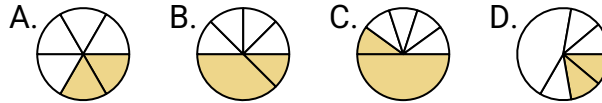
1) ¿Que opción representa mejor $\frac{5}{6}$?



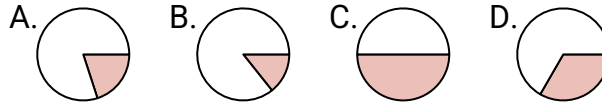
2) ¿Que opción representa mejor $\frac{2}{8}$?



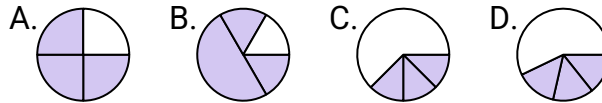
3) ¿Que opción representa mejor $\frac{2}{6}$?



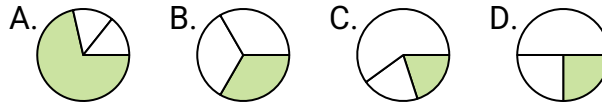
4) ¿Que opción representa mejor $\frac{1}{2}$?



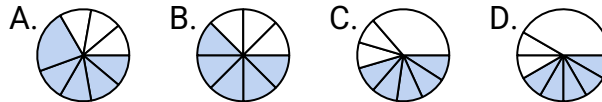
5) ¿Que opción representa mejor $\frac{3}{4}$?



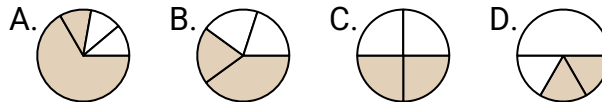
6) ¿Que opción representa mejor $\frac{1}{3}$?



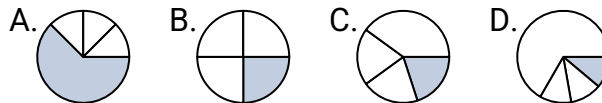
7) ¿Que opción representa mejor $\frac{5}{8}$?



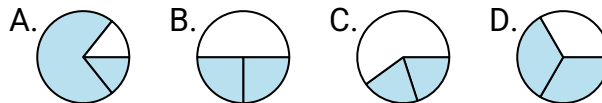
8) ¿Que opción representa mejor $\frac{2}{4}$?



9) ¿Que opción representa mejor $\frac{1}{4}$?



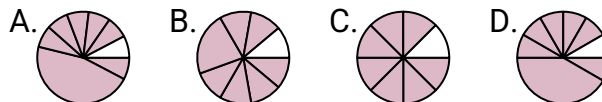
10) ¿Que opción representa mejor $\frac{2}{3}$?



11) ¿Que opción representa mejor $\frac{4}{6}$?



12) ¿Que opción representa mejor $\frac{7}{8}$?



1. _____

2. _____

3. _____

4. _____

5. _____

6. _____

7. _____

8. _____

9. _____

10. _____




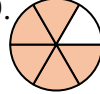











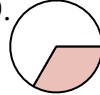



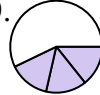



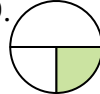







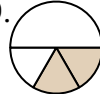



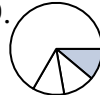



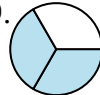







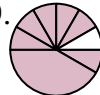
11. _____

12. _____



Determina cuál letra mejor representa a cada fracción

Respuestas

- 1) ¿Que opción representa mejor $\frac{5}{6}$?
A.  B.  C.  D. 
- 2) ¿Que opción representa mejor $\frac{2}{8}$?
A.  B.  C.  D. 
- 3) ¿Que opción representa mejor $\frac{2}{6}$?
A.  B.  C.  D. 
- 4) ¿Que opción representa mejor $\frac{1}{2}$?
A.  B.  C.  D. 
- 5) ¿Que opción representa mejor $\frac{3}{4}$?
A.  B.  C.  D. 
- 6) ¿Que opción representa mejor $\frac{1}{3}$?
A.  B.  C.  D. 
- 7) ¿Que opción representa mejor $\frac{5}{8}$?
A.  B.  C.  D. 
- 8) ¿Que opción representa mejor $\frac{2}{4}$?
A.  B.  C.  D. 
- 9) ¿Que opción representa mejor $\frac{1}{4}$?
A.  B.  C.  D. 
- 10) ¿Que opción representa mejor $\frac{2}{3}$?
A.  B.  C.  D. 
- 11) ¿Que opción representa mejor $\frac{4}{6}$?
A.  B.  C.  D. 
- 12) ¿Que opción representa mejor $\frac{7}{8}$?
A.  B.  C.  D. 

1. **D**
2. **B**
3. **A**
4. **C**
5. **A**
6. **B**
7. **B**
8. **C**
9. **B**
10. **D**
11. **A**
12. **C**