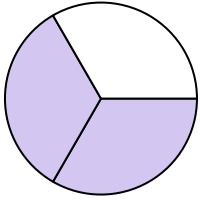



**Determina cuál letra mejor describe a la porción sombreada.****Respuestas**

1)



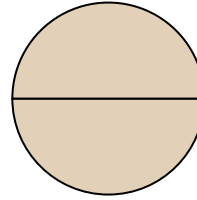
- A. un cuarto
B. dos tercios
C. una mitad

2)




- A. tres tercios
B. cuatro cuartos
C. una mitad

3)



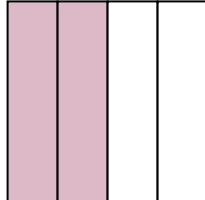
- A. dos mitades
B. un cuarto
C. una mitad

4)



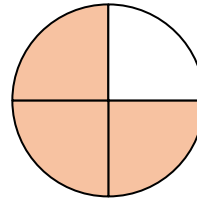
- A. tres cuartos
B. dos mitades
C. una mitad

5)




- A. tres cuartos
B. dos cuartos
C. un cuarto

6)



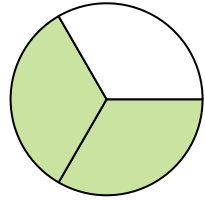
- A. tres cuartos
B. un cuarto
C. tres cuartos

7)



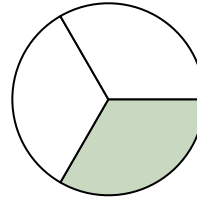
- A. dos mitades
B. una mitad
C. un cuarto

8)



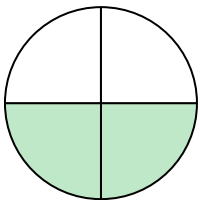
- A. tres cuartos
B. una mitad
C. dos tercios

9)



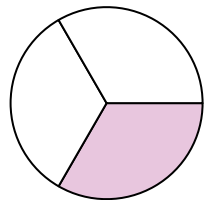
- A. un tercio
B. tres cuartos
C. dos cuartos

10)



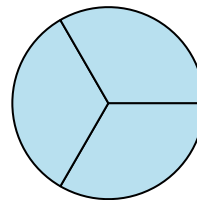
- A. dos cuartos
B. un cuarto
C. tres cuartos

11)



- A. un tercio
B. un cuarto
C. una mitad

12)



- A. tres cuartos
B. un cuarto
C. tres tercios

1. _____

2. _____

3. _____

4. _____

5. _____

6. _____

7. _____

8. _____

9. _____

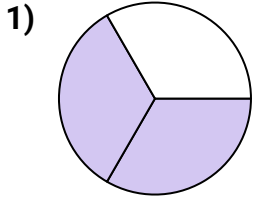
10. _____

11. _____

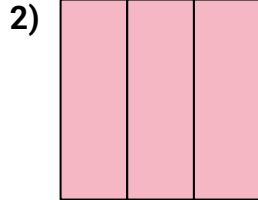
12. _____



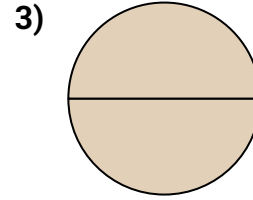
Determina cuál letra mejor describe a la porción sombreada.

Respuestas


- A. un cuarto
B. dos tercios
C. una mitad



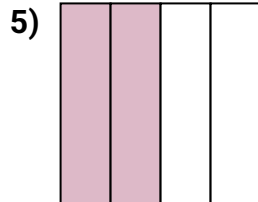
- A. tres tercios
B. cuatro cuartos
C. una mitad



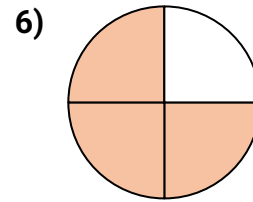
- A. dos mitades
B. un cuarto
C. una mitad




- A. tres cuartos
B. dos mitades
C. una mitad



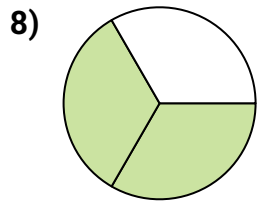
- A. tres cuartos
B. dos cuartos
C. un cuarto



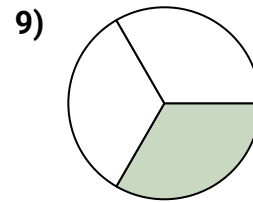
- A. tres cuartos
B. un cuarto
C. tres cuartos



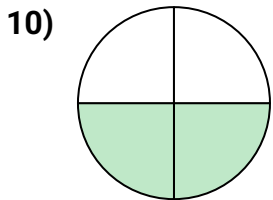
- A. dos mitades
B. una mitad
C. un cuarto



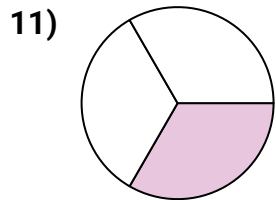
- A. tres cuartos
B. una mitad
C. dos tercios



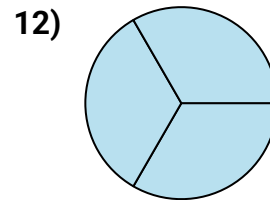
- A. un tercio
B. tres cuartos
C. dos cuartos



- A. dos cuartos
B. un cuarto
C. tres cuartos



- A. un tercio
B. un cuarto
C. una mitad



- A. tres cuartos
B. un cuarto
C. tres tercios

1. **B**
2. **A**
3. **A**
4. **C**
5. **B**
6. **A**
7. **B**
8. **C**
9. **A**
10. **A**
11. **A**
12. **C**