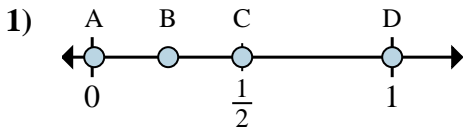




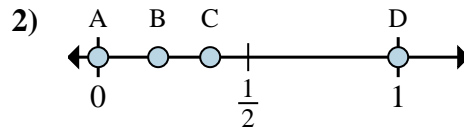
**Determina cuál letra mejor muestra la ubicación de la fracción.**

**Respuestas**



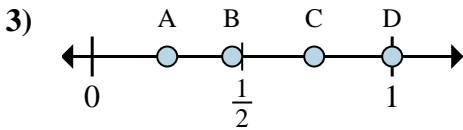
a. ¿Qué letra representa mejor  $\frac{6}{6}$

b. ¿Qué letra representa mejor  $\frac{3}{6}$



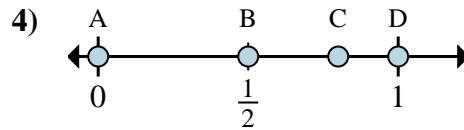
a. ¿Qué letra representa mejor  $\frac{0}{2}$

b. ¿Qué letra representa mejor  $\frac{2}{2}$



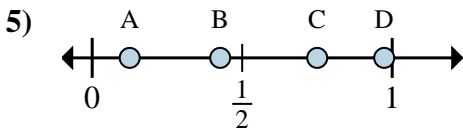
a. ¿Qué letra representa mejor  $\frac{1}{4}$

b. ¿Qué letra representa mejor  $\frac{4}{4}$



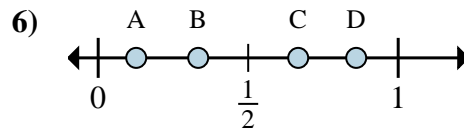
a. ¿Qué letra representa mejor  $\frac{0}{3}$

b. ¿Qué letra representa mejor  $\frac{3}{3}$



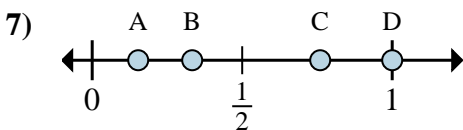
a. ¿Qué letra representa mejor  $\frac{1}{8}$

b. ¿Qué letra representa mejor  $\frac{6}{8}$



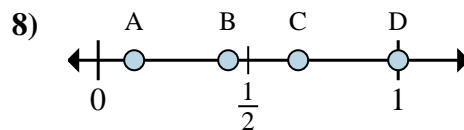
a. ¿Qué letra representa mejor  $\frac{2}{3}$

b. ¿Qué letra representa mejor  $\frac{1}{3}$



a. ¿Qué letra representa mejor  $\frac{1}{3}$

b. ¿Qué letra representa mejor  $\frac{3}{3}$



a. ¿Qué letra representa mejor  $\frac{3}{3}$

b. ¿Qué letra representa mejor  $\frac{2}{3}$

1. \_\_\_\_\_

2. \_\_\_\_\_

3. \_\_\_\_\_

4. \_\_\_\_\_

5. \_\_\_\_\_

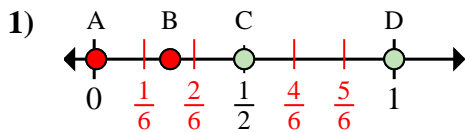
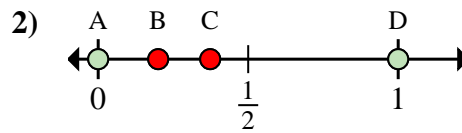
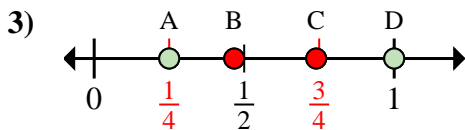
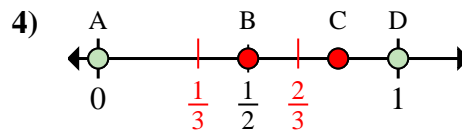
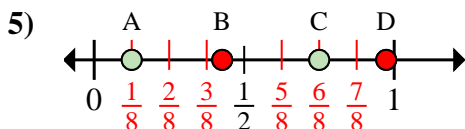
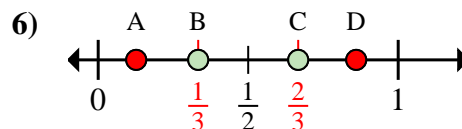
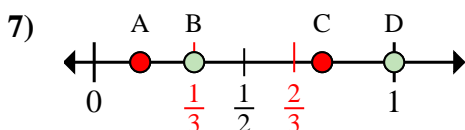
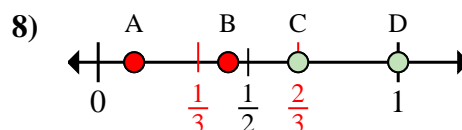
6. \_\_\_\_\_

7. \_\_\_\_\_

8. \_\_\_\_\_



Determina cuál letra mejor muestra la ubicación de la fracción.

**Respuestas**a. ¿Qué letra representa mejor  $\frac{6}{6}$ b. ¿Qué letra representa mejor  $\frac{3}{6}$ a. ¿Qué letra representa mejor  $\frac{0}{2}$ b. ¿Qué letra representa mejor  $\frac{2}{2}$ a. ¿Qué letra representa mejor  $\frac{1}{4}$ b. ¿Qué letra representa mejor  $\frac{4}{4}$ a. ¿Qué letra representa mejor  $\frac{0}{3}$ b. ¿Qué letra representa mejor  $\frac{3}{3}$ a. ¿Qué letra representa mejor  $\frac{1}{8}$ b. ¿Qué letra representa mejor  $\frac{6}{8}$ a. ¿Qué letra representa mejor  $\frac{2}{3}$ b. ¿Qué letra representa mejor  $\frac{1}{3}$ a. ¿Qué letra representa mejor  $\frac{1}{3}$ b. ¿Qué letra representa mejor  $\frac{3}{3}$ a. ¿Qué letra representa mejor  $\frac{3}{3}$ b. ¿Qué letra representa mejor  $\frac{2}{3}$ 1. D C2. A D3. A D4. A D5. A C6. C B7. B D8. D C