



**Resuelve cada problema.**


- 1) Divide en 3 partes iguales y etiqueta cada partición.




- 2) Divide en 4 partes iguales y etiqueta cada partición.




- 3) Divide en 6 partes iguales y etiqueta cada partición.



- 4) Divide en 8 partes iguales y etiqueta cada partición.

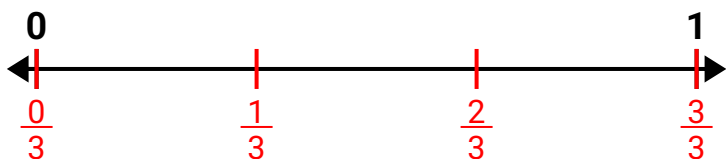


- 5) Divide en 2 partes iguales y etiqueta cada partición.

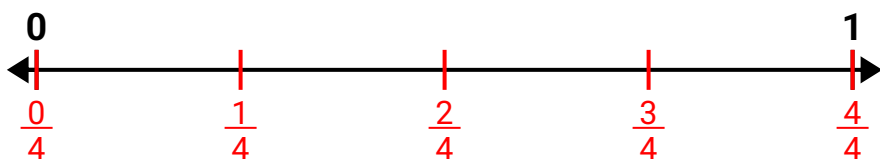


**Resuelve cada problema.**

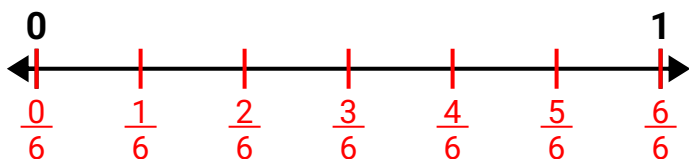
- 1) Divide en 3 partes iguales y etiqueta cada partición.



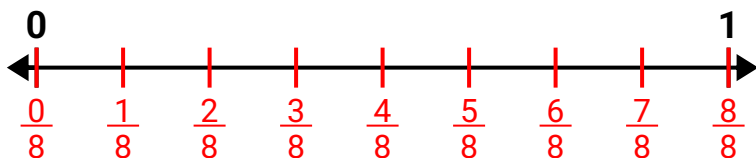
- 2) Divide en 4 partes iguales y etiqueta cada partición.



- 3) Divide en 6 partes iguales y etiqueta cada partición.



- 4) Divide en 8 partes iguales y etiqueta cada partición.



- 5) Divide en 2 partes iguales y etiqueta cada partición.

