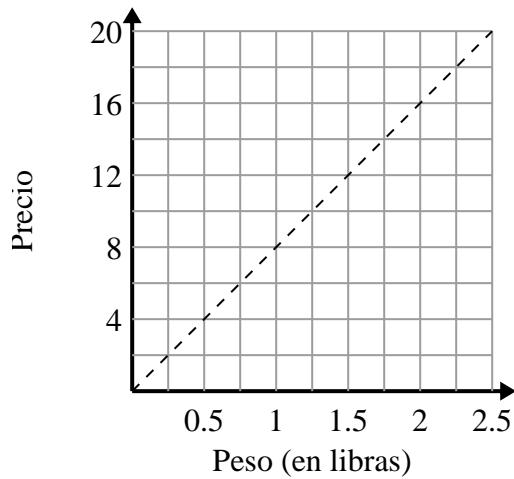




Determina qué afirmaciones sobre la gráfica son verdaderas.

### Respuestas

1)



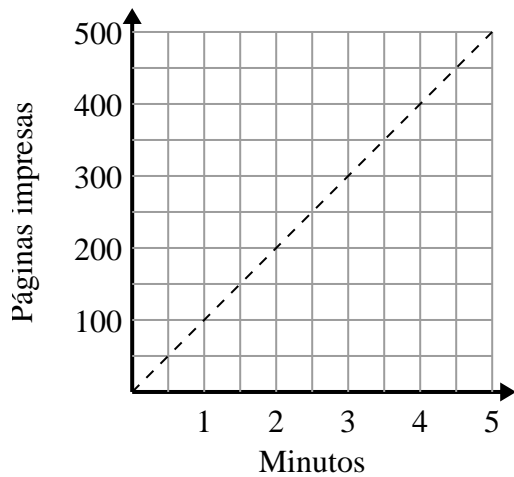
- A. El punto  $(0.75, 6)$  muestra que 0.75 libras costarán \$ 6.
- B. El punto  $(0.25, 2)$  muestra que costaría \$2 por 0.25 libra.
- C. El punto  $(6, 0.75)$  muestra que costaría \$6 por 0.75 libras.
- D. El punto  $(12, 1.5)$  muestra que costaría \$12 por 1.5 libras.

1. \_\_\_\_\_

2. \_\_\_\_\_

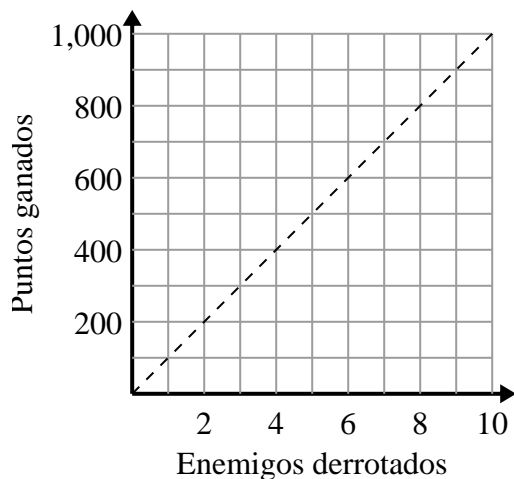
3. \_\_\_\_\_

2)



- A. El punto  $(150, 1.5)$  muestra que se necesitan 1.5 minutos para imprimir 150 páginas.
- B. El punto  $(450, 4.5)$  muestra que imprimir 450 páginas tomará 4.5 minutos.
- C. El punto  $(1, 100)$  muestra que imprimir 100 páginas tomará 1 minutos.
- D. El punto  $(1.5, 150)$  muestra que imprimir 150 páginas tomará 1.5 minutos.

3)



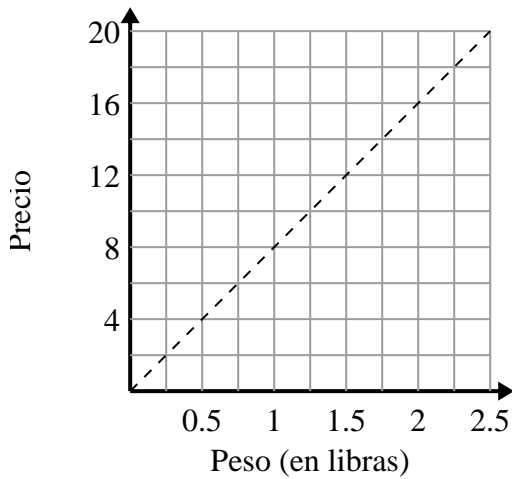
- A. El punto  $(600, 6)$  muestra que derrotar a 6 enemigos te hará ganar 600 puntos.
- B. El punto  $(6, 600)$  muestra que ganarías 600 puntos por derrotar a 6 enemigos.
- C. El punto  $(500, 5)$  muestra que ganarías 500 puntos por derrotar a 5 enemigos.
- D. El punto  $(9, 900)$  muestra que derrotar a 9 enemigos te hará ganar 900 puntos.



Determina qué afirmaciones sobre la gráfica son verdaderas.

**Respuestas**

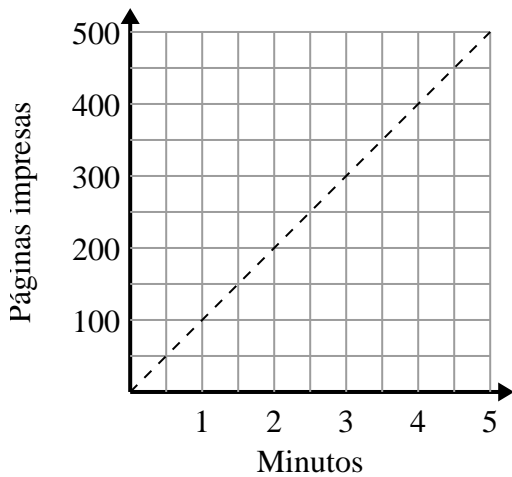
1)



- A. El punto  $(0.75, 6)$  muestra que 0.75 libras costarán \$ 6.
- B. El punto  $(0.25, 2)$  muestra que costaría \$2 por 0.25 libra.
- C. El punto  $(6, 0.75)$  muestra que costaría \$6 por 0.75 libras.
- D. El punto  $(12, 1.5)$  muestra que costaría \$12 por 1.5 libras.

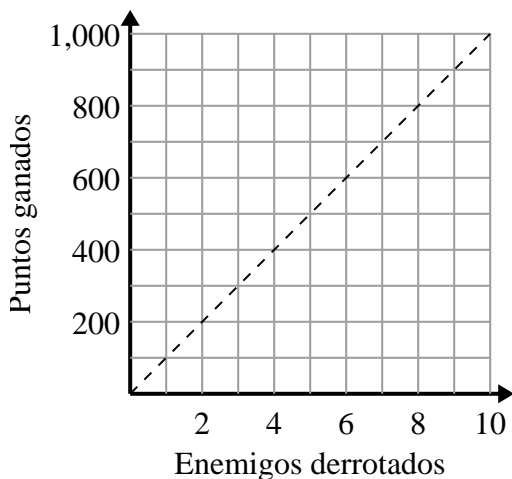
1. **A,B**2. **C,D**3. **B,D**

2)



- A. El punto  $(150, 1.5)$  muestra que se necesitan 1.5 minutos para imprimir 150 páginas.
- B. El punto  $(450, 4.5)$  muestra que imprimir 450 páginas tomará 4.5 minutos.
- C. El punto  $(1, 100)$  muestra que imprimir 100 páginas tomará 1 minutos.
- D. El punto  $(1.5, 150)$  muestra que imprimir 150 páginas tomará 1.5 minutos.

3)



- A. El punto  $(600, 6)$  muestra que derrotar a 6 enemigos te hará ganar 600 puntos.
- B. El punto  $(6, 600)$  muestra que ganarías 600 puntos por derrotar a 6 enemigos.
- C. El punto  $(500, 5)$  muestra que ganarías 500 puntos por derrotar a 5 enemigos.
- D. El punto  $(9, 900)$  muestra que derrotar a 9 enemigos te hará ganar 900 puntos.