




Mida cada una de las barras (en 1/4 de pulgada) y luego genere una gráficas de líneas basado en la información.

Respuestas



1. _____



2. _____



3. _____



4. _____



5. _____



6. _____



7. _____




8. _____



9. _____



10. _____



11. _____




12. _____



13. _____


















14. _____



15. _____



Mida cada una de las barras (en 1/4 de pulgada) y luego genere una gráficas de líneas basado en la información.

- 1)  $1\frac{2}{4}$
- 2)  $2\frac{1}{4}$
- 3)  $2\frac{1}{4}$
- 4)  $2\frac{0}{4}$
- 5)  $2\frac{2}{4}$
- 6)  $1\frac{0}{4}$
- 7)  $2\frac{1}{4}$
- 8)  $1\frac{1}{4}$
- 9)  $1\frac{1}{4}$
- 10)  $1\frac{3}{4}$
- 11)  $1\frac{0}{4}$
- 12)  $1\frac{1}{4}$
- 13)  $1\frac{1}{4}$
- 14)  $1\frac{1}{4}$
- 15)  $1\frac{2}{4}$

Respuestas

1. $1\frac{2}{4}$
2. $2\frac{1}{4}$
3. $2\frac{1}{4}$
4. $2\frac{0}{4}$
5. $2\frac{2}{4}$
6. $1\frac{0}{4}$
7. $2\frac{1}{4}$
8. $1\frac{1}{4}$
9. $1\frac{1}{4}$
10. $1\frac{3}{4}$
11. $1\frac{0}{4}$
12. $1\frac{1}{4}$
13. $1\frac{1}{4}$
14. $1\frac{1}{4}$
15. $1\frac{2}{4}$