




Resuelve cada problema.


Respuestas

1) ¿Qué letra representa mejor -98




1. _____

2) ¿Qué letra representa mejor -39




2. _____

3) ¿Qué letra representa mejor -20



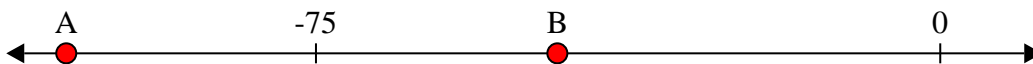
3. _____

4) ¿Qué letra representa mejor -11



4. _____

5) ¿Qué letra representa mejor -105



5. _____

6) ¿Qué letra representa mejor -106




6. _____

7) ¿Qué letra representa mejor -12




7. _____

8) ¿Qué letra representa mejor -111




8. _____

9) ¿Qué letra representa mejor -12



9. _____

10) ¿Qué letra representa mejor -28



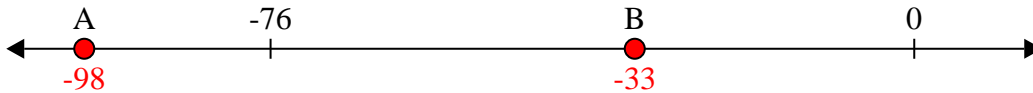
10. _____



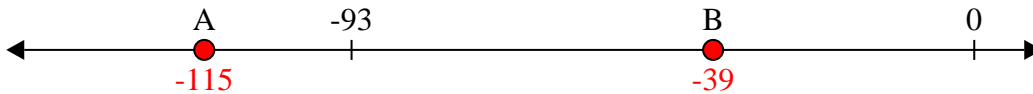
Resuelve cada problema.

Respuestas

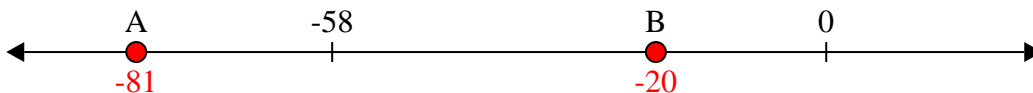
1) ¿Qué letra representa mejor -98

1. **A**

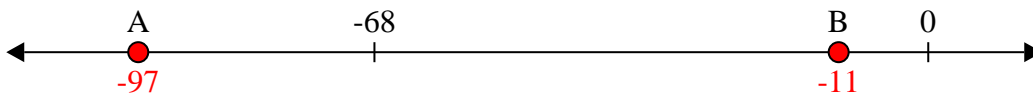
2) ¿Qué letra representa mejor -39

2. **B**

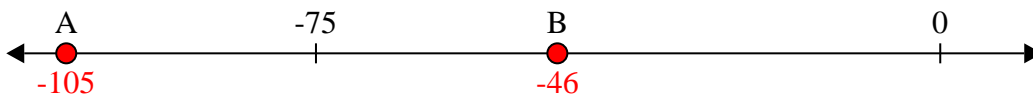
3) ¿Qué letra representa mejor -20

3. **B**

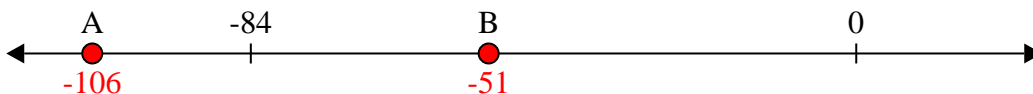
4) ¿Qué letra representa mejor -11

4. **B**


5) ¿Qué letra representa mejor -105

5. **A**


6) ¿Qué letra representa mejor -106

6. **A**


7) ¿Qué letra representa mejor -12

7. **B**


8) ¿Qué letra representa mejor -111

8. **A**

9) ¿Qué letra representa mejor -12

9. **B**

10) ¿Qué letra representa mejor -28

10. **B**