




Resuelve cada problema.


Respuestas

1) ¿Qué letra representa mejor -128




1. _____

2) ¿Qué letra representa mejor -114



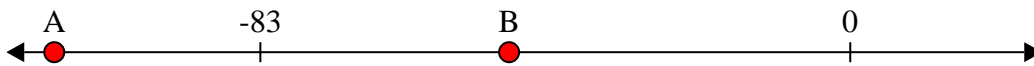
2. _____

3) ¿Qué letra representa mejor -76



3. _____

4) ¿Qué letra representa mejor -48



4. _____

5) ¿Qué letra representa mejor -47



5. _____

6) ¿Qué letra representa mejor -115



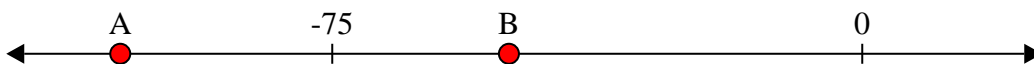
6. _____

7) ¿Qué letra representa mejor -115




7. _____

8) ¿Qué letra representa mejor -105




8. _____

9) ¿Qué letra representa mejor -10



9. _____

10) ¿Qué letra representa mejor -82




10. _____



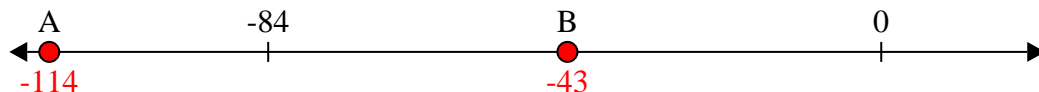
Resuelve cada problema.

Respuestas

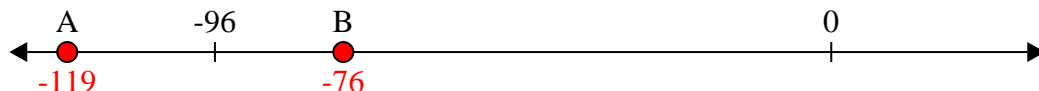
1) ¿Qué letra representa mejor -128

1. **A**

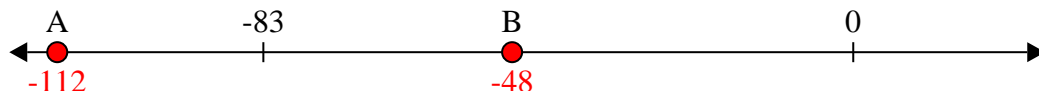
2) ¿Qué letra representa mejor -114

2. **A**

3) ¿Qué letra representa mejor -76

3. **B**


4) ¿Qué letra representa mejor -48

4. **B**


5) ¿Qué letra representa mejor -47

5. **B**

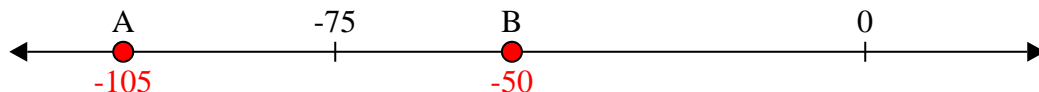
6) ¿Qué letra representa mejor -115

6. **A**

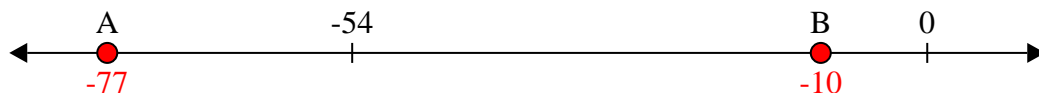
7) ¿Qué letra representa mejor -115

7. **A**


8) ¿Qué letra representa mejor -105

8. **A**

9) ¿Qué letra representa mejor -10

9. **B**

10) ¿Qué letra representa mejor -82

10. **A**