



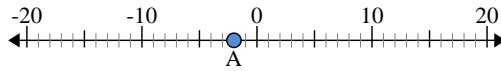
Usar las rectas numéricas para encontrar el valor absoluto.

1) a. ¿Cuál es el valor de 'A'?



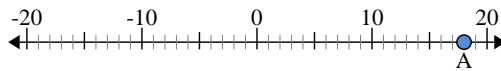
b. ¿Qué tan lejos está 'A' de 0 (valor absoluto)?

2) a. ¿Cuál es el valor de 'A'?



b. ¿Qué tan lejos está 'A' de 0 (valor absoluto)?

3) a. ¿Cuál es el valor de 'A'?



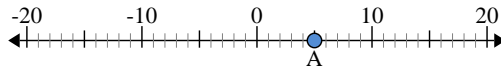
Respuestas

1. _____
2. _____
3. _____
4. _____
5. _____
6. _____
7. _____
8. _____
9. _____
10. _____



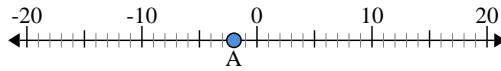
Usar las rectas numéricas para encontrar el valor absoluto.

1) a. ¿Cuál es el valor de 'A'?



b. ¿Qué tan lejos está 'A' de 0 (valor absoluto)?

2) a. ¿Cuál es el valor de 'A'?



b. ¿Qué tan lejos está 'A' de 0 (valor absoluto)?

3) a. ¿Cuál es el valor de 'A'?



Respuestas

1.	<u>5</u>	<u>5</u>
2.	<u>-2</u>	<u>2</u>
3.	<u>18</u>	<u>18</u>
4.	<u>-17</u>	<u>17</u>
5.	<u>0</u>	<u>0</u>
6.	<u>13</u>	<u>13</u>
7.	<u>-14</u>	<u>14</u>
8.	<u>11</u>	<u>11</u>
9.	<u>-4</u>	<u>4</u>
10.	<u>-8</u>	<u>8</u>