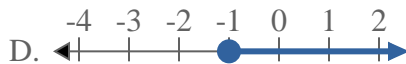
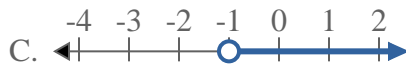
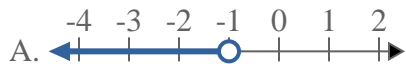
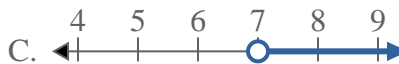

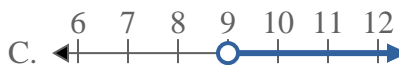
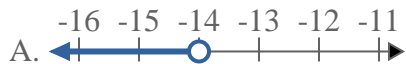
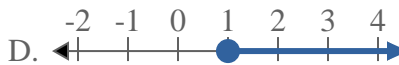
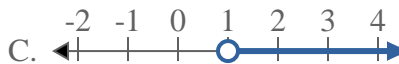
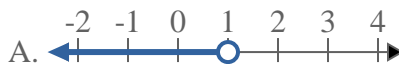
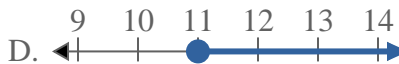
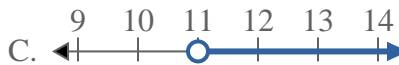
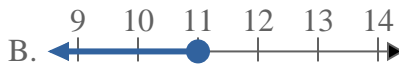
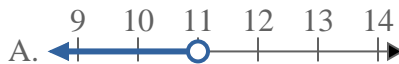




Resuelve cada problema.

Respuestas1) ¿Qué opción representa mejor $X \geq -1$?2) ¿Qué opción representa mejor $X \leq 7$?3) ¿Qué opción representa mejor $X > 14$?4) ¿Qué opción representa mejor $X > 9$?5) ¿Qué opción representa mejor $X < -14$?6) ¿Qué opción representa mejor $X \geq 1$?7) ¿Qué opción representa mejor $X \leq 16$?8) ¿Qué opción representa mejor $X \leq 11$?

1. _____

2. _____

3. _____

4. _____

5. _____

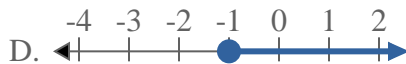
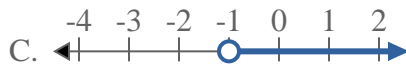
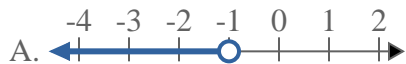
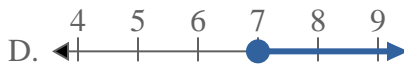
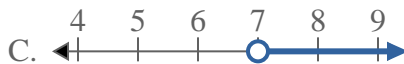

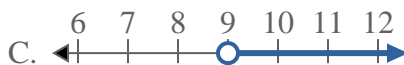
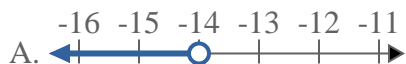
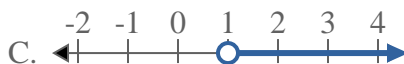
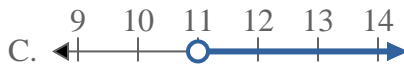
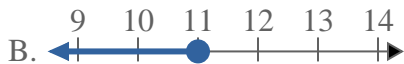
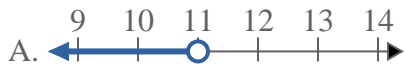
6. _____

7. _____

8. _____



Resuelve cada problema.

Respuestas1) ¿Qué opción representa mejor $X \geq -1$?2) ¿Qué opción representa mejor $X \leq 7$?3) ¿Qué opción representa mejor $X > 14$?4) ¿Qué opción representa mejor $X > 9$?5) ¿Qué opción representa mejor $X < -14$?6) ¿Qué opción representa mejor $X \geq 1$?7) ¿Qué opción representa mejor $X \leq 16$?8) ¿Qué opción representa mejor $X \leq 11$?1. **D** 2. **B** 3. **C** 4. **C** 5. **A** 6. **D** 7. **B** 8. **B**