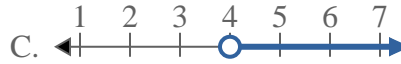
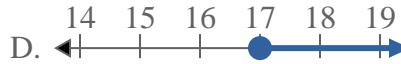
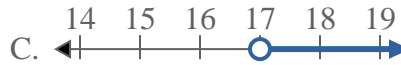
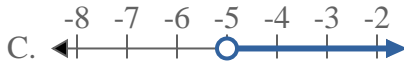
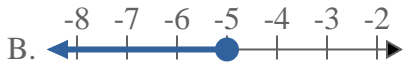
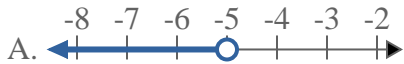
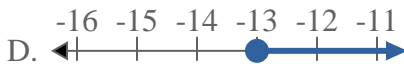
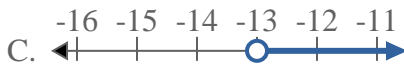
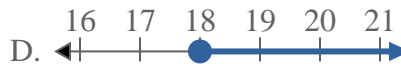
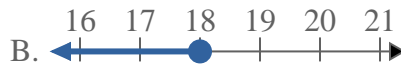
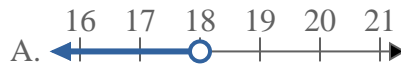




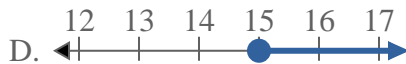
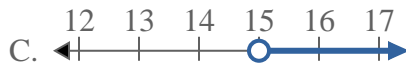
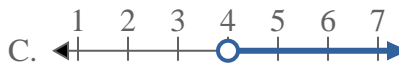
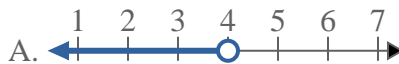
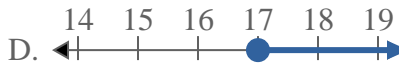
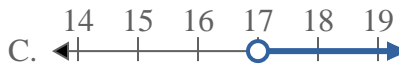
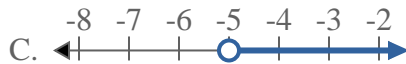
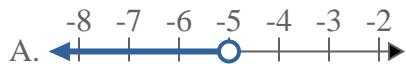
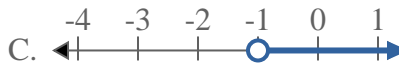
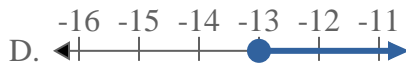
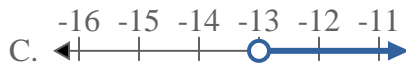
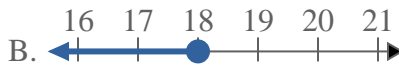
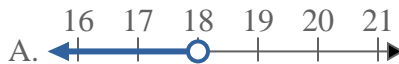
Resuelve cada problema.

Respuestas1) ¿Qué opción representa mejor $X > 15$?2) ¿Qué opción representa mejor $X < 4$?3) ¿Qué opción representa mejor $X \leq 4$?4) ¿Qué opción representa mejor $X < 17$?5) ¿Qué opción representa mejor $X < -5$?6) ¿Qué opción representa mejor $X < -1$?7) ¿Qué opción representa mejor $X < -13$?8) ¿Qué opción representa mejor $X \geq 18$?

1. _____
2. _____
3. _____
4. _____
5. _____
6. _____
7. _____
8. _____



Resuelve cada problema.

Respuestas1) ¿Qué opción representa mejor $X > 15$?2) ¿Qué opción representa mejor $X < 4$?3) ¿Qué opción representa mejor $X \leq 4$?4) ¿Qué opción representa mejor $X < 17$?5) ¿Qué opción representa mejor $X < -5$?6) ¿Qué opción representa mejor $X < -1$?7) ¿Qué opción representa mejor $X < -13$?8) ¿Qué opción representa mejor $X \geq 18$?1. **C** 2. **A** 3. **B** 4. **A** 5. **A** 6. **A** 7. **A** 8. **D**