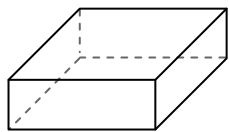




Usar el diagrama para determinar las caras, vértices y bordes de las figuras.

Respuestas

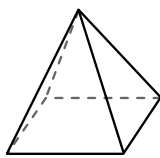
1)



prisma rectangular

caras: _____
vértices: _____
bordes: _____

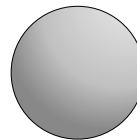
2)



pirámide rectangular

caras: _____
vértices: _____
bordes: _____

3)

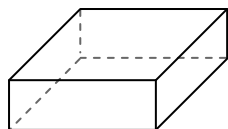


esfera


caras: _____
vértices: _____
bordes: _____

1. _____
2. _____
3. _____
4. _____
5. _____
6. _____

4)



prisma rectangular

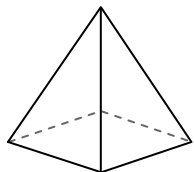


esfera

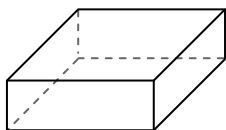
¿Qué forma tiene más caras?

- A. prisma rectangular
- B. esfera
- C. Ambos tienen el mismo número de caras.

5)



pirámide rectangular

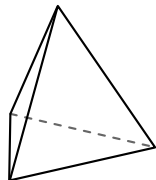


prisma rectangular

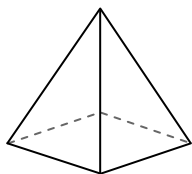
¿Qué forma tiene más vértices?

- A. pirámide rectangular
- B. prisma rectangular
- C. Ambos tienen el mismo número de vértices.

6)



pirámide triangular



pirámide rectangular

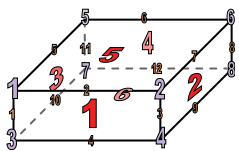
¿Qué forma tiene más bordes?

- A. pirámide triangular
- B. pirámide rectangular
- C. Ambos tienen el mismo número de bordes.



Usar el diagrama para determinar las caras, vértices y bordes de las figuras.

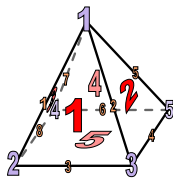
1)



prisma rectangular

caras: 6
vértices: 8
bordes: 12

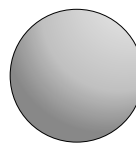
2)



pirámide rectangular

caras: 5
vértices: 5
bordes: 8

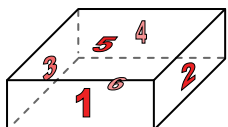
3)




esfera

caras: 1
vértices: 0
bordes: 0

4)



prisma rectangular



esfera

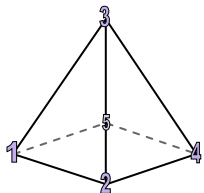
¿Qué forma tiene más caras?

A. prisma rectangular

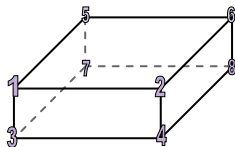
B. esfera

C. Ambos tienen el mismo número de caras.

5)



pirámide rectangular



prisma rectangular

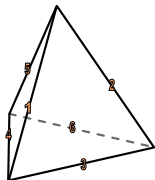
¿Qué forma tiene más vértices?

A. pirámide rectangular

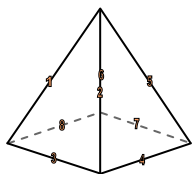
B. prisma rectangular

C. Ambos tienen el mismo número de vértices.

6)



pirámide triangular



pirámide rectangular

¿Qué forma tiene más bordes?

A. pirámide triangular

B. pirámide rectangular

C. Ambos tienen el mismo número de bordes.

Respuestas

1. 6, 8, 12

2. 5, 5, 8

3. 1, 0, 0

4. A

5. B

6. B