





Dibuja cada rectángulo a la escala que se muestra y determinar las nuevas dimensiones.

- 1) The rectangle below has the dimensions: 2×4.2



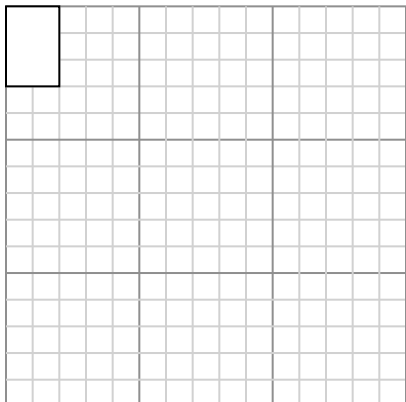
Cree otro rectángulo que esté escalado a 9 multiplicado por el tamaño del rectángulo actual.

- 3) The rectangle below has the dimensions: 2.1×2.4



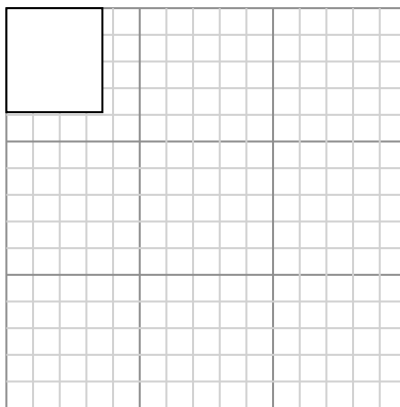
Cree otro rectángulo que esté escalado a 16 multiplicado por el tamaño del rectángulo actual.

- 5) The rectangle below has the dimensions: 2×3



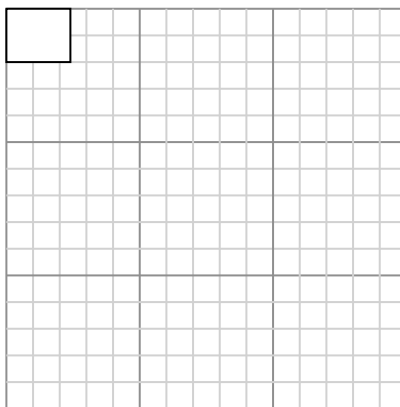
Cree otro rectángulo que esté escalado a 16 multiplicado por el tamaño del

- 2) The rectangle below has the dimensions: 3.6×3.9



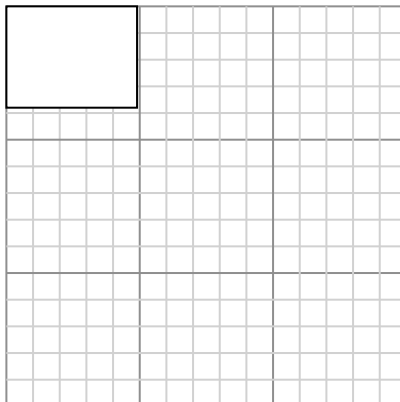
Cree otro rectángulo que esté escalado a 9 multiplicado por el tamaño del rectángulo actual.

- 4) The rectangle below has the dimensions: 2.4×2



Cree otro rectángulo que esté escalado a 9 multiplicado por el tamaño del rectángulo actual.

- 6) The rectangle below has the dimensions: 4.9×3.8



Cree otro rectángulo que esté escalado a 9 multiplicado por el tamaño del rectángulo

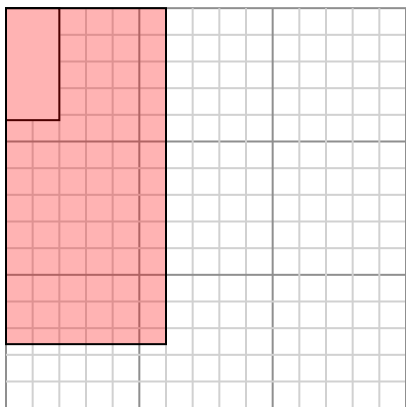
Respuestas

- 1. _____
- 2. _____
- 3. _____
- 4. _____
- 5. _____
- 6. _____



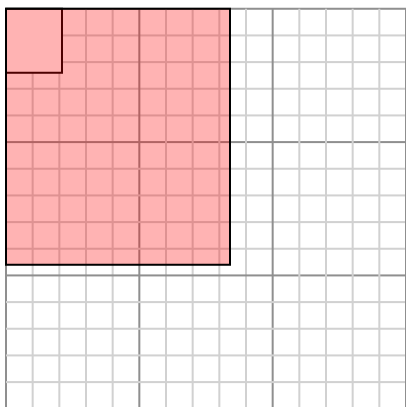
Dibuja cada rectángulo a la escala que se muestra y determinar las nuevas dimensiones.

- 1) The rectangle below has the dimensions:
 2×4.2



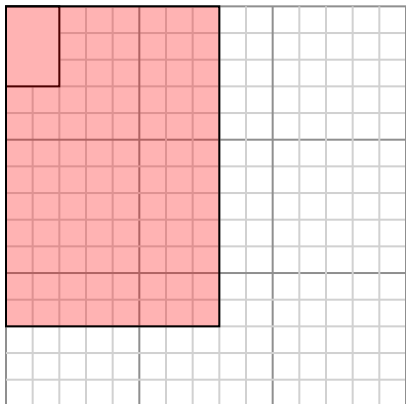
Cree otro rectángulo que esté escalado a 9 multiplicado por el tamaño del rectángulo actual.

- 3) The rectangle below has the dimensions:
 2.1×2.4



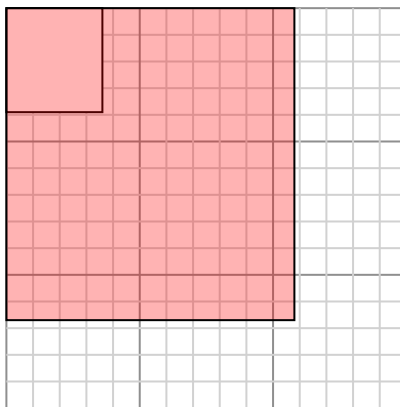
Cree otro rectángulo que esté escalado a 16 multiplicado por el tamaño del rectángulo actual.

- 5) The rectangle below has the dimensions:
 2×3



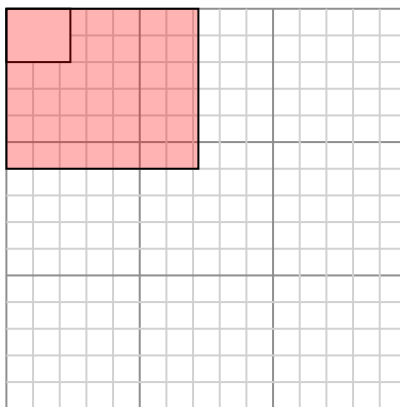
Cree otro rectángulo que esté escalado a 16 multiplicado por el tamaño del

- 2) The rectangle below has the dimensions:
 3.6×3.9



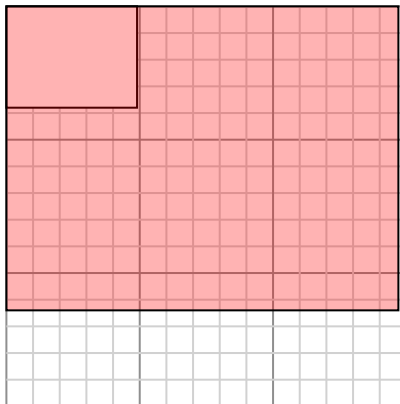
Cree otro rectángulo que esté escalado a 9 multiplicado por el tamaño del rectángulo actual.

- 4) The rectangle below has the dimensions:
 2.4×2



Cree otro rectángulo que esté escalado a 9 multiplicado por el tamaño del rectángulo actual.

- 6) The rectangle below has the dimensions:
 4.9×3.8



Cree otro rectángulo que esté escalado a 9 multiplicado por el tamaño del rectángulo

Respuestas

1. 6×12.6

2. 10.8×11.7

3. 8.4×9.6

4. 7.2×6

5. 8×12

6. 14.7×11.4