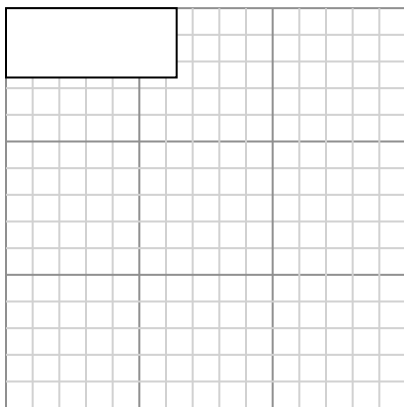




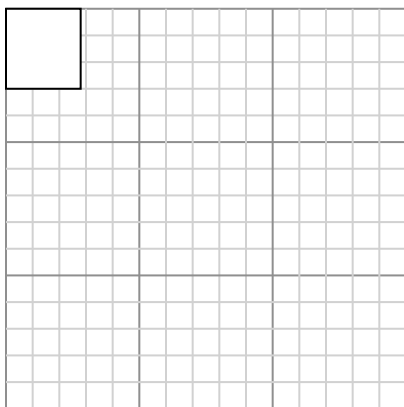
Dibuja cada rectángulo a la escala que se muestra y determinar las nuevas dimensiones.

- 1) The rectangle below has the dimensions: 6.4×2.6



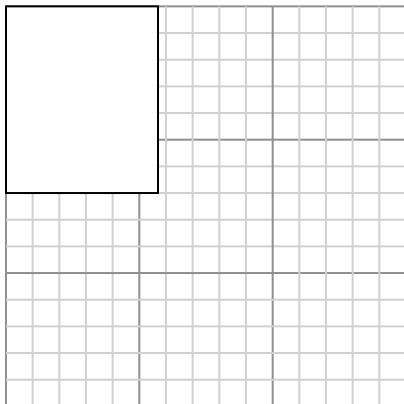
Cree otro rectángulo que esté escalado a 4 multiplicado por el tamaño del rectángulo actual.

- 3) The rectangle below has the dimensions: 2.8×3



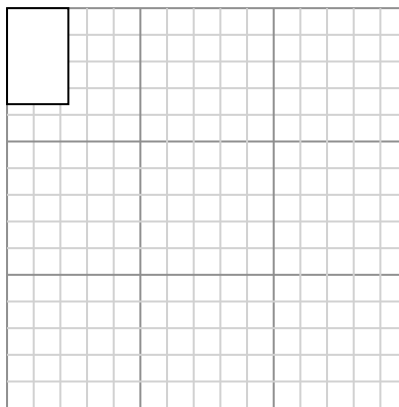
Cree otro rectángulo que esté escalado a 16 multiplicado por el tamaño del rectángulo actual.

- 5) The rectangle below has the dimensions: 5.7×7



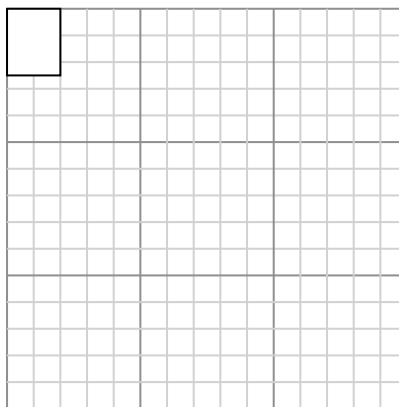
Cree otro rectángulo que esté escalado a 4 multiplicado por el tamaño del rectángulo

- 2) The rectangle below has the dimensions: 2.3×3.6



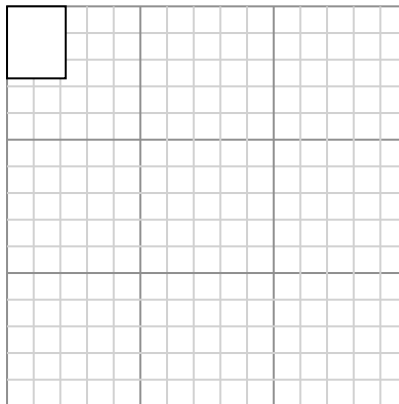
Cree otro rectángulo que esté escalado a 9 multiplicado por el tamaño del rectángulo actual.

- 4) The rectangle below has the dimensions: 2×2.5



Cree otro rectángulo que esté escalado a 9 multiplicado por el tamaño del rectángulo actual.

- 6) The rectangle below has the dimensions: 2.2×2.7



Cree otro rectángulo que esté escalado a 16 multiplicado por el tamaño del

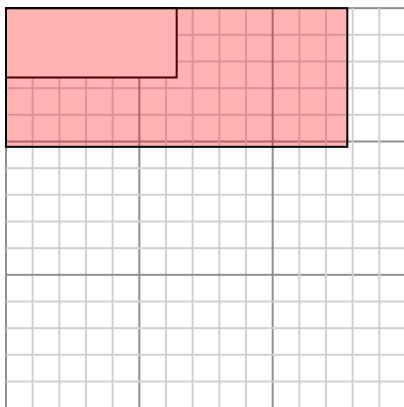
Respuestas

- 1. _____
- 2. _____
- 3. _____
- 4. _____
- 5. _____
- 6. _____



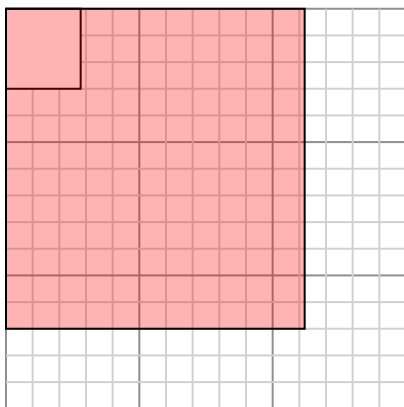
Dibuja cada rectángulo a la escala que se muestra y determinar las nuevas dimensiones.

- 1) The rectangle below has the dimensions:
 6.4×2.6



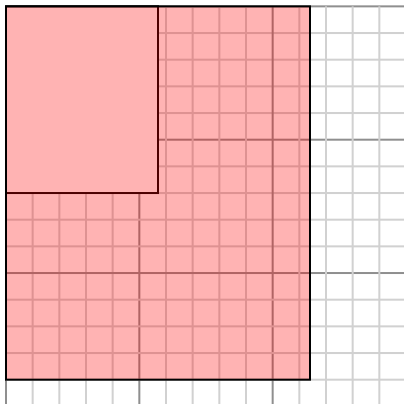
Cree otro rectángulo que esté escalado a 4 multiplicado por el tamaño del rectángulo actual.

- 3) The rectangle below has the dimensions:
 2.8×3



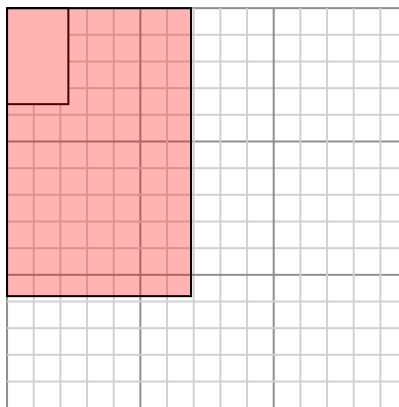
Cree otro rectángulo que esté escalado a 16 multiplicado por el tamaño del rectángulo actual.

- 5) The rectangle below has the dimensions:
 5.7×7



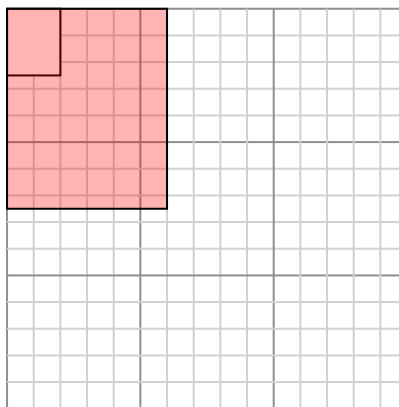
Cree otro rectángulo que esté escalado a 4 multiplicado por el tamaño del rectángulo

- 2) The rectangle below has the dimensions:
 2.3×3.6



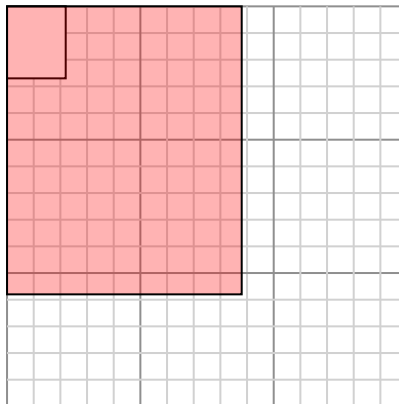
Cree otro rectángulo que esté escalado a 9 multiplicado por el tamaño del rectángulo actual.

- 4) The rectangle below has the dimensions:
 2×2.5



Cree otro rectángulo que esté escalado a 9 multiplicado por el tamaño del rectángulo actual.

- 6) The rectangle below has the dimensions:
 2.2×2.7



Cree otro rectángulo que esté escalado a 16 multiplicado por el tamaño del

Respuestas

1. 12.8×5.2

2. 6.9×10.8

3. 11.2×12

4. 6×7.5

5. 11.4×14

6. 8.8×10.8