



Dibuje la manecilla de las horas y los minutos en el reloj para que represente la hora mostrada.


1) 2:00



2) 2:30



3) 8:15



4) 4:30



5) 10:45




6) 11:00



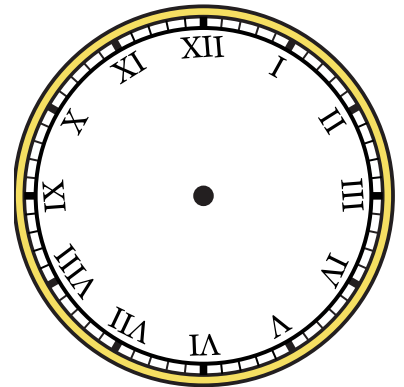
7) 4:00



8) 5:15




9) 12:30






Dibuje la manecilla de las horas y los minutos en el reloj para que represente la hora mostrada.

1) 2:00




2) 2:30



3) 8:15




4) 4:30




5) 10:45



6) 11:00



7) 4:00



8) 5:15



9) 12:30

