

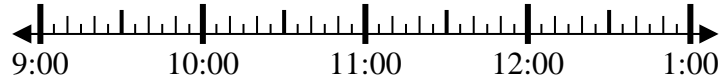


Resuelve cada problema.

1) Inicio: 9:20

Transcurrido: 1 hr y 25 mins

Final: _____



2) Inicio: 2:00

Transcurrido: 2 hrs y 55 mins

Final: _____



3) Inicio: 7:40

Transcurrido: 2 hrs y 15 mins

Final: _____



4) Inicio: 7:15

Transcurrido: 1 hr y 10 mins

Final: _____



5) Inicio: 11:15

Transcurrido: 2 hrs y 25 mins

Final: _____



6) Inicio: 5:30

Transcurrido: 1 hr y 25 mins

Final: _____



7) Inicio: 12:00

Transcurrido: 2 hrs y 40 mins

Final: _____



8) Inicio: 12:15

Transcurrido: 1 hr y 20 mins

Final: _____



Respuestas

1. _____

2. _____

3. _____

4. _____

5. _____

6. _____

7. _____

8. _____



Resuelve cada problema.

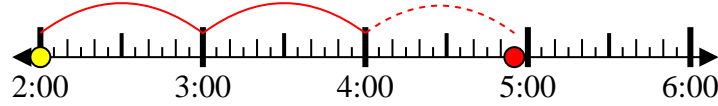
1) Inicio: 9:20

Transcurrido: 1 hr y 25 mins

Final: 10:45

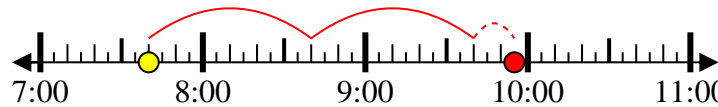
2) Inicio: 2:00

Transcurrido: 2 hrs y 55 mins

Final: 4:55

3) Inicio: 7:40

Transcurrido: 2 hrs y 15 mins

Final: 9:55

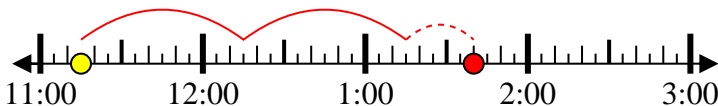
4) Inicio: 7:15

Transcurrido: 1 hr y 10 mins

Final: 8:25

5) Inicio: 11:15

Transcurrido: 2 hrs y 25 mins

Final: 1:40

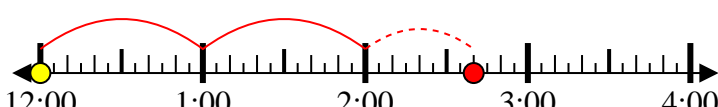
6) Inicio: 5:30

Transcurrido: 1 hr y 25 mins

Final: 6:55

7) Inicio: 12:00

Transcurrido: 2 hrs y 40 mins

Final: 2:40

8) Inicio: 12:15

Transcurrido: 1 hr y 20 mins

Final: 1:35**Respuestas**1. 10:452. 4:553. 9:554. 8:255. 1:406. 6:557. 2:408. 1:35