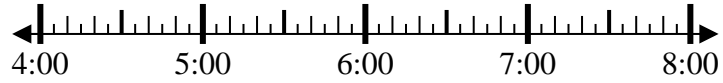


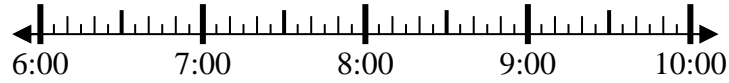


**Resuelve cada problema.**

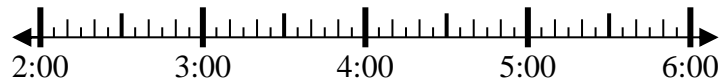
1) Inicio: 4:40  
 Transcurrido: 2 hrs y 20 mins  
 Final: \_\_\_\_\_



2) Inicio: 6:20  
 Transcurrido: 1 hr y 55 mins  
 Final: \_\_\_\_\_



3) Inicio: 2:50  
 Transcurrido: 1 hr y 55 mins  
 Final: \_\_\_\_\_



4) Inicio: 7:05  
 Transcurrido: 2 hrs y 25 mins  
 Final: \_\_\_\_\_



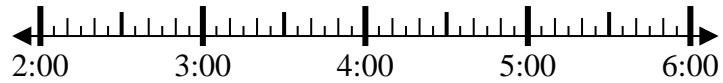
5) Inicio: 3:30  
 Transcurrido: 2 hrs y 15 mins  
 Final: \_\_\_\_\_



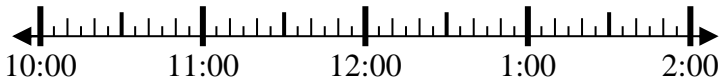
6) Inicio: 7:30  
 Transcurrido: 2 hrs y 25 mins  
 Final: \_\_\_\_\_



7) Inicio: 2:25  
 Transcurrido: 1 hr y 30 mins  
 Final: \_\_\_\_\_



8) Inicio: 10:35  
 Transcurrido: 2 hrs y 50 mins  
 Final: \_\_\_\_\_



**Respuestas**

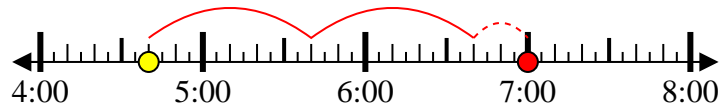
1. \_\_\_\_\_
2. \_\_\_\_\_
3. \_\_\_\_\_
4. \_\_\_\_\_
5. \_\_\_\_\_
6. \_\_\_\_\_
7. \_\_\_\_\_
8. \_\_\_\_\_



Resuelve cada problema.

1) Inicio: 4:40

Transcurrido: 2 hrs y 20 mins

Final: 7:00

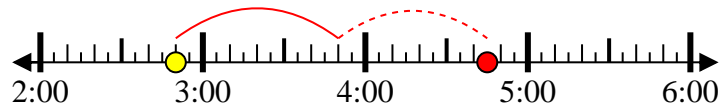
2) Inicio: 6:20

Transcurrido: 1 hr y 55 mins

Final: 8:15

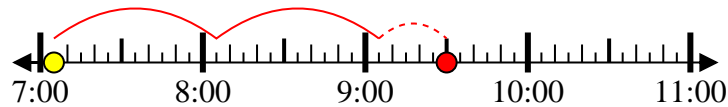
3) Inicio: 2:50

Transcurrido: 1 hr y 55 mins

Final: 4:45

4) Inicio: 7:05

Transcurrido: 2 hrs y 25 mins

Final: 9:30

5) Inicio: 3:30

Transcurrido: 2 hrs y 15 mins

Final: 5:45

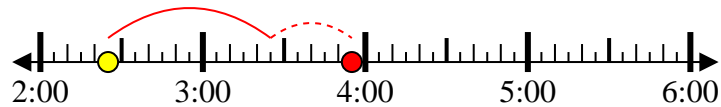
6) Inicio: 7:30

Transcurrido: 2 hrs y 25 mins

Final: 9:55

7) Inicio: 2:25

Transcurrido: 1 hr y 30 mins

Final: 3:55

8) Inicio: 10:35

Transcurrido: 2 hrs y 50 mins

Final: 1:25**Respuestas**1. 7:002. 8:153. 4:454. 9:305. 5:456. 9:557. 3:558. 1:25