



Resuelve cada problema.

Respuestas

1) Inicio: _____
 Transcurrido: 1 hr y 45 mins
 Final: 3:45

1. _____

2) Inicio: _____
 Transcurrido: 2 hrs y 45 mins
 Final: 2:20

2. _____

3) Inicio: _____
 Transcurrido: 1 hr y 10 mins
 Final: 10:10

3. _____

4) Inicio: _____
 Transcurrido: 1 hr y 20 mins
 Final: 1:05

4. _____

5) Inicio: _____
 Transcurrido: 1 hr y 15 mins
 Final: 1:35

5. _____

6) Inicio: _____
 Transcurrido: 1 hr y 10 mins
 Final: 6:35

6. _____

7) Inicio: _____
 Transcurrido: 1 hr y 45 mins
 Final: 4:20


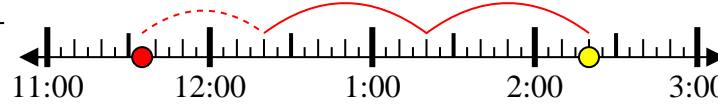

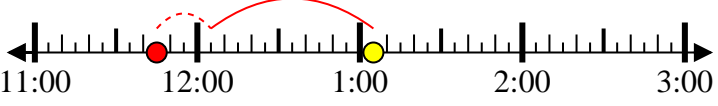

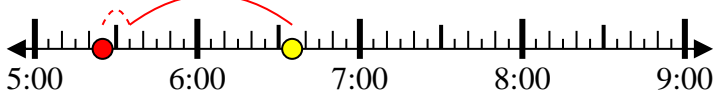
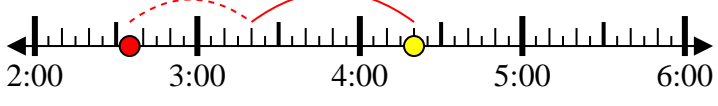
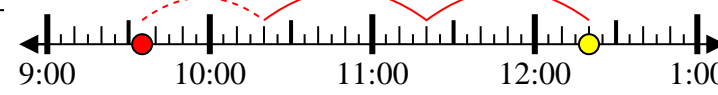
7. _____

8) Inicio: _____
 Transcurrido: 2 hrs y 45 mins
 Final: 12:20

8. _____



Resuelve cada problema.

- 1) Inicio: 2:00
 Transcurrido: 1 hr y 45 mins
 Final: 3:45

- 2) Inicio: 11:35
 Transcurrido: 2 hrs y 45 mins
 Final: 2:20

- 3) Inicio: 9:00
 Transcurrido: 1 hr y 10 mins
 Final: 10:10

- 4) Inicio: 11:45
 Transcurrido: 1 hr y 20 mins
 Final: 1:05

- 5) Inicio: 12:20
 Transcurrido: 1 hr y 15 mins
 Final: 1:35

- 6) Inicio: 5:25
 Transcurrido: 1 hr y 10 mins
 Final: 6:35

- 7) Inicio: 2:35
 Transcurrido: 1 hr y 45 mins
 Final: 4:20

- 8) Inicio: 9:35
 Transcurrido: 2 hrs y 45 mins
 Final: 12:20


Respuestas

1. 2:00
2. 11:35
3. 9:00
4. 11:45
5. 12:20
6. 5:25
7. 2:35
8. 9:35