

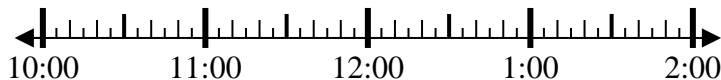
**Resuelve cada problema.****Respuestas**

1)

Inicio: _____

Transcurrido: 1 hr y 30 mins

Final: 12:00



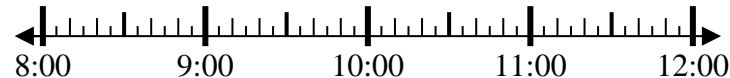
1. _____

2)

Inicio: _____

Transcurrido: 1 hr y 25 mins

Final: 10:00



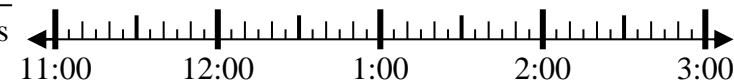
2. _____

3)

Inicio: _____

Transcurrido: 2 hrs y 20 mins

Final: 1:35



3. _____

4)

Inicio: _____

Transcurrido: 1 hr y 50 mins

Final: 9:35



4. _____

5)

Inicio: _____

Transcurrido: 2 hrs y 15 mins

Final: 5:00



5. _____

6)

Inicio: _____

Transcurrido: 2 hrs y 35 mins

Final: 10:45



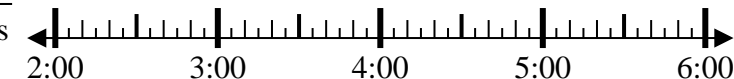
6. _____

7)

Inicio: _____

Transcurrido: 2 hrs y 40 mins

Final: 4:55



7. _____

8)

Inicio: _____

Transcurrido: 1 hr y 45 mins

Final: 10:05



8. _____



Resuelve cada problema.

- 1) Inicio: 10:30
Transcurrido: 1 hr y 30 mins
Final: 12:00
-
- 2) Inicio: 8:35
Transcurrido: 1 hr y 25 mins
Final: 10:00
-
- 3) Inicio: 11:15
Transcurrido: 2 hrs y 20 mins
Final: 1:35
-
- 4) Inicio: 7:45
Transcurrido: 1 hr y 50 mins
Final: 9:35
-
- 5) Inicio: 2:45
Transcurrido: 2 hrs y 15 mins
Final: 5:00
-
- 6) Inicio: 8:10
Transcurrido: 2 hrs y 35 mins
Final: 10:45
-
- 7) Inicio: 2:15
Transcurrido: 2 hrs y 40 mins
Final: 4:55
-
- 8) Inicio: 8:20
Transcurrido: 1 hr y 45 mins
Final: 10:05
-

Respuestas

1. 10:30
2. 8:35
3. 11:15
4. 7:45
5. 2:45
6. 8:10
7. 2:15
8. 8:20